



T.C.
MİLLÎ EĞİTİM BAKANLIĞI

4

DEVLET PARASIZ YATILILIK VE BURSLULUK SINAVI TEST KİTAPÇIĞI

4. SINIF

21 HAZİRAN 2003 Saat: 10.00

Adayın Adı ve Soyadı :

Aday Numarası :

DİKKAT: 1. Test kitapçıklarını kontrol ederek, baskı hatası olan kitapçığın değiştirilmesi için salon sorumlularına başvurunuz.
2. Test kitapçığının ön ve arka yüzündeki açıklamaları okuyunuz.
3. Sınavda hesap makinesi, cep telefonu ve çağrı cihazı kullanılması yasaktır. Bu cihazları sınav başlamadan önce salon başkanına teslim ediniz.

CEVAP KÂĞIDI İLE İLGİLİ AÇIKLAMA

1. Cevap kağıdı üzerine yapacağınız işaretlemelerde siyah kurşun kalemden başka kalem kullanmayınız.
2. **Size verilen cevap kâğıdında yazılı olan bilgilerin size ait olup olmadığını kontrol ediniz.** Size ait değilse salon sorumlularına söyleyiniz. Adınıza yazılı cevap kâğıdı bulunamıyorsa veya cevap kâğıdınız kullanılamayacak şekilde bozursa, size verilecek olan yedek cevap kâğıdına, kimliğinizle ilgili bilgileri, salon başkanının açıklamalarına göre yazınız.
3. Cevap kâğıdında **TÜRKÇE, MATEMATİK, FEN BİLİMLERİ ve SOSYAL BİLİMLER** testleri için dört ayrı sütun bulunmaktadır. Cevaplarınızı cevap kâğıdındaki ilgili sütunlara aşağıdaki örnekte olduğu gibi yuvarlağı, dışına taşırmadan işaretleyiniz. Yanlış karalamalarınızı düzeltirken yuvarlağın içini temizce siliniz.

ÖRNEK KODLAMA



TEST KİTAPÇIĞI İLE İLGİLİ AÇIKLAMA

1. Bu test kitapçığında **TÜRKÇE testinde 25, MATEMATİK testinde 25, FEN BİLİMLERİ testinde 25 ve SOSYAL BİLİMLER testinde 25** olmak üzere toplam **100** soru bulunmaktadır. Testin tümü için verilen cevaplama süresi **120 dakikadır**.
2. Her sorunun dört seçeneğı vardır. Dört seçenekten sadece bir tanesi doğru cevaptır. Doğru bulduğunuz seçeneğı cevap kâğıdında o soru için ayrılan yerde bularak işaretleyiniz.
3. Size ayrı bir karalama kâğıdı verilmeyecektir. Test kitapçığının içindeki boş alanları karalama yapmak için kullanabilirsiniz.
4. Cevabını bilmediğiniz sorular üzerinde fazla zaman kaybetmeden diğer sorulara geçiniz. Zamanınız kalırsa bu sorulara daha sonra dönebilirsiniz.
5. Puanlamada her soru grubu için yanlış cevap sayısının **üçte biri, doğru cevap sayısından çıkarılarak** geçerli cevaplara karşı gelen ham puan tespit edilecektir. Bu nedenle rastgele cevaplama yapmayınız.
6. Sınavın bitiminde cevap kâğıdınızı ve soru kitapçığınızı salon sorumlularına teslim etmeyi unutmayınız.

BAŞLAYINIZ DENİLMEYEN TEST KİTAPÇIĞINI AÇMAYINIZ.

1. Aşağıdaki sözcükler anlam yönünden gruplandırılırsa hangisi dışarıda kalır?

- A) Tasa B) Öfke C) Kaygı D) Üzüntü

2. Aşağıdaki cümlelerin hangisindeki altı çizili sözcük soyut anlamlıdır?

- A) Onu saygı ile anıyoruz.
B) Gazetelerden resimleri kestik.
C) Çiçek, bahçelerin süsüdür.
D) Hırçın dalgalar sahili dövüyor.

3. Aşağıdaki cümlelerin hangisinde hâl eki almış sözcük yoktur?

- A) Bir süre sonra öğrenciler okula geldiler.
B) Şehrin en işlek caddelerinde dolaştık.
C) Geldiğim yeri, özlemle anıyorum.
D) Usta, çok güzel tahta kaşıklar yapmış.

4. Bir senenin dört mevsimi güzeldir,
Ama ilkbaharın ayrı süsü var.
Eksikleri gedikleri düzeltir,
Kendisine mahsus bir övgüsü var.
(Abdülvahap KOCAMAN)

Dörtlükte vurgulanan aşağıdakilerden hangisidir?

- A) Her mevsimin güzel olduğu
B) İlkbaharın herkes tarafından sevildiği
C) Mevsimlerin en güzelinin ilkbahar olduğu
D) Bir yılın dört mevsimden oluştuğu

5. Aşağıdaki sözcüklerden hangisi ünlü ile başlayan bir ek aldığına sözcüğün sonundaki ünsüz yumuşamaz?

- A) Ağaç B) Bisiklet C) Kasap D) Fındık

6. Aşağıdakilerden hangisi isim cümlesidir?

- A) Evin arkası güzel bir bahçedir.
B) Onunla siz de gelebilirsiniz.
C) Her gün en az bir gazete okumalısınız.
D) Burada uyuyabileceğimi söylemişti.

7. Aşağıdaki cümlelerin hangisinde işi yapan kişi, sözcük olarak yer almamıştır?

- A) Bu evi yıllar önce dedem yaptırmış.
B) Okul müdürü törende bir konuşma yaptı.
C) Kalemleri, arkadaşlarına birer birer dağıttı.
D) Babam, bana kocaman bir hediye aldı.

8. Bir yıldızlı gece... Sahrada kurbağa sesleri duyuluyordu. Ilık bahar karanlığı altında, havada olgun bir meyve kokusu vardı; yaz geliyordu.

(R.Halit Karay)

Parçadaki ayrıntıların seçiminde, aşağıdaki duyuların hangisinden yararlanılmamıştır?

- A) Görme B) İşitme
C) Dokunma D) Tatma

9. Aşağıdaki cümlelerin hangisindeki tamlamanın türü diğerlerinden farklıdır?

- A) Dağın eteğinde hâlâ kar vardı.
B) Siz, bu apartmanda mı oturuyorsunuz?
C) Yemyeşil oavadan geçip köye vardık.
D) Bana hangi kitapları getireceksin?

10. Aşağıdaki cümlelerin hangisinde ünlü (sesli) düşmesine uğrayan bir sözcük yoktur?

- A) Karnının ağrısından kıvranıp duruyordu.
B) Sınıfını geçmek için elinden geleni yaptı.
C) Küçük oğluna, yine öğüt veriyordu.
D) Kış günü, bağı açık geziyordu.

11. "Tatlı" sözcüğünün, aşağıdakilerden hangisinin önüne getirilmesi uygun değildir?

- A) Biber B) Elma C) Şeker D) Nar

12. O benim milletimin yıldızıdır, parlayacak;
O benimdir, o benim milletimindir ancak.
(M.Âkif Ersoy)

Bu dizelerdeki "o" sözcüğü, aşağıdakilerden hangisinin yerine kullanılmıştır?

- A) Milletin B) Bayrağın
C) Vatanın D) Gökyüzünün

13. Aşağıdaki cümlelerin hangisinde eylemin (fiil) gerçekleştiği yer bellidir?

- A) Dün akşam top oynadık.
- B) Televizyondaki eğitici programları çok seviyorum.
- C) Her hafta, eski dostlarla görüşüyoruz.
- D) Ali ile arkadaşları sokakta oynuyorlar.

14. Aşağıdaki dizelerin hangisinde, ulama vardır?

- A) Can kafeste durmaz uçar,
- B) Dünya bir han, konan göçer,
- C) Ay dolanır, yıllar geçer,
- D) Dostlar beni hatırlasın.

15. Haydi çocuklar haydi,
Salıncaklar kurun!

Bakın dallar eğilmiş,
Sizi çağırıyor,

Diyorlar ki: - Yemişlerimizden buyurun.
(Ziya Osman Saba)

Dörtlüğün şairi için aşağıdakilerden hangisini sevdiği söylenemez?

- A) Yaşamayı
- B) Çocukları
- C) Doğayı
- D) Yalnızlığı

16. Seni bir yerden gözüm ısıyor.

Bu cümlelerin anlamı aşağıdakilerden hangisiyle aynıdır?

- A) Seni geçen gün burada görmüştüm.
- B) Aklından geçenleri bir bilebilsem...
- C) Seni daha önce görmüş gibiyim.
- D) Bugün ne kadar neşelisin böyle.

17. Her işi yapmanın bir yolu ve yöntemi vardır. Küçük bir şeyi elde etmek için uygulanan yöntemle büyük bir iş yapmaya kalkarsak, başarılı olamayız.

Paragraftaki açıklamaya uygun düşen atasözü aşağıdakilerden hangisidir?

- A) Şahin ile deve avlanmaz.
- B) Değirmen iki taştan, muhabbet iki baştan.
- C) İşini kış tut, yaz çıkarsa bahtına.
- D) Şahin küçüktür, ama koca turnayı havadan indirir.

18. Nerede yürek çarpıyorsa, orada umut çiçekleniyor demektir. Umut da aşk gibi insana özgü bir duygudur. Hastalıkların, yıkımların altından umutlar yeşerir hep.

Paragraftan, "umut" ile ilgili olarak, aşağıdakilerden hangisi çıkarılamaz?

- A) İnsana ait olduğu
- B) Zamanla yok olabileceği
- C) İnsana mutluluk verdiği
- D) Güçlü bir duygu olduğu

19. Aşağıdaki cümlelerin hangisinde noktalama yanlışlığı vardır?

- A) Ahmet, Ali'ye kitaplarını vermiş.
- B) Ona niye böyle davrandın?
- C) Sabahları bu, gürültü hiç çekilmiyor.
- D) Haydi, yürüyün çocuklar gidelim!

20. Uçun kuşlar uçun, doğduğum yere,
Şimdi dağlarında mor sümbül vardır.
Ormanlar koynunda serin bir dere,
Dikenler içinde sarı gül vardır.

(R.Tevfik Bölükbaşı)

Şiirin teması, aşağıdakilerden hangisidir?

- A) Sıla özlemi
- B) Doğa güzelliği
- C) Kuş sevgisi
- D) Derelerin serinliği

21. Yeni aldıkları ev çok

Bu sözcükler aşağıdakilerden hangisiyle sürdürülürse anlatım bozukluğu oluşur?

- A) Genişti
- B) Uzaktaydı
- C) Yıpranmıştı
- D) Derindi

22. Gecekonduların yerine oturaklı, görkemli, büyük binalar yapılmış.

Bu cümledeki altı çizili sözcüğün anlamı aşağıdakilerden hangisiyle karşılanabilir?

- A) Tutarlı
- B) Dayanıklı
- C) Bakımlı
- D) Ölçülü

23. Aşağıdaki sözcüklerden hangisinin yapısı diğerlerinden farklıdır?

- A) Çiçek
- B) Araba
- C) Tarak
- D) Kelebek

24. Aşağıdaki cümlelerin hangisinde yazım yanlışı vardır?

- A) Bugün tiyatroya da sinemaya da gidebiliriz.
- B) Kardeşim, köpeğinin adını "Karabaş" koydu.
- C) Babamla Adana'ya gideceğiz.
- D) Akşam bize oturmaya gelecekmişiniz?

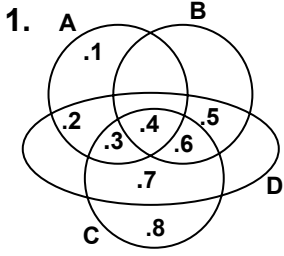
25. Hangi seçenekteki sözcükler anlam ilişkisi bakımından diğerlerinden farklıdır?

- A) Ağır - hafif
- B) Bütün - tam
- C) Çabuk - tez
- D) Çağrı - davet

TÜRKÇE TESTİ BİTTİ.
MATEMATİK TESTİNE GEÇİNİZ.

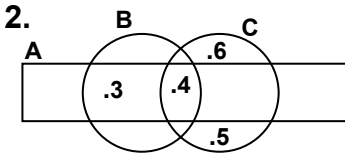
MATEMATİK TESTİ

4. SINIF



Şemada gösterilen A, B, C ve D kümelerine göre, aşağıdakilerden hangisi yanlıştır?

- A) 4, dört kümenin de elemanıdır.
 B) 3, D kümesinin elemanıdır.
 C) En az A kümesinin elemanı vardır.
 D) En çok D kümesinin elemanı vardır.



Şema ile gösterilen A, B ve C kümelerine göre, aşağıdakilerden hangisi doğrudur?

- A) $A=B$ B) $B=C$ C) $A=C$ D) $B=C$

3. Rakamları birbirinden farklı beş basamaklı en küçük doğal sayı ile rakamları birbirinden farklı üç basamaklı en büyük doğal sayının farkı kaçtır?

- A) 9247 B) 9235 C) 11358 D) 13233

4. 66700 sayısından hangi sayı çıkartılırsa, dört basamaklı en küçük sayı elde edilir?

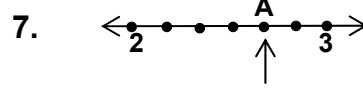
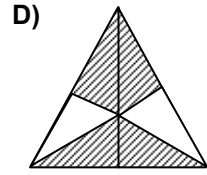
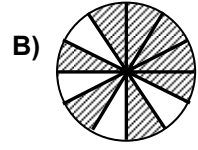
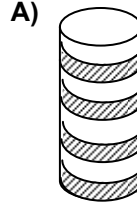
- A) 65700 B) 60700 C) 6700 D) 5700

5. "Hangi sayının 7 eksiğinin $\frac{2}{3}$ si 36 eder?"

Bu problemin çözümü, aşağıdakilerden hangisinde verilmiştir?

- A) $36 \times 2 = 72$ B) $36 \times 3 = 108$
 $72 : 3 = 24$ $108 : 2 = 54$
 $24 + 7 = 31$ $54 - 7 = 47$
 C) $36 : 2 = 18$ D) $36 : 3 = 12$
 $18 \times 3 = 54$ $12 \times 2 = 24$
 $54 + 7 = 61$ $24 - 7 = 17$

6. Aşağıdaki bütünler eş parçalara bölünmüştür. Hangisindeki taralı kısımlar $\frac{2}{3}$ kesrine karşılık gelmez?



Verilen sayı doğrusunda, 2 ile 3 arası 6 eş parçaya bölünmüştür. A noktasına karşılık gelen kesir sayısı hangisidir?

- A) $2\frac{5}{6}$ B) $2\frac{1}{3}$ C) $2\frac{2}{3}$ D) $2\frac{1}{2}$

8. 5342 ve 0,045 sayılarındaki 5 rakamlarının basamak değerleri çarpımı hangisidir?

- A) 0,25 B) 2,5 C) 25 D) 250

9. $\frac{88}{0,88} \times \frac{0,4}{4}$ işleminin sonucu hangisidir?

- A) 0,1 B) 10 C) 100 D) 1000

10. 85,123 sayısında, onda birler basamağındaki rakamın sayı değeri kaçtır?

- A) 0,1 B) 0,2 C) 1 D) 2

11. $\frac{3}{5} + 0,7 + 2\frac{7}{10}$ işleminin sonucu hangisidir?

- A) 40 B) 4 C) 0,4 D) 0,04

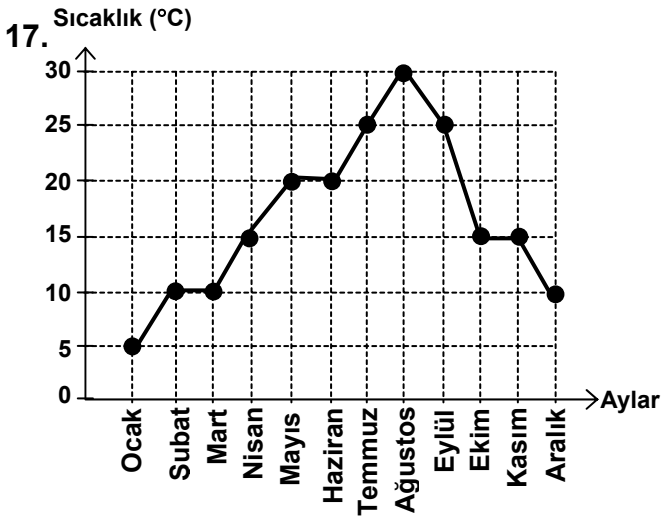
12. $(5 - 0,47) - (3,02 - 0,2)$ işleminin sonucu hangisidir?
A) 17,1 B) 17,01 C) 1,71 D) 1,071

13. Bir tarlanın beşte üçüne buğday, geri kalan kısmına nohut ekiliyor. Nohut ekilen kısım tarlanın kaçta kaçtır?
A) yarısı B) onda yedisi
C) beşte ikisi D) dörtte biri

14. 4,2 kg pirincin $\frac{3}{7}$ ü kaç kilogram pirinç eder?
A) 0,18 B) 1,8 C) 2,2 D) 2,4

15. $0,63 \text{ hm} - 4,8 \text{ dam} + 500 \text{ cm}$ işleminin sonucu kaç metredir?
A) 0,2 B) 2 C) 20 D) 200

16. 12,5 metrelik bir kumaşın önce 4,7 metresi, sonra 4,1 desimetresi satılmıştır. Kalan kumaş kaç santimetredir?
A) 370 B) 470 C) 511 D) 739



Verilen grafik, bir ilin aylara göre sıcaklık ortalamalarını göstermektedir. Sıcaklık ortalaması 10°C ile 25°C arasında olan kaç ay vardır?

- A) 6 B) 5 C) 4 D) 3

18. Verilen herhangi bir açıyı ölçmek için hangi araç gereklidir?

- A) Cetvel B) Pergel
C) Gönye D) İletki

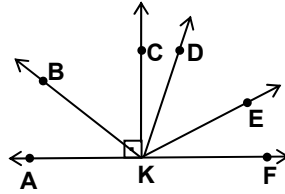
19. Aşağıdakilerden hangisi yanlıştır?

- A) Noktanın boyutu yoktur.
B) Doğrunun belirli bir uzunluğu vardır.
C) Doğru parçası, her iki yönden sınırlıdır.
D) Işının belirli bir uzunluğu yoktur.

20. Aşağıdakilerden hangisi her zaman doğrudur?

- A) İki dar açının ölçüleri toplamı 90° den küçüktür.
B) İki geniş açının ölçüleri toplamı 180° den küçüktür.
C) Bir dar açı ile bir geniş açının ölçüleri toplamı 180° den küçüktür.
D) Bir dik açı ile bir dar açının ölçüleri toplamı 180° den küçüktür.

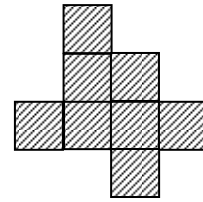
- 21.



Şekildeki KC ışını, AF doğrusuna diktir. Aşağıdaki açılardan hangisi geniş açıdır?

- A) $\hat{A}KC$ B) $\hat{D}KE$ C) $\hat{D}KF$ D) $\hat{B}KF$

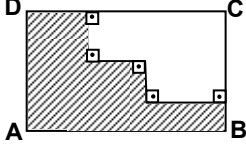
- 22.



Taralı şekil, birbirine eş karelerden oluşmaktadır. Taralı bölgenin çevresinin uzunluğu, karelerden birinin çevresinin uzunluğunun kaç katıdır?

- A) 4 B) 6 C) 8 D) 16

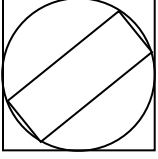
23.



Şekilde ABCD dikdörtgeninin boyu 16 cm, eni 10 cm dir. Buna göre, taralı bölgenin çevresinin uzunluğu kaç cm dir?

- A) 64 B) 52 C) 48 D) 36

24.



İç içe çizilen şekildeki kare, çember ve dikdörtgenin çevrelerinin uzunlukları, sırasıyla K, Ç ve D dir. Buna göre, aşağıdaki sıralamalardan hangisi doğrudur?

- A) $K > Ç > D$ B) $D > K > Ç$
C) $Ç > D > K$ D) $K > D > Ç$

25. Aşağıdaki cisimlerden hangilerinin ayrıt sayıları birbirine eşittir?

- I- Küp
II- Dikdörtgenler prizması
III- Üçgen prizma
IV- Kare prizma

- A) I ve III B) II ve III
C) I, III ve IV D) I, II ve IV

MATEMATİK TESTİ BİTTİ.
FEN BİLİMLERİ TESTİNE GEÇİNİZ.

1. CO₂ gazı atmosferde normalden fazla olursa aşağıdaki olaylardan hangisi gerçekleşir?

- A) Kömür yatakları çoğalır.
- B) Fotosentez hızı artar.
- C) Bitki çeşitliliği artar.
- D) Yeryüzünün sıcaklığı değişir.

2. Atmosferin yapısı ve bileşimi hakkında bilgisi olan bir öğrenci aşağıdaki sorulardan hangisini “evet” diye cevaplar?

- A) Atmosferdeki azot oranı azalırsa solunum kolaylaşır mı?
- B) Atmosferdeki karbondioksitin miktarının artması solunumda önemli problem oluşturur mu?
- C) Atmosferdeki oksijen oranı azaldığında bugünkü canlılar yaşar mı?
- D) Atmosferdeki hidrojen oranı arttığında oksijen oranı da artar mı?

3. Bazı dağlarda deniz canlılarının kabuklarına rastlanır. Bu durum aşağıdakilerden hangisi ile kesinlikle açıklanamaz?

- A) Bir zamanlar deniz olan yerlerin yükselerek kara halini alması
- B) Denizdeki midye gibi canlıların eskiden karada yaşayan canlılar tarafından toplanıp yenmesi
- C) Deniz sularının büyük fırtınalarla karalara taşındığı
- D) Deniz canlılarının bir zamanlar karada yaşadığı

4. Yağışların oluşumunda aşağıdakilerden hangisi doğrudan etkili değildir?

- A) Sıcaklık değişimi
- B) Buharlaştırma
- C) Yeryüzündeki sular
- D) Gelgit olayı

5. Yerkürenin iç katmanlarının sıcak olması aşağıdakilerden hangisiyle açıklanamaz?

- A) Çöllerdeki sıcaklığın fazla olması
- B) Yeryüzünden derinlere inildikçe sıcaklıkta artış olması
- C) Yeryüzüne çıkan lavların sıcak olması
- D) Kaplıca sularının sıcak olması

6. Aşağıdakilerden hangileri yerkabuğunu oluşturan kayaç çeşitlerindedir?

- I- Magmatik kayaçlar
- II- Tortul kayaçlar
- III- Başkalaşım kayaçları

- A) Yalnız I ve II
- B) Yalnız I ve III
- C) Yalnız II ve III
- D) I - II ve III

7. Depremi şiddetini ölçen alet aşağıdakilerden hangisidir?

- A) Sismograf
- B) Radar
- C) Mikroskop
- D) Enjektör

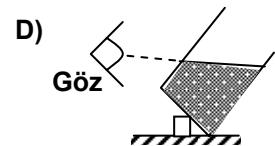
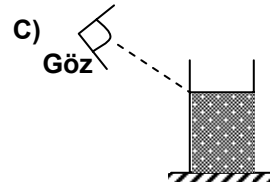
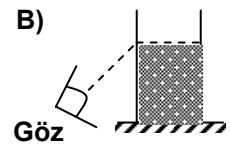
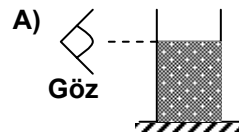
8. Aşağıdakilerden hangisinin yapımında kullanılan madde yanlış verilmiştir?

- A) Kağıt → odun
- B) Plâstik kap → petrol
- C) Cam → kum
- D) Tebeşir → Yemek tuzu

9. Kaplıca sularının enerji kaynağı aşağıdakilerden hangisidir?

- A) Güneş
- B) Yer yuvarlığının iç yapısı
- C) Bitki örtüsü
- D) Kayaçlar

10. Dereceli silindirdeki sıvıların hacminin okunmasında hangisindeki gibi davranılmalıdır?



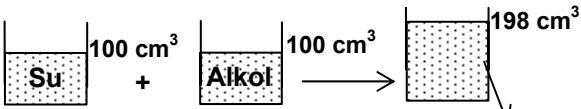
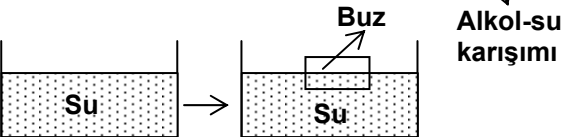
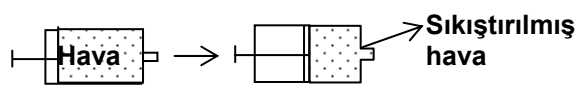
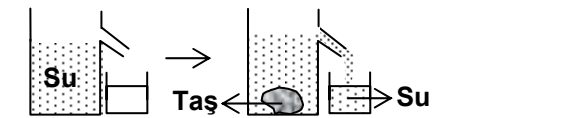
11.

	Dara	Brüt
X	400 g	2,2 kg
Y	300 g	1,8 kg
Z	800 g	2 kg
K	100 g	1,1 kg
M	600 g	1,6 kg

X, Y, Z, K ve M kapları, eşit hacimli, aynı sıcaklıktaki sıvılar ile doludur. Bu kapların daraları ve brüt değerleri tablodaki gibi olduğuna göre aşağıdakilerden hangisi doğrudur?

- A) K ve M kaplarında bulunan sıvıların kütleleri eşittir.
 B) X ve Y kaplarında bulunan sıvıların öz kütleleri aynıdır.
 C) Z kabında bulunan sıvının kütlesi en büyüktür.
 D) Y kabındaki sıvının öz kütlesi, K ve M kaplarında bulunan sıvıların öz kütlelerinden küçüktür.

12. Aşağıdakilerden hangisi maddeyi oluşturan atom veya moleküller arasında boşluk bulunduğunu göstermez?

- A) 
- B) 
- C) 
- D) 

13.

Madde	Kütle (g)	Hacim (cm ³)	Yoğunluk (g/cm ³)
K	10	-	2
L	10	20	-
M	20	10	-
N	-	10	3

Tabloda K, L, M ve N maddelerinin bazı özellikleri verilmiştir. Buna göre hangi maddeler aynı olabilir?

- A) K ve N
 B) L ve M
 C) K ve M
 D) L ve N

14. Aşağıdaki canlılardan hangisinin, vücut sıcaklığı her mevsim aynıdır?

- A) Yılan
 B) Serçe
 C) Alabalık
 D) Kertenkele

15.

K canlısı	L canlısı	M canlısı	N canlısı
Yüzer	Yüzer	Sürünür	Uçar
Omurgalı	Omurgasız	Omurgalı	Omurgalı
Kaygan Derili	Pullarla kaplı	Kalın pullarla kaplı	Tüylü

Yukarıdaki tabloya göre hangisinde verilen canlılar aynı gruptandır?

- A) L-M
 B) L-N
 C) K-M-N
 D) K-L-M

16. Aşağıdakilerden hangisi çiçeksiz bitkilerde görülmez?

- A) Sporla çoğalma
 B) Besin yapma
 C) Tohum üretme
 D) Nemli bölgelerde yaşama

17. • Bazı türleri insan vücudunda hastalık oluşturur.
 • Hepsi tek bir hücreye sahiptir.
 • Kendi başlarına yaşamaları için gerekli yapılara sahiptirler.

Yukarıdaki bilgiler, hangi canlı grubuna aittir?

- A) Bitki
 B) Bakteri
 C) Mantar
 D) Virüs

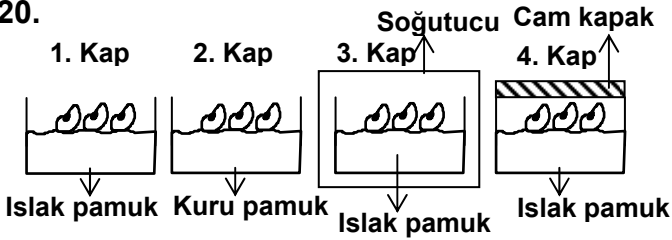
18. Hücrede, canlılık olaylarını kontrol eden ve kalıtsal maddeyi içeren kısım hangisidir?

- A) Sitoplazma B) Çekirdek
C) Hücre zarı D) Hücre duvarı

19. Aşağıdakilerden hangisi canlıların ortak özelliklerinden değildir?

- A) Solunum yapma
B) Uyarıcılara tepki verme
C) Yer değiştirme
D) Üreme

20.



Yukarıdaki deney düzenekleri aynı ortamdadır. Bir süre sonra sadece 1. kaptaki fasulye tohumları çimlenmiştir. Buna göre, çimlenme için aşağıdakilerden hangisi gerekli değildir?

- A) Nem B) Hava
C) Uygun sıcaklık D) Gübre

21. I- Nemli havanın bazı yerlerde yoğunlaşması
II- Havadaki nem miktarının artması
III- Özellikle sabahları soğuk yüzeylerde su damlacıklarının görülmesi
IV- Sıcak havanın etkisiyle suyun buharlaşması
Çiy oluşumunda, yukarıdaki olaylar hangi sırayla gerçekleşir?

- A) IV-II-I-III B) II-IV-III-I C) I-IV-II-III D) III-I-IV-II

22. Aşağıdaki davranışlardan hangisi içgüdüsel değildir?

- A) Yeni doğan kedi yavrusunun, anne sütünü emmesi
B) Bazı kuşların, sıcak bölgelere göç etmesi
C) Bazı balıkların, yumurtlamak için göç etmesi
D) Köpeğin, atılan tahta parçasını geri getirmesi

23. Bir öğrenci, aşağıdakilerden hangisinin hücre-sini incelediğinde hücre duvarını görür?

- A) Karaciğerin B) Bağırsağın
C) Kurbağa derisinin D) Üzüm yaprağının

24. Aşağıdakilerden hangisi yumuşakçalar grubundandır?

- A) Salyangoz B) Kelebek
C) Örümcek D) Deniz yıldızı

25. Polenlerin, dişi organ üzerindeki yapışkan bölüme taşınmasına ne denir?

- A) Tozlaşma B) Mayalanma
C) Döllenme D) Başkalaşım

FEN BİLİMLERİ TESTİ BİTTİ.
SOSYAL BİLİMLER TESTİNE GEÇİNİZ.

1. Tarih, "Tarih Öncesi Devirler" ve "Tarih Devirleri" diye ikiye ayrılmıştır.

Bu ayırmada belirleyici alan aşağıdakilerden hangisinin icâdidir?

- A) Tekerleğin B) Pusulanın
C) Paranın D) Yazının

2. Roma İmparatorluğu'nda, iç karışıklıkların çıkmasına ve imparatorluğun 395 yılında Doğu ve Batı Roma olarak ayrılmasına sebep olan önemli gelişme aşağıdakilerden hangisidir?

- A) Kadeş Antlaşması B) Fransız İhtilâli
C) Haçlı Seferleri D) Kavimler Göçü

3. Türk tarihinin zenginliğine inanan Atatürk, tarihimizin ve millî kültürümüzün araştırılması ve geliştirilmesi için büyük çaba harcamıştır.

Atatürk, bu amaçla aşağıdaki kurumlardan hangisinin kurulmasını istemiştir?

- A) Millî Eğitim Vakfı
B) Türk Tarih Kurumu
C) Türkiye Radyo ve Televizyon Kurumu
D) Türk Dil Kurumu

4. İlk Çağ'da Anadolu'da yaşayan uygarlıkların dini inançları çok tanrılıydı. İlk Çağ'da Anadolu'da kurulmuş aşağıdaki hangi devletin ülkesine "Bin Tanrı İli" adı verilmiştir?

- A) Urartular B) Lidyalılar
C) Hititler D) Frigyalılar

5. Orta Asya'da kurulmuş olan ilk Türk devletlerinde, genellikle sanat eserleri taşınabilir malzemeden yapılmış, Uygurlar dışında mimarî yapıtlara fazlaca önem verilmemiştir.

Bu durumun temel nedeni aşağıdakilerden hangisi olabilir?

- A) Savaşçı bir toplum olmaları
B) Göçebe yaşantı sürmeleri
C) Tarım ve hayvancılıkla uğraşmaları
D) Hükümdarların tutumu

6. Pusulalarda ibrenin renkli olan ucunun sağ tarafındaki ilk ana yön hangisidir?

- A) Kuzey B) Güney C) Batı D) Doğu

7. Her hangi bir odanın, evin, okulun veya sokağın kuşbakışı kabataslak bir düzlem üzerine aktarılmış haline ne ad verilir?

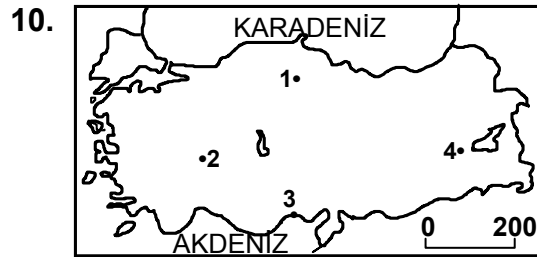
- A) Atlas B) Plân C) Kroki D) Harita

8. Coğrafi bölgelerin sınırları belirlenirken aşağıdaki özelliklerden hangisi dikkate alınmaz?

- A) İl sınırlarının bütünlüğünün korunması
B) Benzer bitki örtülerine sahip olması
C) Yer şekillerinin benzerlik taşıması
D) Geçim kaynaklarının benzer ekonomik faaliyetler olması

9. Fiziki haritalarda kullanılan renklerden hangisi diğerlerine göre daha yüksek yerleri gösterir?

- A) Koyu Yeşil B) Koyu Mavi
C) Koyu Kahverengi D) Koyu Sarı



Yukarıdaki haritada numaralandırılarak gösterilen noktalardan hangisinin yükseltisi diğerlerinden azdır?

- A) 1 B) 2 C) 3 D) 4

11. Aşağıdakilerden hangisi karasal iklimin etkili olduğu alanlarda görülmez?

- A) Maki bitki örtüsü
B) Bozkırlar
C) Buğday ekim alanları
D) Şeker pancarı ekim alanları

12. Türkiye’de en büyük idari yönetim birimi aşağıdakilerden hangisidir?
- A) İl
B) İlçe
C) Bucak
D) Köy
13. Bir göl suyunun tatlı olabilmesi aşağıdakilerden hangisine bağlıdır?
- A) Derinliğine
B) Yüzeyinin geniş olmasına
C) Oluşum biçimine
D) Dışarıya sularını boşaltmasına
14. Hızlı nüfus artışı Türkiye’de aşağıdakilerden hangisinin karşılanmasında kolaylık sağlar?
- A) Sağlık hizmetlerinin
B) Konut ihtiyacının
C) İş gücünün
D) Eğitim hizmetlerinin
15. Aşağıdaki çalışmalardan hangisi Türkiye’de turizmin gelişmesini engeller?
- A) Ulaşım imkanlarının iyileştirilmesi
B) Turizm alanlarına sanayi tesislerinin kurulması
C) Doğal güzelliklerin korunması
D) Konaklama tesislerinin artırılması
16. Ülkemizde aile kurumunun oluşturulmasında aşağıdakilerden hangisi yasalarla düzenlenmiştir?
- A) Yeni bir ev açılarak gerekli eşyaların alınması
B) Nikâhtan önce eğlence yapılması
C) Evliliğin nikâh sözleşmesiyle başlaması
D) Evli çiftlerin tatile gitmeleri
17. Aşağıdakilerden hangisi modern ailenin özelliklerinden değildir?
- A) Sanayileşmiş toplumlarda görülmesi
B) Ailede büyük baba, büyük anne, amca ve yengenin bulunması
C) Anne, baba ve evlenmemiş çocuklardan oluşması
D) Çocukların evlenince aileden ayrılması
18. Ülkelerin, ekonomik ve toplumsal gelişme düzeyi ile su tüketimi ve yaşam kalitesi arasında sıkı bir ilişki vardır. Su kaynaklarından yeterince yararlanamayan ülkeler de kalkınmamış ülkelerdir.
- Buna göre aşağıdakilerden hangisi, yaşam kalitesi yüksek olan ülkelerin su tüketimiyle ilgili olarak söylendiğinde doğru olur?
- A) Su tüketimlerinde sürekli düşüş gözlenmesi.
B) Su tüketimlerinin kalkınmamış ülkelerle aynı düzeyde olması.
C) Su tüketimlerinin kalkınmamış ülkelere göre oldukça fazla olması.
D) Su tüketimlerinin kalkınmamış ülkelere göre daha az olması.
19. Toplum yaşamında, aşağıdaki davranışlarımızdan hangisi yazılı kurallara uymanın bir sonucudur?
- A) Fatura ödemelerimizi gününde yapmak
B) Okulda arkadaşlarımıza selâm vermek
C) Hasta bir yakınımızı ziyaret etmek
D) Kantinde alışveriş yaparken sıraya girmek
20. Aşağıdakilerden hangisi, insanların toplum halinde yaşamalarıyla doğrudan ilgili değildir?
- A) Yardımlaşma
B) İş bölümü
C) Kurallara uyma
D) Dinlenme
- DİN KÜLTÜRÜ VE AHLÂK BİLGİSİ DERSİNİ OKUYANLAR AŞAĞIDAKİ SORULARI CEVAPLAYACAKLAR. OKUMAYANLAR BUNUN YERİNE, AYNI NUMARALI SOSYAL BİLGİLER SORULARINI CEVAPLAYACAKLAR.**
21. Aşağıdakilerden hangisi “Bismillâhirrahmânirrahîm” cümlesinin anlamını ifade eden terimler arasında yer almaz?
- A) Esirgeyen
B) Allah’ın adıyla
C) Sığınırım
D) Bağışlayan
22. Yaşlı bir kişinin elindeki yükünü gideceği yere kadar taşımak veya bir arkadaşına çözemediği matematik probleminin çözümünü göstermek gibi davranışların sonucu aşağıdakilerden hangisiyle ifade edilir?
- A) Helâl
B) İyilik
C) Haram
D) Günah

23. İnsanların günlük namazlarında yöneldiği Hac ibadetinde de tavaf edilen Kâbe aşağıdaki şehirlerin hangisinde bulunmaktadır?

- A) Medine B) Mekke C) Taif D) Cidde

24. Kandil geceleriyle ilgili olarak aşağıda verilen bilgilerden hangisi yanlıştır?

- A) Berat Kandili : Ku'ran-ı Kerim'in indirildiği gecedir.
 B) Miraç Kandili : Beş vakit namazın farz kılındığı gecedir.
 C) Mevlüt Kandili : Hz. Muhammed'in doğduğu gecedir.
 D) Regaip Kandili : Allah'ın rahmet ve bereketinin bol olduğu gecedir.

25. Hz. Muhammed (S.A.V.) ile ilgili olarak aşağıda verilen bilgilerden hangisi yanlıştır?

- A) Babası O'nun doğumundan önce ölmüştür.
 B) Hz. Hamza ve Ebu Talip amcalarındandır.
 C) Kureyş kabilesine mensuptur.
 D) Babası Abdulmuttalip'tir.

DİN KÜLTÜRÜ VE AHLÂK BİLGİSİ DERSİNİ OKUMAYANLAR, AŞAĞIDAKİ SOSYAL BİLGİLER SORULARINA CEVAP VERECEKLER. OKUYANLAR CEVAP VERMEYECEK.

21. Aşağıdakilerden hangisi Avrupa Hun Devleti hükümdarlarından biridir?

- A) Bumin Kağan B) Bilge Kağan
 C) Attila D) Mete Han

22. Aşağıdakilerden hangisi idari açıdan yerleşim birimi özelliği taşımaz?

- A) İl B) Kent C) İlçe D) Köy

23. Aşağıdakilerden hangisi Türkiye'de görülen doğal bitki örtülerinden değildir?

- A) Makiler B) Tahıllar
 C) Ormanlar D) Bozkırlar

24. Özellikle köy ve kasabalardaki okulların bazılarında uygulama bahçeleri de bulunmaktadır. Bu bahçelerde öğrenciler sebze ve meyve yetiştirmektedirler.

Aşağıdakilerden hangisi öğrenciler açısından bu uygulamayla ilgili değildir?

- A) Hastalıklardan korunma yollarını öğrenmeleri
 B) Çevreye iyi örnek olmaları
 C) Ekonomiye katkıda bulunmaları
 D) Yaparak ve yaşayarak öğrenmeleri

25. İnsanların, toplum hayatını düzenleyen kurallara uygun davranışlarda bulunmaları aşağıdakilerden hangisine neden olmaz?

- A) Toplum huzurunun sağlanmasına
 B) Toplum barışının korunmasına
 C) Bireylerin güven duygusu içinde yaşamasına
 D) Toplumsal çatışmalarının görülmesine

TEST BİTTİ.
 CEVAPLARINIZI KONTROL EDİNİZ.

Soracağınız bir şey var mı? Varsa şimdi sorunuz; sınav başladıktan sonra sorularınıza cevap verilmeyecektir. Hazır mısınız?

Sınav, okulun bütün salonlarında aynı anda başlayacağı için başlama zilini beraberce bekleyelim.

Hepinize başarılar dileriz.

(Salon başkanı başlama ve bitiş saatini tahtaya yazacaktır.)

Bu testin her hakkı saklıdır. Hangi amaçla olursa olsun, testlerin tamamının veya bir kısmının Millî Eğitim Bakanlığı Eğitim Teknolojileri Genel Müdürlüğünün yazılı izni olmadan kopya edilmesi, fotoğraflarının çekilmesi, bilgisayar ortamına alınması, herhangi bir yolla çoğaltılması, yayımlanması veya başka bir amaçla kullanılması yasaktır. Bu yasağa uymayanlar, doğabilecek cezaî sorumluluğu ve testlerin hazırlanmasındaki malî külfeti peşinen kabullenmiş sayılır.