

TÜRKÇE TESTİ

1. Yüksek yaylalardaki yürüğün curasından,
Çobanın kavalından o tatlı ses gelir.
Yurdumun orasından, yurdumun burasından,
Bana:“Türküz biz!” diyen benim güzel Türkçemdir.
Kâzım Nâmi Duru
Şiirin teması nedir?
- A) Millet sevgisi B) Doğa özlemi
C) Dil sevgisi D) Yurt özlemi
2. Aşağıdaki sözcüklerden hangisi sözlükte
diğerlerinden sonra yer alır?
- A) Kasıt B) Kasım C) Kasırga D) Kasık
3. Hangi cümlede altı çizili sözcükler sestese
değildir?
- A) Kır atıyla akşama kadar kırda dolaştı.
B) Eİ eliyle yılan tutulur.
C) Kara günlerden sonra karaya ulaştık.
D) Ekmeği ekmekçiye ver, bir ekmek de üste
ver.
4. Hangi cümlede “de” nin yazımıyla ilgili
yanlışlık vardır?
- A) Ayağı kayınca kendini yerde buldu.
B) Her yokuşun birde inişi vardır.
C) Soğuk havalarda kalın giyinmeliyiz.
D) Bende okuma merakı gelişti.
5. Bu hava, bu yağmur, bu toprak,
Bu güneş, yavrum, ona iyi bak.
Hepsi güzel, hepsi senin olacak,
Büyüdüğün zaman.
(A.Kutsi Tecer)
Dörtlükte, asıl vurgulanmak istenen,
aşağıdakilerden hangisidir?
- A) Topraklarımızın çok verimli olduğu
B) Havanın temizliği ve oksijen yönünden
zenginliği
C) Her mevsimde güneşin güzel olduğu
D) Doğal güzelliklerin korunması gerektiği
6. Aşağıdaki cümlelerin hangisinde anlatım
bozukluğu vardır?
- A) Yoğurt ve bal önemli besinlerimizdendir.
B) Yaşlı kadın ve torununu sevinçli gördüm.
C) Ahmet ve arabayla şehre gideceğiz.
D) Yarın sabah pantolonumu ve gömleğimi
ütüleyeceğim.
7. Aşağıdaki cümlelerin hangisinde özne-
yüklem uygunluğu yoktur?
- A) Ağacın dalları çok uzadılar.
B) Kardeşimle parka gittik.
C) Gaziler de törene katıldılar.
D) Cümlelerin sonuna nokta konur.
8. Yalnız biz değiliz seni seven
Bak, ne kadar üzülüyor gidişine
Şu çiçekten çiçeğe konan kelebek.
Baharı erken getir bahçemize
Olmaz mı hacı leylek.
Şiire göre, leylek için aşağıdakilerden hangisi
söylenemez?
- A) Göçmen bir kuş olduğu
B) Herkes tarafından sevildiği
C) Baharın habercisi olduğu
D) Çiçeklerle beslendiği
9. “Canlı” sözcüğü hangi cümlede diğerlerinden
farklı anlamda kullanılmıştır?
- A) Bazı canlılar otla beslenirler.
B) Orhan çok canlı bir çocuktu.
C) Çiçekler de canlı birer varlıktır.
D) Gölde hiçbir canlı yaşamıyordu.
10. “Düzenli” sözcüğü hangi cümlede zarf olarak
kullanılmıştır?
- A) O, derslerine düzenli çalıştı.
B) Düzenli kişileri herkes sever.
C) Öğrenciler düzenli sıra oldular.
D) Onun düzenli bir odası vardı.
11. Zararlı bir alışkanlık yazıp bozmak. Bir satır
bozuk oldu mu, hemen o yaprağı yırtmak.
Birkaç yaprak yırtınca da o defteri kaldırıp
atmak.
(H.Âli Yücel)
Paragrafta sözü edilen, aşağıdakilerden
hangisidir?
- A) Becerisizlik B) Tembellik
C) Savurganlık D) Hırçınlık
12. Bir roman okurken kendimizden
geçeriz. Kendimizi romanda anlatılan
kişilerden birinin yerine koyarız. Onunla
birlikte seviniriz, ağlarız, coşarız; içimiz
içimize sığmaz. Böylece zamanın nasıl
geçtiğini bilemeyiz.
Bu paragrafın ilk cümlesi aşağıdakilerden
hangisi olabilir?
- A) Okumayı öğrenmek zordur.
B) Kitaplar bize bilgi kazandırır.
C) Okuma eğitimine küçük yaşta başlanmalıdır.
D) Okumak, eğlenceli ve yararlı bir iştir.

TÜRKÇE TESTİ

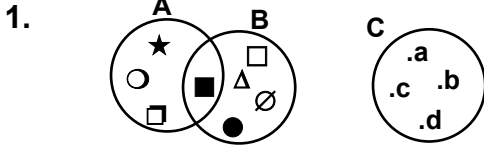
13. “Bizi kuru sözlerle çok oyaladı.” cümlesindeki “kuru” sözcüğünün çeşidi aşağıdakilerden hangisidir?
A) İsim B) Sıfat C) Zamir D) Zarf
14. Aşağıdakilerden hangisi devrik bir cümledir?
A) Ayağını yorganına göre uzat.
B) Sen bu işi bilmiyorsun.
C) Siz gelmeyin şimdi.
D) Ağaç yaş iken eğilir.
15. Tertemiz, verimli topraklarımızın bir çöplük haline getirilmesine ne demeli? Çiftçiler “Toprak bize küstü.” diyorlar. Evet, toprağı bizler küstürdük. Bunları görmemekle ve çözüm bulmamakla kendimize kötülük ediyoruz. Sevgili dünyamızın kim bilir ne kadar ömrü kaldı?
Parçanın başlığı aşağıdakilerden hangisi olamaz?
A) Çevremiz ve Biz B) Toprağın Önemi
C) Çevre Kirliliği D) Tahıl Üretimi
16. Aşağıdaki sözcüklerden hangisi yapım eki almıştır?
A) Güneşli B) Günde C) Haliya D) Çıktık
17. Kar yağıyordu. Camın kırılmış bölümünden soğuk bir rüzgâr doluyordu odaya. Oda soğuktu. Tüyleri dökülmüş ihtiyar bir kedi iki gündür ateş görmemiş, sobanın kenarına büzülmüştü.
Yazar, parçadaki izlenimlerini aşağıdakilerin hangisiyle edinmiştir?
A) Okuyarak B) Dinleyerek
C) Gözlemleyerek D) Duyarak
18. Aşağıdakilerden hangisi anlamca olumlu bir cümledir?
A) Okula başladığım günü unutamam.
B) Bu işi artık yapmıyor.
C) O gelmeyecek bugün.
D) Acı haber tez duyulur.
19. Aşağıdaki cümlelerin hangisinde birden fazla tamlama vardır?
A) Yaşlı kadın evin balkonunda oturuyor.
B) Köyün yolları oldukça çamurluydu.
C) Dışarıda sert bir rüzgâr esiyordu.
D) Annem yün iplikleri güzel sarar.
20. Aşağıdaki cümlelerin hangisinde vurgu, zaman kavramı üzerindedir?
A) Ahmet okula dün otobüsle gitmiş.
B) Okula Ahmet otobüsle dün gitmiş.
C) Otobüsle okula dün Ahmet gitmiş.
D) Ahmet dün otobüsle okula gitmiş.
21. Dörtlüğün hangi dizesinde fiil yoktur?
A) Bir gemi içmiş Karadeniz’i...
B) Gemiden bir başbuğ inmiş,
C) Masmavi gözleri, buğday benizi,
D) Ruhuma güneşler gibi sinmiş...
22. Aşağıdaki sözcüklerden hangisine, ünlü ile başlayan bir ek getirildiğinde kaynaştırma harfi alır?
A) Arkadaş B) Türkçe C) Haber D) Bayrak
23. Aşağıdaki cümlelerden hangisinin öznesi sözcük olarak verilmemiş gizlenmiştir?
A) Yakında size de uğrarım.
B) Kıyıda yelkenliler vardı.
C) Bahçemiz güzel çiçeklerle doluydu.
D) Biraz önce kardeşim geldi.
24. İlyaz yağmurları yağıyor. Ağaçlar henüz çıplak. Tatlı bir toprak kokusu duyuluyor. Bahçenin yüksek çamları altında, saatin tik takları gibi çalışan bir otomobil yola hazırlanıyor.
(M.Şevket Esendal)
Parçada, hangi duyumuzla ilgili ayrıntıya yer verilmemiştir?
A) Koklama B) Görme
C) İşitme D) Tatma
25. Aşağıdaki fiillerden hangisinin şahsı diğerlerinden farklıdır?
A) Satıyorsunuz B) Geleceksiniz
C) Yürüyeceğiz D) Topladınız
26. Hangi seçenekteki sözcükler anlam ilişkisi bakımından diğerlerinden farklıdır?
A) Sert - yumuşak B) Kırmızı - al
C) Son - ilk D) Kalın - ince

TÜRKÇE TESTİ

27. Bence, en kötü huylarımız, küçük yaşımızda belirmeye başlar. Yani asıl eğitimimiz, bizi besleyip büyütenlerin, yetiştirenlerin elindedir. Çocuk bir tavuğun boynunu sıkır; kediyi, köpeği oyuncak edip yara bere içinde bırakır; anası da ona bakıp eğlenir.
- Parçada esas olarak eleştirilen aşağıdakilerden hangisidir?
- A) Alışkanlıkların küçük yaşlarda edinilmesi
B) Çocuğun iyiyi kötüyü ayırt edememesi
C) Hayvanların oyuncak yerine konması
D) Çocukların yanlışlarının önemsenmemesi
28. “O, bizi de, sizi de burada bekleyecek.” cümlesinde zamir olan kaç sözcük vardır?
- A) 2 B) 3 C) 4 D) 5
29. Aşağıdakilerden hangisi isim cümlesidir?
- A) Her zaman temiz bir çocuktur.
B) Amcam bu sokakta oturuyor.
C) Annesini görünce çok sevindi.
D) Gazetede ki haber beni üzdü.
30. Kendi işlerine dalıp, arkadaşlarını uzun süre aramayıp sormayanlar; onların, iyi ya da kötü günlerinde yanında bulunmayanlar; bir gün gelir kendilerini yapayalnız bulabilirler. Boşu boşuna “.....” dememişler.
- Paragrafta boş bırakılan yere aşağıdaki atasözlerinden hangisinin getirilmesi uygun düşmez?
- A) Ne ekersen onu biçersin.
B) Tatlı dil yılanı deliğinden çıkarır.
C) Ne doğarsan aşına o çıkar karşına.
D) Herkesin ettiği yoluna gelir.

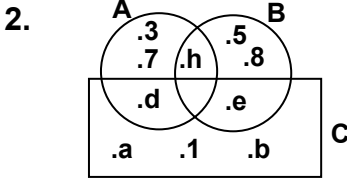
TÜRKÇE TESTİ BİTTİ.
MATEMATİK TESTİNE GEÇİNİZ.

MATEMATİK TESTİ



Şemalarla gösterilen A, B ve C kümelerine göre, aşağıdakilerden hangisi doğrudur?

- A) $A \equiv C$ B) $A = B$ C) $A = C$ D) $B \equiv C$



Şemada gösterilen A, B ve C kümelerine göre, aşağıdakilerden hangisi doğrudur?

- A) C nin eleman sayısı 3 tür.
B) h, üç kümenin de elemanıdır.
C) $d \notin A$
D) $e \in B$

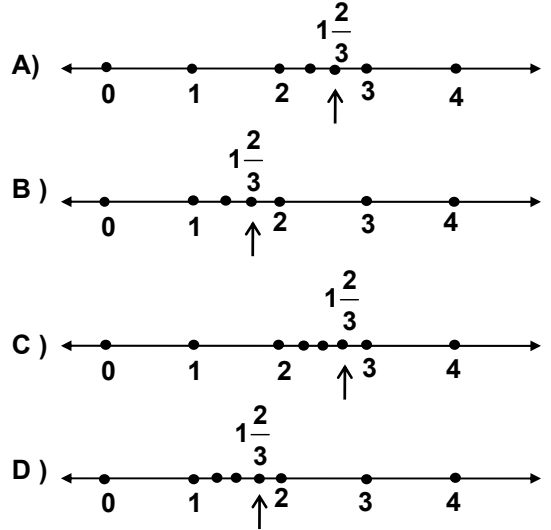
3. 3 tane yüz binlik, 4 tane binlik ve 8 tane onluktan oluşan doğal sayı hangisidir?
A) 304 008 B) 304 080 C) 340 080 D) 348 000
4. 33 407 sayısındaki basamak değeri en küçük olan rakamın sayı değeri 3 artırılırsa, hangi sayı elde edilir?
A) 63 407 B) 33 500 C) 33 437 D) 33 410
5. 198 201 sayısının binler bölümündeki rakamların sayı değerleri toplamı ile 901 213 sayısının birler bölümündeki rakamların sayı değerleri toplamı arasındaki fark kaçtır?
A) 12 B) 7 C) 6 D) 3
6. 50 449, 54 044, 54 050, 50 494, 54 049 doğal sayılarının büyükten küçüğe doğru sıralanışı, aşağıdakilerden hangisinde doğru olarak verilmiştir?
A) $50\ 494 > 50\ 449 > 54\ 044 > 54\ 049 > 54\ 050$
B) $50\ 449 > 50\ 494 > 54\ 050 > 54\ 049 > 54\ 044$
C) $54\ 050 > 54\ 049 > 54\ 044 > 50\ 494 > 50\ 449$
D) $54\ 049 > 50\ 044 > 54\ 050 > 50\ 449 > 50\ 494$
7. 903 009 sayısının çözümlenmiş şekli aşağıdakilerden hangisidir?
A) $(9 \times 100\ 000) + (3 \times 1000) + (9 \times 1)$
B) $(9 \times 100\ 000) + (3 \times 100) + (9 \times 10)$
C) $(9 \times 10\ 000) + (3 \times 1000) + (9 \times 1)$
D) $(9 \times 10\ 000) + (3 \times 100) + (9 \times 10)$
8. 99 101 sayısına hangi sayı eklenirse altı basamaklı en küçük doğal sayı elde edilir?
A) 999 B) 989 C) 909 D) 899

9. Aşağıda okunuşları verilen sayılardan en küçüğü hangisidir?

- A) yedi yüz otuz bir bin üç yüz
B) yedi yüz otuz bir bin otuz
C) yedi yüz otuz bin on üç
D) yedi yüz otuz bin yüz üç

10. Ali, 5 kurşun kalem ile 2 silgi için 650 000 TL ödemiştir. 2 kurşun kalem 220 000 TL ise, bir silgi kaç liradır?
A) 50 000 B) 60 000 C) 90 000 D) 110 000

11. $1\frac{2}{3}$ kesrinin sayı doğrusu üzerindeki gösterimi aşağıdakilerden hangisidir?



12. Üç çeyrek ekmek ile bir yarım ekmeğin toplamı ne kadar ekmek yapar?
A) 1 tam 1 çeyrek B) 1 tam 1 yarım
C) 2 tam D) 2 tam 1 çeyrek
13. Hangi sayının yarısının $\frac{2}{7}$ si 28 dir?
A) 16 B) 98 C) 144 D) 196
14. Ali, 270 tane cevizin $\frac{2}{3}$ sini üç arkadaşına eşit olarak paylaşıyor. Arkadaşlarından birinin payına kaç ceviz düşmüştür?
A) 60 B) 90 C) 100 D) 180
15.
$$\begin{array}{r} \square \square \triangle \\ + \quad \triangle \square \\ \hline 4\ 1\ 0 \end{array}$$
 Verilen toplama işleminde her şekil bir rakamı göstermektedir. \triangle yerine hangi rakam gelir?
A) 4 B) 5 C) 6 D) 7
16.
$$\begin{array}{r} a \overline{)b} \\ \underline{-\quad} 2 \\ 1 \end{array}$$
 Verilen bölme işleminde, b sıfırdan farklı doğal sayıdır. a doğal sayısının en küçük değeri kaç olur?
A) 3 B) 5 C) 7 D) 9


MATEMATİK TESTİ

17. 9 tane çikolata ve 6 tane sakız için 840 000 TL ödenmiştir. 3 tane çikolata ve 2 tane sakız için kaç lira ödenir?

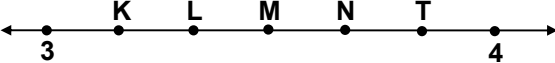
A) 560 000 B) 420 000 C) 360 000 D) 280 000

18. $\frac{45}{59}$ kesrinin paydasına hangi sayı eklenirse, $\frac{3}{4}$ kesrine denk bir kesir elde edilir?

A) 1 B) 2 C) 3 D) 4

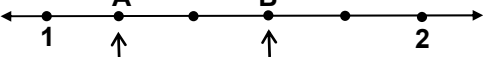
19.  Şekilde, bir bütün eş parçalara bölünmüştür. Aşağıdaki kesirlerden hangisi taralı olmayan kısımlara karşılık gelir?

A) $\frac{3}{8}$ B) $\frac{5}{8}$ C) $\frac{8}{15}$ D) $\frac{9}{16}$

20. 

Sayı doğrusunda 3 ile 4 arası birbirine eş parçalara bölünmüştür. $3\frac{2}{3}$ kesrine hangi nokta karşılık gelir?

A) L B) M C) N D) T

21. 

Sayı doğrusunda 1 ile 2 arası birbirine eş 5 parçaya bölünmüştür. A ve B noktalarına karşılık gelen kesirlere göre, B-A kaçtır?

A) $\frac{1}{5}$ B) $\frac{2}{5}$ C) $\frac{3}{5}$ D) $\frac{4}{5}$

22. $\frac{39}{41}$, $\frac{79}{81}$, $\frac{10}{10}$, $\frac{7}{8}$, $\frac{25}{24}$ ve $\frac{17}{13}$ kesirlerinden kaç tanesi bileşik kesirdir?

A) 2 B) 3 C) 4 D) 5

23. $3\frac{2}{9} \times 3$ işleminin sonucu aşağıdakilerden hangisidir?

A) 2 B) $3\frac{2}{3}$ C) $9\frac{2}{9}$ D) $9\frac{2}{3}$

24. Yiğit, sepetteki elmaların $\frac{3}{7}$ ünü annesine, $\frac{2}{7}$ sini de arkadaşına veriyor. Geriye 18 tane elma kaldığına göre, sepette kaç tane elma vardı?


A) 56 B) 63 C) 69 D) 72

25. 3,841 ; 3,82 ; 3,8 ; 3,851 ; 3,099 ; 3,9 verilen sayılardan kaç tanesi 3,84 ten büyüktür?

A) 1 B) 2 C) 3 D) 4

26. Boyu, eninin iki katı olan dikdörtgen şeklindeki bir sınıfın çevresinin uzunluğu 54 m ise, boyu kaç metredir?

A) 6 B) 9 C) 12 D) 18

27.  Çevresinin uzunluğu 140 cm olan taralı şekil, birbirine eş karelerden oluşmaktadır. Karelerden birinin çevresinin uzunluğu kaç cm dir?

A) 20 B) 24 C) 28 D) 40

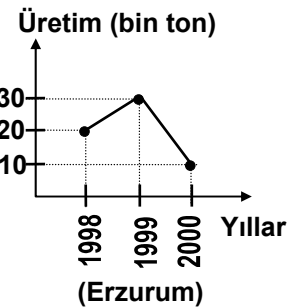
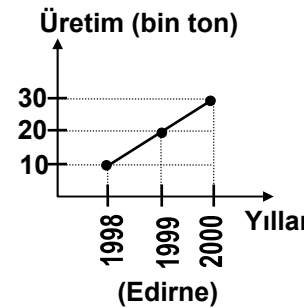
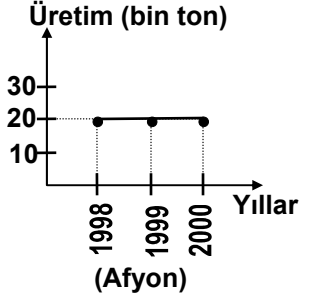
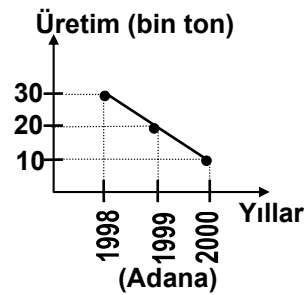
28. Bir dikdörtgenin herhangi iki köşesinden geçecek şekilde doğrular çizilecektir. Çizilebilecek farklı doğruların sayısı en fazla kaç olur?

A) 2 B) 4 C) 6 D) 8

29. Ali'nin bir adımı 50 cm dir. Boyu, eninin 3 katı olan dikdörtgen şeklindeki bir arsanın çevresinin uzunluğu 240 adımdır. Arsanın boyu kaç metredir?

A) 35 B) 40 C) 45 D) 50

30. Aşağıdaki grafikler 4 ilin yıllara göre buğday üretimini göstermektedir. Hangi ilin üretimi sürekli artış göstermektedir?



A) Adana B) Afyon C) Edirne D) Erzurum

MATEMATİK TESTİ BİTTİ.
FEN GRUBU TESTİNE GEÇİNİZ.

FEN GRUBU TESTİ

1. Gece ve gündüzün birbirini izlemesi, Dünya'nın hangi özelliğinin bir sonucudur?

- A) Ekseninin yörünge düzlemine eğik olmasının
B) Kendi eksenini etrafında dönmesinin
C) Güneş etrafında dönmesinin
D) Küre şeklinde olmasının

2. Aşağıdakilerden hangisi besin kaybına sebep olur?

- A) İhtiyaç fazlası meyveleri uygun yöntemlerle saklamak
B) Tüketebileceğimiz kadar meyve almak
C) Sağlam ve zedelenmiş meyveleri bir arada bulundurmak
D) Bazı sebze ve meyveleri nemli ortamlarda saklamak

3. Aşağıdakilerden hangisi katı yakacaktır?

- A) Benzin B) Mazot C) Fuel oil D) Linyit

4. Aşağıdakilerden hangisinin ısınma amacıyla kullanılması ülkemiz açısından uygun değildir?

- A) Gaz yağı B) Fuel oil
C) Doğal gaz D) Hayvan gübresi

5. Jeneratör, hangi çeşit enerjiyi elektrik enerjisine dönüştürür?

- A) Hareket enerjisini B) Kimyasal enerjiyi
C) Işık enerjisini D) Isı enerjisini

6. Aşağıdakilerden hangisi elektrik yükünü iletir?

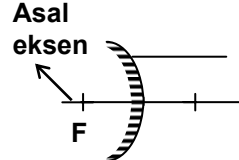
- A) Cam çubuk B) Yün iplik
C) Bakır tel D) Paket lâstiği

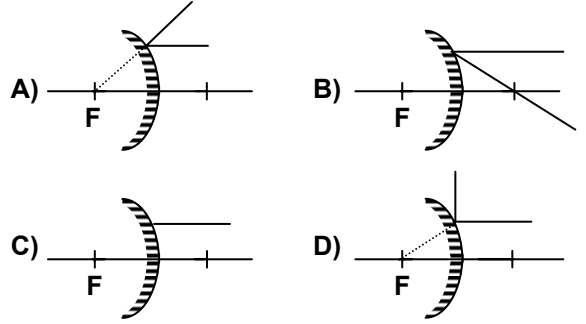
7. Aşağıdakilerden hangisi doğal ışık kaynağıdır?

- A) Kandil B) Güneş C) Mum D) Lâmba

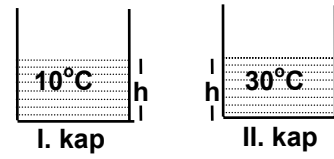
8. Işık ışınlarının cisimler üzerine düşerek geri dönmesine ne denir?

- A) Kırılma B) Gölge
C) Yansıma D) Soğurma

9. Asal eksen  Tümsek aynanın asal eksenine paralel olarak gönderilen ışının yansıması hangisindeki gibi olur?



10.



Şekildeki cam kapların hacimleri eşit olup, I. kaptaki suyun sıcaklığı 10 °C, II. kaptaki suyun sıcaklığı 30 °C dir.

İçinde 20 °C sıcaklıkta gaz bulunan lâstik balon önce I. kaptaki suya, sonra II. kaptaki suya tamamen batırılarak bekletildiğinde, aşağıdaki durumlardan hangisinin olması beklenmez?

- A) Balonun hacminin I. kapta artıp II. kapta azaldığı
B) Balonun hacminin I. kapta azalıp II. kapta arttığı
C) I. kaptaki su seviyesinin önce yükselip sonra düştüğü
D) II. kaptaki suyun I. kaptaki sudan daha fazla yükseldiği

11. Erime olayı ile ilgili bilgilerden hangileri doğrudur?

- I- Katı maddelerde gözlenir.
II- Olay sırasında dışarıdan ısı alınır.
III- Olay sırasında madde katı hâlden gaz hâline geçer.

- A) Yalnız I B) I-II C) II-III D) I-II-III

12. Aşağıdakilerden hangisi kum, su ve havanın ortak özelliğidir?

- A) Belirli bir hacme sahip olma
B) Belirli bir kütleyle sahip olma
C) Bulunduğu kabın şeklini alma
D) Bulunduğu kabı tamamen doldurma

FEN GRUBU TESTİ

13. Aşağıdakilerden hangileri çevrenin bozulmasına neden olur?
I- Kullanılmış pil
II- Fabrika atıkları
III- Egzoz gazları
A) Yalnız I B) I-II C) II-III D) I-II-III
14. Aşağıdakilerden hangisi hücrenin çoğalmasını yönetir?
A) Çekirdek B) Sentrozom
C) Koful D) Sitoplazma
15. Canlı solunumunda amaç nedir?
A) Kan dolaşımını sağlamak
B) Kanı temizlemek
C) Oksijen üretmek
D) Enerji üretmek
16. Aşağıdakilerden hangisi kuşlarla sürüngenlerin ortak özelliğidir?
A) Kuluçkaya yatma
B) Yumurtayla çoğalma
C) Yavrularına ilgi gösterme
D) Tüylerle kaplı vücuda sahip olma
17. Aşağıdakilerden hangileri çimlenmeyi etkiler?
I- Isı
II- Oksijen
III- Nem
A) Yalnız I B) I-II C) II-III D) I-II-III
18. Çöllerde yetişen kaktüslerin yapraklarının diken şeklini almasının sebebi nedir?
A) Su kaybını önlemek
B) Büyümeyi çabuklaştırmak
C) Besin yapma hızını artırmak
D) Artık maddelerin dışarı atılmasını sağlamak
19. Balıklarda, aşağıdaki örtü şekillerinden hangisi görülür?
A) Kıl B) Telek C) Pul D) Kitin
20. Aşağıdakilerden hangisi göç etmez?
A) Leylek B) Serçe
C) Bildircin D) Kırlangıç

FEN GRUBU TESTİ BİTTİ.
SOSYAL GRUBU TESTİNE GEÇİNİZ.

SOSYAL GRUBU TESTİ

1. Aralarında birinci derece kan bağı bulunan kişilerin evlenmelerinin doğurduğu sakıncaları, hemen hergün duymakta, okumakta ve izlemekteyiz.
Buna göre, bu tür evliliklerin önlenmesi aşağıdakilerden öncelikle hangisine bağlıdır?
A) Yasal önlemlerin alınmasına
B) Bireylerin gelir düzeylerinin artırılmasına
C) Sağlık hizmetlerinin yaygınlaştırılmasına
D) Bireylerin bu konuda bilinçlendirilmelerine
2. Aşağıdakilerden hangisi, toplumsal yaşamın huzur ve güvenlik içinde devamlılığını sağlayan yazısız kurallara örnek olur?
A) Toplu taşıma araçlarında yaşlılara yer vermek
B) Okula başlarken kayıt yaptırmak
C) Onsekiz yaşına gelince seçimlerde oy kullanmak
D) Adresimize gönderilen telefon faturasını ödemek
3. Anne, baba ve evlenmemiş çocuklardan oluşan aileye küçük aile ya da modern aile denir. Aşağıdakilerden hangisi, bu aile tipini ortaya çıkaran nedenlerden değildir?
A) Sanayinin gelişmesi
B) Sosyal ihtiyaçların çeşitlenmesi
C) Akraba arası evliliklerin artması
D) Ekonomik zorunluluklar
4. Bir şehirdeki ulaşım, trafik, ekonomi ve nüfus ile ilgili işlerin düzenli olarak yürütülebilmesi için, aşağıdakilerden hangisinin hazırlanması gerekir?
A) Şehrin plânı
B) Şehrin krokisi
C) İlin idarî haritası
D) İlin fizikî haritası
5. Yeri hiç değişmediği için, adına "Demirkazık" da denilen yıldızın asıl adı, aşağıdakilerden hangisidir?
A) Çoban Yıldızı
B) Büyük Ayı Takım Yıldızı
C) Kutup Yıldızı
D) Kuyruklu Yıldız
6. 1:200.000 ölçekli bir haritada 10 cm gelen bir uzunluk, gerçekte kaç km yi gösterir?
A) 10
B) 30
C) 20
D) 40
7. Akdeniz ikliminin etkili olduğu yerlerle ilgili, aşağıdaki bilgilerden hangisi yanlıştır?
A) Yağışlar daha çok kış mevsiminde görülür.
B) Yaz mevsimi sıcak ve uzun geçer.
C) Kış sıcaklık ortalaması 0 °C'nin üzerindedir.
D) Bitki örtüsünün tamamı bozkırlardan oluşur.
8. Aşağıdaki ovalarımızdan hangisinin yükseltisi, diğerlerinden daha fazladır?
A) Bafra
B) Konya
C) Gediz
D) Antalya
9. Orman alanları, kıyı bölgelerimizde daha gür ve geniştir. Bunda, aşağıdakilerden hangisi daha fazla etkili olmuştur?
A) Yağışlar
B) Toprak yapısı
C) Sıcaklık
D) Akarsuları
10. Ülkemizde genel nüfus sayım sonuçları, aşağıdaki kuruluşlardan hangisi tarafından değerlendirilerek yayımlanır?
A) Devlet İstatistik Enstitüsü
B) Yüksek Seçim Kurulu
C) Türk Standartları Enstitüsü
D) Sayıştay
11. Türkiye, aşağıdaki madenlerden hangisinde, Dünyanın en zengin ülkeleri arasında yer alır?
A) Demir
B) Taş kömürü
C) Bor mineralleri
D) Bakır
12. Tarih öncesinde insanların yaşamlarını avcılık ve toplayıcılığa dayanarak sürdürdüğü devir hangisidir?
A) Yontma Taş Devri
B) Cilalı Taş Devri
C) Tunç Devri
D) Demir Devri
13. Bugünkü Avrupa uluslarının oluşumunda aşağıdaki olaylardan hangisi etkili olmuştur?
A) Hunların Karadeniz'in kuzeyinden batıya ilerleyişinin baskısıyla meydana gelen Kavimler Göçü
B) Göktürklerin doğuda Japon Denizi'nden batıda Hazar Gölü'ne kadar Orta Asya'ya hâkim olması
C) Roma İmparatorluğu'nun ikiye ayrılması
D) İlk Çağ'da Anadolu'da pek çok uygarlığın kurulması

SOSYAL GRUBU TESTİ

14. Eski Türk toplumlarında ölen kimsenin mezarının yanına, hayatta iken öldürdüğü düşmanları simgeleyen heykeller dikilirdi. Taştan kabaca yapılmış bu heykellere ne ad verilirdi?

- A) Kopuz B) Yuğ C) Balbal D) Kitabe

15. İlk Çağ'da Anadolu'da kurulan devletlerden Frigyalıların başşehri neresidir?

- A) Hattuşaş B) Gordion
C) Sard D) Alişar

DİN KÜLTÜRÜ ve AHLÂK BİLGİSİ DERSİNİ OKUYANLAR AŞAĞIDAKİ SORULARI CEVAPLAYACAKLAR. OKUMAYANLAR BUNUN YERİNE, AYNI NUMARALI SOSYAL BİLGİLER SORULARINI CEVAPLAYACAKLAR.

16. "Esirgeyen ve bağışlayan Allah'ın adıyla (başlarım)" ifadesi aşağıdakilerden hangisinin türkçe karşılığıdır?

- A) Kelime-i Şehadet
B) Kelime-i Tevhid
C) Bismillahirrahmanirrahim
D) Amentü cümlesi

17. Aşağıdakilerden hangisi, Hz. Muhammed'in doğum tarihidir?

- A) 8 Haziran 632 B) 20 Nisan 571
C) 5 Mart 627 D) 23 Eylül 622

18. İslâm dininin kesin olarak yasakladığı iş ve davranışlara ne ad verilir?

- A) Mübah B) Helâl C) Haram D) Müfsid

19. Aşağıdakilerden hangisi Müslümanların haftada bir gün toplu olarak kılması farz olan namazdır?

- A) Öğle namazı B) Cuma namazı
C) Bayram namazı D) Vitir namazı

20. Aşağıdakilerden hangisi Hz. Muhammed'in doğumunun kutlandığı kandil gecesidir?

- A) Regaib kandili B) Miraç kandili
C) Kadir gecesini D) Mevlid kandili

DİN KÜLTÜRÜ ve AHLÂK BİLGİSİ DERSİNİ OKUMAYANLAR, AŞAĞIDAKİ SOSYAL BİLGİLER SORULARINA CEVAP VERECEKLER. OKUYANLAR CEVAP VERMEYECEK.

16. Vatandaşların tümünü olan ülkeler ülkelerdir.
Bütün güzel davranışları okulda öğreniriz. Bu nedenle okul, toplum, aile ve için çok önemlidir.

Boş bırakılan yerlere getirilmesi gereken sözcükler, aşağıdakilerin hangisinde sırasıyla birlikte verilmiştir?

- A) eğitmiş - insanlık - gelişmiş
B) insanlık - gelişmiş - eğitmiş
C) eğitmiş - gelişmiş - insanlık
D) gelişmiş - insanlık - eğitmiş

17. Aşağıdakilerden hangisi, uygulama bahçesi olan okullarda öğrencilerin sebze ve meyve yetiştirmelerinin sağladığı faydalardan değildir?

- A) Çevreye örnek olmaları
B) Geniş bir oyun alanına sahip olmaları
C) Toprağı işlemeyi öğrenmeleri
D) Sebze ve meyveleri tanımaları

18. Türkiye'deki kısa mesafelerde, yük ve yolcu taşımacılığı daha çok aşağıdakilerin hangisi ile yapılır?

- A) Hava yolları B) Demir yolları
C) Kara yolları D) Deniz yolları

19. Akarsular tarafından derince yarılmış geniş düzlüklere ne denir?

- A) Vadi B) Plâto C) Delta D) Ova

20. Aşağıdakilerden hangisi tarih biliminin konularından biri değildir?

- A) İnsanların yaşadıkları mekân
B) Olayların ne zaman gerçekleştiği
C) Toplumların kültürleri
D) Bitki topluluklarının dünyadaki dağılımı

TEST BİTTİ.
CEVAPLARINIZI KONTROL EDİNİZ.