

TÜRKÇE TESTİ

SORU- 1

Yalnız senin tatlı esen havanda
Kendi millî gururumu sezerim.
Yalnız senin dağında ve ovanda
Başım gökte alnım açık gezerim.

Şiirin teması nedir?

- A) Tabiat sevgisi B) Vatan sevgisi
C) Yurt özlemi D) Ayrılık acısı

SORU- 2

Hangi cümlede yazım yanlışı vardır?

- A) Ulus'a vardın mı otobüsten in.
B) Hatıraları mı kitap halinemi getireceğim?
C) Siz de gördünüz mü aldığı kitaplığı?
D) Gerçekten şirin mi şirin bir bahçe!

SORU- 3

Aşağıdaki cümlelerin hangisinde benzetme yoktur?

- A) Armutlar sanki taşıtı, hiçbirisini yiyemedik.
B) Sarı saçlarıyla bütün izleyicilerin dikkatini çekti.
C) Küçüklerin sesleri kuş cıvıltısını andırıyordu.
D) Erikler, koruk gibi ekşiydi.

SORU- 4

"İle" kelimesinin çeşidi, hangi cümlede diğerlerinden farklıdır?

- A) 20. yüzyılda uzay aracı ile aya gidildi.
B) Dünyada uzay ile ilgili çalışmalar sürüyor.
C) Uzay çalışmaları ile ülkemiz de ilgileniyor.
D) Televizyon, astronotlar ile uzay aracını gösteriyor.

SORU- 5

Toplumun en önemli sorunu enflasyon mu, açlık mı, savaş mı? Aile, toplumun bir birimi olarak, çocuklarının geleceğe hazırlanmasına öncelik veriyor. Çocuklarımızın, gençlerimizin iyi yetişmesi durumunda enflasyon da, açlık da, savaş da yenilebilir. Bütün sorunlarımızın bedensel ve düşünsel olarak sağlıklı kuşaklar yetiştirmekle çözülebileceği bir gerçektir.

Paragrafın konusu nedir?

- A) Ekonomi B) Sağlık
C) Eğitim D) Nüfus artışı

SORU- 6

Aşağıdaki kelimelerden hangisinin yapısı diğerlerinden farklıdır?

- A) Verim B) Dürüm C) Evim D) Bilim

SORU- 7

Aşağıdaki cümlelerin hangisinde yansımadan doğan sözcük yoktur?

- A) Sobada kuru odunlar çıtırdatarak yanıyor.
B) Kulağıma bir sivrisinek vızıltısı geldi.
C) Bütün mobilyaları temizleyip cilâladım.
D) Bebek mışıl mışıl uyuyor.

SORU- 8

"Yol" sözcüğüne aşağıdaki eklerden hangisi getirilirse, eylem (fiil) türetilmiş olur?

- A) -la B) -suz C) -daş D) -cu

SORU- 9

Bayrağın altında yatanımız var,
Destanlar kaynağı vatanımız var,
Kanını toprağa katanımız var,
Yurdumun en büyük bayramı bugün!

Dörtlülle ilgili olarak aşağıdakilerden hangisi söylenemez?

- A) Bir şehidin ağzından söylenmiştir.
B) Duyulan büyük bir sevincin ifadesidir.
C) Kutsal değerler uğruna can verilmiştir.
D) Vatanımız kahramanlıklarla kazanılmıştır.

SORU- 10

Aşağıdaki eylemlerden hangisi emir (buyruk) kipindedir?

- A) Soralım B) Görseler
C) Yazmalılar D) Bilsinler

SORU- 11

Aşağıdaki cümlelerin hangisinde "kaldırmak" kelimesi mecaz anlamda kullanılmıştır?

- A) O küçük çocuk, bu çantayı nasıl kaldırsın?
B) Artık yazlık giysileri kaldırmanın zamanı geldi.
C) Belediye mahallenin çöpünü günlerdir kaldırmadı.
D) Benim bildiğim Ali, böyle sözleri kaldıramaz.

SORU- 12

Aşağıdaki cümlelerin hangisinde karşıt (zıt) anlamlı sözcükler vardır?

TÜRKÇE TESTİ

- A) İstanbul'un taşı toprağı altınmış.
B) Meltem, karadan denize doğru eser.
C) Yolun sağını solunu kontrol ederek karşıya geçmeliyiz.
D) Kuru ekmeği yiyip, üstüne de su içiyordu.

SORU- 13

Aşağıdaki cümlelerden hangisindeki altı çizili sözcüğün sesteşi yoktur?

- A) Dolu yağmaya başlayınca eve koştu.
B) Birden başını sağ tarafa çevirdi.
C) Dostundan böyle bir davranış beklemiyordu.
D) Gençler yüzerek karşıya geçtiler.

SORU- 14

İnsanlar ne kadar dertli, ne kadar hüznülüdürler...
Aşkları, sevdaları bitmez. Dertlerini dönecek bir dost ararlar. Onları dinlerim bazen. Bakarım hepsi benden bir parça...

Paragraf, aşağıdaki sözlerin hangisiyle özetlenebilir?

- A) Her insan ayrı bir dünyadır.
B) İnsan insanın aynasıdır.
C) İnsan insana yük değil.
D) Dost kara günde belli olur.

SORU- 15

- 1- Onları, katarın başında azametli, heybetli bir tavırla kâh durur, kâh koşarken görürdüm.
- 2- O zamanlar rayların üzerinde onları büyük bir hayranlıkla seyrettiğimi hatırlıyorum.
- 3- Çocukluğumda trenleri çok severdim.
- 4- Lokomotifleri ise hiç mi hiç tek başlarına görmüş değilim.

Yukarıdaki cümlelerle bir paragraf oluşturulduğunda sıralama nasıl olur?

- A) 4-3-2-1
B) 2-1-4-3
C) 3-2-4-1
D) 1-2-4-3

SORU- 16

Aşağıdaki sözcüklerin hangisinde kaynaştırma sesi vardır?

- A) Kurultayı
B) Tıraşı
C) Çabası
D) Kazanı

SORU- 17

“Gerçek aydın halkı ile, milleti ile birdir. Ondan ayrılmaz, onun hayatını yaşar. Onun inançlarına duygularına saygılıdır. Onun dilini konuşur, onun kıssalarından zevk alır.....”

Paragrafın sonuna aşağıdakilerden hangisinin getirilmesi uygun değildir?

- A) Bilir ki kendisi de o bütünün bir parçasıdır.
B) Kendi insanını küçümseyen kişi, benim gözümde aydın değildir.
C) Teknolojinin ve çağdaşlığın bunu gerektirdiğini bilir.
D) Çünkü o da aynı kültür ile yoğrulmuştur.

SORU- 18

Aşağıdaki atasözlerinin hangisinde bir geleneğimize işaret edilmektedir?

- A) Bir fincan kahvenin kırk yıl hatırı vardır.
B) Ayağını yorganına göre uzat.
C) Can boğazdan gelir.
D) Görünen köy kılavuz istemez.

SORU- 19

Aşağıdaki cümlelerin hangisinde niteleme sıfatı yoktur?

- A) Beyaz elbise genç kıza çok yakıştı.
B) Bütün gün şu masada oturdu.
C) Kirli hava güzel İstanbul'u çekilmez yaptı.
D) Terbiyeli insan toplumda saygı görür.

SORU- 20

Yıldırımlar ninnidir, şimşekler ışık sana,
Geçilmez bir hisarsın yurda ayak basana.
Neden sana âşıktır dost düşman anlasana,
Senin şanlı adın var her zaferde Ahmet'im.

Dörtlüğe göre, Ahmet için aşağıdakilerden hangisi söylenemez?

- A) Cesur olduğu
B) Kuvvetli olduğu
C) Herkesin hayranlığını kazandığı
D) Dost düşman herkesi sevdiği

SORU- 21

Aşağıdaki cümlelerin hangisinde uyarma söz konusudur?

- A) Sergi çok güzeldi, fakat ilgi azdı.
B) Sınavı iyi geçmiş, fakat yanlışları da varmış.

TÜRKÇE TESTİ

- C) Gezmeye gidebilirsin, fakat erken dönmelisin.
D) Peşinden koştu, fakat arkadaşına yetişemedi.

SORU- 22

Hangi cümleden “ben” kelimesi çıkarılırsa anlamda bir değişme olur?

- A) Ben geçen yıl tatile çıkmadım.
B) Müdürden diplomamı ben aldım.
C) Ben, kardeşimden daha önce geldim.
D) Soruya sadece ben cevap verdim.

SORU- 23

Aşağıdakilerden hangisi kurallı cümledir?

- A) En çok sevdiğim çiçek güldür.
B) Kimdi seni böyle ağlatan?
C) Hazan mevsiminde dökülür yapraklar.
D) Her zaman gariptir yalnız insanlar.

SORU- 24

Aşağıdaki cümlelerden hangisine soru işareti konulmalıdır?

- A) Niçin gelmediğini bilmiyorum
B) Nedir o kaybettiğiniz şey
C) Ne gördüm, ne sordum
D) Nereden aldığını söylemedi

SORU- 25

Hangi cümlede şart söz konusudur?

- A) Ev yeni ama henüz oturulmaz.
B) Not almıştım ama evde unutmuşum.
C) Arabayı veririm ama dikkatli kullanırsan.
D) Bu daha güzel ama param yetişmiyor.

SORU- 26

Aşağıdaki cümlelerin hangisinde zincirleme ad tamlaması vardır?

- A) Bu yıl sarımsağın fiyatı çok yükseldi.
B) Bölgemizde pancar sökümüne başlandı.
C) Tarım işçilerinin ücretleri artırıldı.
D) Toprağın gübrelenmesi verimi artırır.

SORU- 27

- 1- Yazar, orta boylu 45-50 yaşlarında.
2- Hayata bakışı da çok ciddi değil.

SORU- 1

$19 \leq x \leq 105$ şartını sağlayan x doğal sayıları kaç tanedir?

- 3- Olumsuzlukları olduğu gibi kabullenme eğiliminde.
4- Umursamaz tavırları hemen fark edilir.
5- Çizgili gömleği, pahalı kravattı hemen dikkati çeker.
6- İlk görüşte ünlü bir yazar izlenimi uyandırır.

Hangi cümlelerde kişinin fizikî özellikleri verilmiştir?

- A) 2-6 B) 1-5 C) 4-5 D) 1-3

SORU- 28

“..... yöntemin en önemli özelliği geleneklere değil dayanmasıdır.” cümlesinde boş bırakılan yerlere, hangi seçenekteki kelimelerin getirilmesi uygundur?

- A) İdarî - görgüye
B) Bilimsel - deneylere
C) Kültürel - zamana
D) İş yerindeki - insanlara

SORU- 29

Aşağıdaki cümlelerin hangisinde anlatım bozukluğu vardır?

- A) Tedavide ne yazık ki geç kalınmıştı.
B) Onlar saadetlerinin mutluluğundan uçuyorlardı sanki.
C) Belirli aralıklarla su kesintisi yapılacaktı.
D) Zorluklarla yılmadan mücadele etmelisiniz.

SORU- 30

Sıkıntıları iyice artmıştı. Artık dayanamıyordu. Kapısını aşındırmadığı iş yeri kalmamıştı. Hâlâ ortada değişen bir şey yoktu.

Metinde geçen “kapısını aşındırmak” deyiminin anlamı aşağıdakilerden hangisidir?

- A) Çok rahatsız etmek
B) Çok meşgul etmek
C) Çok gidip gelmek
D) Çok gezip dolaşmak

TÜRKÇE TESTİ BİTTİ.
MATEMATİK TESTİNE GEÇİNİZ

- A) 86 B) 87 C) 106 D) 124

SORU- 2

MATEMATİK TESTİ

A, B ve C doğal sayılar olmak üzere, $A+B=C$ ve

$$\frac{A}{0} \mid \frac{B}{5}$$

ise, $A+C$ nin B ye bölümünde bölüm kaç olur?

- A) 5 B) 6 C) 10 D) 11

SORU-3

$a^{-1} = \frac{1}{2}$ ise $(a-1)^{-1}$ ifadesinin değeri kaçtır?

- A) 2 B) 1 C) 0 D) -1

SORU-4

20 adet kurşun kalemin bir kısmı 10000 liradan, bir kısmı da 5000 liradan satılmıştır. Satış tutarı 140000 lira olduğuna göre, kaç tane kalem 10000 liradan satılmıştır?

- A) 4 B) 8 C) 12 D) 15

SORU-5

$\frac{10^2}{2} - \frac{9}{5} (10^{-1} - 10^{-2})^{-1}$ işleminin sonucu kaçtır?

- A) 5 B) 25 C) 30 D) 40

SORU-6

$\left[\left(\frac{-1}{3} \right)^3 : \left(\frac{2}{3} \right)^2 \right] : \left[\left(\frac{1}{4} \right)^2 : \left(\frac{-1}{2} \right)^3 \right]$ işleminin sonucu

aşağıdakilerden hangisidir?

- A) $-\frac{1}{12}$ B) $-\frac{2}{3}$ C) $\frac{1}{6}$ D) $\frac{4}{3}$

SORU-7

$\left(\frac{2 - \frac{1}{4}}{2 + \frac{1}{1 - \frac{1}{2}}} \right) : \frac{7}{8}$ işleminin sonucu kaçtır?

- A) 2 B) 1 C) $\frac{1}{2}$ D) $\frac{1}{4}$

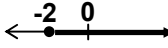
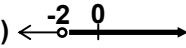
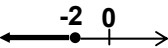
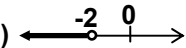
SORU-8

$\frac{5 \cdot 10^{-4} + 3 \cdot 10^{-3}}{2 \cdot 10^{-3}}$ işleminin sonucu aşağıdakilerden hangisidir?

- A) $\frac{9}{2}$ B) $\frac{7}{4}$ C) $4 \cdot 10^{-4}$ D) 10^{-1}

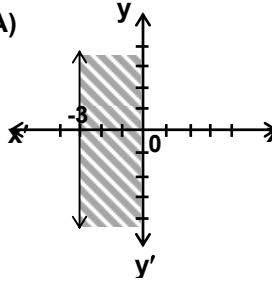
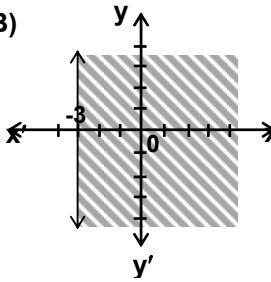
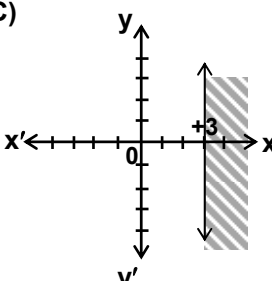
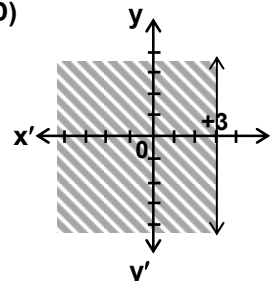
SORU-9

Aşağıdaki sayı doğrularının hangisinde, $-3x+6 \leq 12$ eşitsizliğinin çözüm kümesi koyu ve kalın çizgi ile gösterilmiştir?

- A)  B) 
 C)  D) 

SORU-10

$5-4x \leq 17$ eşitsizliğini sağlayan noktalar kümesi aşağıdaki koordinat düzlemlerinden hangisinde gösterilmiştir?

- A)  B) 
 C)  D) 

SORU-11

$x - \frac{2x+1}{3} = \frac{x}{2} - \frac{x+1}{5}$ denkleminin çözüm kümesi hangisidir?

- A) $\{-2\}$ B) $\{0\}$ C) $\{4\}$ D) $\{6\}$

SORU-12

MATEMATİK TESTİ

$-3x+7 \geq -14$ eşitsizliğinin tam sayılar kümesindeki çözüm kümesi hangisidir?

- A) {7,8,9,...} B) {...,5,6,7}
C) {...,-9,-8,-7} D) {-7,-8,-9,...}

SORU- 13

Bir sayının 5 katının 5 fazlası ile $\frac{1}{5}$ i toplandığında 31 bulunuyor ise, bu sayı kaçtır?

- A) 3 B) 5 C) 7 D) 9

SORU- 14

A(2,-1) noktasının, $x=-1$ doğrusuna göre simetriği olan noktanın koordinatları aşağıdakilerden hangisidir?

- A) (-4,-1) B) (-2,-1) C) (-2,1) D) (-3,-1)

SORU- 15

3 işçi, günde 6 şar saat çalışarak bir işi 10 günde bitiriyor. Aynı işi 5 işçi, günde 4 er saat çalışarak kaç günde bitirir?

- A) 7 B) 8 C) 9 D) 11

SORU- 16

Asit oranı %4 olan 200 kg zeytin yağı ile asit oranı %9 olan 300 kg zeytin yağı karıştırılıyor. Karışımın asit oranı % kaç olur?

- A) 5 B) 6,5 C) 7 D) 7,5

SORU- 17

Bir satıcı, bir malı % 40 kârla 14000 liraya, başka bir malı da % 20 zararlı 14000 liraya satıyor. Bu alışveriş sonunda satıcının kâr-zarar durumu nedir?

- A) 1500 lira kâr B) 1000 lira zarar
C) 500 lira kâr D) 1200 lira zarar

SORU- 18

a, b ve c sayılarının toplamı 72 dir. a sayısının

$\frac{1}{2}$ si, b sayısının $\frac{1}{3}$ ü ve c sayısının $\frac{1}{4}$ ü birbirine eşit olduğuna göre, c sayısı kaçtır?

- A) 16 B) 24 C) 32 D) 48

SORU- 19

Yıllık %75 den faize verilen 50000000 lira, 18750000 lira faizi kaç ayda getirir?

- A) 4 B) 6 C) 8 D) 9

SORU- 20

Toplamı 50 olan iki sayının oranı $\frac{3}{7}$ dir. Bu sayılardan büyük olanı kaçtır?

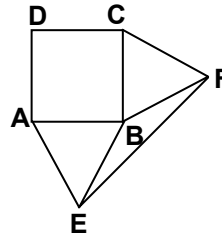
- A) 15 B) 20 C) 30 D) 35

SORU- 21

İki kenarının uzunlukları, 10 cm ve 17 cm olan üçgenin çevresi aşağıdakilerden hangisi olamaz?

- A) 34 cm B) 38 cm C) 42 cm D) 46 cm

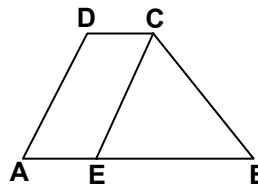
SORU- 22



Şekilde ABCD kare, AEB ve CBF eşkenar üçgenler olduğuna göre, $s(\hat{B}EF)$ kaç derecedir?

- A) 30 B) 25 C) 15 D) 10

SORU- 23



Verilen ABCD yamuğunda, $|EB|=3 \cdot |CD|$ ve $\frac{[DA]}{[CE]}$ olduğuna göre, $\frac{A(\hat{C}EB)}{A(AECD)}$ nedir?

- A) $\frac{2}{5}$ B) $\frac{1}{2}$ C) $\frac{3}{2}$ D) $\frac{5}{3}$

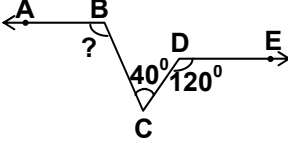
MATEMATİK TESTİ

SORU- 24

Bütün alanı 414 cm^2 olan bir silindirin yarıçapı 3 cm ise yüksekliği kaç cm dir? ($\pi=3$ alınacak.)

- A) 14 B) 16 C) 18 D) 20

SORU- 25

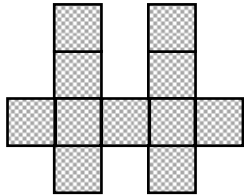


Şekilde, $[BA] \parallel [DE]$, $s(\hat{BCD}) = 40^\circ$,

$s(\hat{CDE}) = 120^\circ$ ise $s(\hat{ABC})$ kaç dercedir?

- A) 100 B) 120 C) 125 D) 130

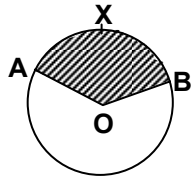
SORU- 26



Şekil, alanları eşit kareler-den meydana gelmektedir. Şeklin alanı 99 cm^2 ise, çevresinin uzunluğu kaç cm dir?

- A) 60 B) 68 C) 72 D) 76

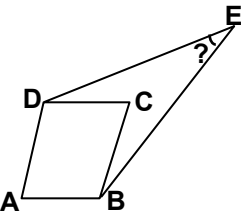
SORU- 27



Şekildeki O merkezli 6 cm yarıçaplı çemberde, \widehat{AXB} yayının uzunluğu 15 cm ise, taralı bölgenin alanı kaç cm^2 dir? ($\pi=3$ alınacak)

- A) 15 B) 22,5 C) 37,5 D) 45

SORU- 28



SORU- 1

ışık ışını
Hava
Cam

Cama şekildeki gibi ışık ışını geldiğinde aşağıdakilerden hangilerinin olması beklenir?

- I- Işığın aynı doğrultuda geri dönmesi
II- Işığın normale yaklaşarak kırılması
III- Temas yüzeyinin ısınması

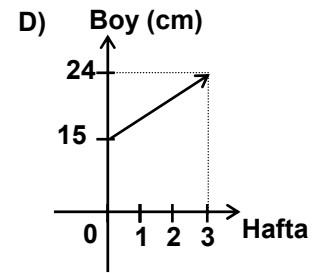
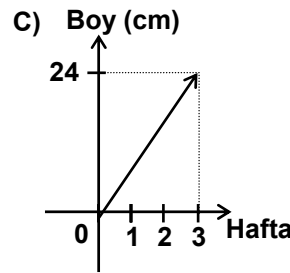
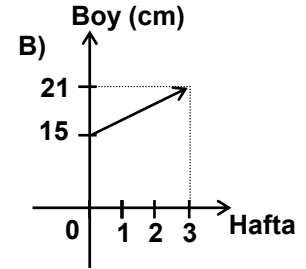
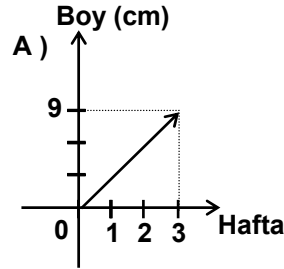
Şekilde ABCD eşkenar dörtgen;

$s(\hat{DAB}) = 60^\circ$, $s(\hat{CDE}) = 35^\circ$ ve $s(\hat{CBE}) = 15^\circ$ ise $s(\hat{DEB})$ kaç derecedir?

- A) 8 B) 10 C) 12 D) 15

SORU- 29

15 cm boyundaki bir biber fidesi haftada 3 cm uzamaktadır. Fidenin 3 haftalık büyümesini gösteren grafik aşağıdakilerden hangisidir?



SORU- 30

\oplus	a	b	c	d	e
a	d	e	a	b	c
b	e	a	b	c	d
c	a	b	c	d	e
d	b	c	d	e	a
e	c	d	e	a	b

Tabloda verilen işleme göre, b nin tersi m, d nin tersi k olsun. $(m \oplus k) \oplus e = (a \oplus x)$ ise, x yerine hangi eleman gelir?

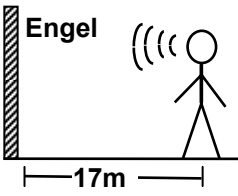
- A) a B) b C) d D) e

MATEMATİK TESTİ BİTTİ
FEN BİLGİSİ TESTİNE GEÇİNİZ.

- A) I-II B) I-III C) II-III D) I-II-III

SORU- 2

Sesin 340 metre/saniye hızla yayıldığı bir ortamda şekildeki gibi engele doğru bağırarak kişi, sesinin yankısını kaç saniye sonra duyar?



FEN BİLGİSİ TESTİ

- A) 0,1 B) 0,5 C) 1 D) 1,5

SORU- 3

Aşağıdaki bilgilerden hangileri doğrudur?

- I- İletken telde, hareket eden elektronların hızı iletkenin cinsine bağlı olarak değişir.
 II- Bir iletkenin direncinin azalması, iletkenliğini artırır.
 III- Bir maddede bulunan serbest elektron sayısı elektrik akımının iletimini etkiler.

- A) I - II B) I - III C) II - III D) I - II - III

SORU- 4

Bir doğru üzerinde hareket eden bir cismin ilk konumu -7 m ve son konumu -2 m ise, bu cismin durumu ile ilgili aşağıdakilerden hangisi kesinlikle söylenebilir?

- A) Hızının büyüklüğü ve doğrultusu değişmemiştir.
 B) Düzgün doğrusal hareket yapmıştır.
 C) Başlangıç noktasına yaklaşmıştır.
 D) Hızı zamanla değişmiştir.

SORU- 5

Aşağıdakilerden hangisinin ölçüm aracı yanlış verilmiştir?

- A) Isı - Kalorimetre
 B) Sıcaklık - Termometre
 C) Açık hava basıncı - Barometre
 D) Kütle - Dinamometre

SORU- 6

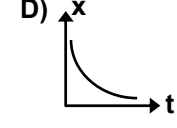
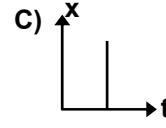
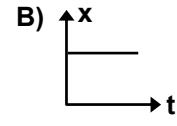
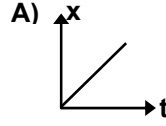
Bir noktaya etki eden kuvvetlerin bileşkesiyle ilgili bilgilerden hangileri doğrudur?

- I- Zıt yönlü iki kuvvetin bileşkesi, büyük kuvvet yönündedir.
 II- Aynı yönlü iki kuvvetin bileşkesi, kuvvetlerin her birinden büyüktür.
 III- Aynı yönlü iki kuvvetin bileşkesi, kuvvetlerin vektörel toplamına eşittir.

- A) I - II B) I - III C) II - III D) I - II - III

SORU- 7

Sabit hızla hareket eden bir cismin yol(x) - zaman(t) grafiği aşağıdakilerden hangisidir?



SORU- 8

Aşağıdakilerden hangisi bütün maddeler için doğrudur?

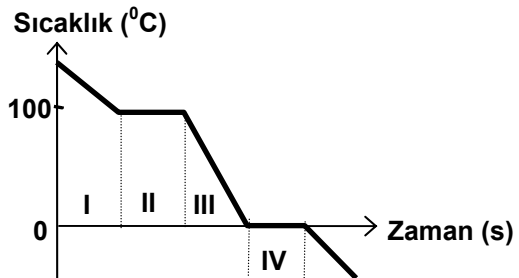
- A) Yoğunlaşırken ısı alırlar.
 B) Katı, sıvı ve gaz hâllerindeki yoğunlukları aynıdır.
 C) Katı hâldeyken kendi sıvıları içinde tamamen batırlar.
 D) Kütleleri aynı olmak şartıyla, gaz hâlindeki hacimleri katı hâldeki hacimlerinden fazladır.

SORU- 9

Kum - demir tozu - tuz - su karışımı süzgeç kâğıdından geçiriliyor. Kâğıdın altına geçen karışım kaynatıldığında kabın dibinde aşağıdakilerden hangisi kalır?

- A) Kum ile demir tozu
 B) Demir tozu ile tuz
 C) Sadece tuz
 D) Sadece kum

SORU- 10



Yukarıda soğuma eğrisi verilen su buharı için aşağıdakilerden hangisi doğru değildir?

- A) I. bölgede sadece buhardır.
 B) II. bölgede buhar ve sıvıdır.
 C) III. bölgede sadece sıvıdır.
 D) IV. bölgede sadece katıdır.

FEN BİLGİSİ TESTİ

SORU- 11

Aşağıdakilerden hangisi yakıt olarak kullanılmaz?

- A) Turba B) Linyit
C) Taş kömürü D) Antrasit

SORU- 12

Hormonlar hangisi tarafından salgılanır?

- A) Sinir sistemi B) Sindirim sistemi
C) Dolaşım sistemi D) Endokrin sistemi

SORU- 13

Merkezî sinir sisteminin hangi organı vücudun dengesini sağlar?

- A) Beyin B) Beyincik
C) Omurilik D) Omurilik soğanı

SORU- 14

- I- İyot yeterince vücuda alınmadığında tiroid bezinin hacimce büyümesi beklenir.
II- Tiroid bezi hormonu, vücudun su ve mineral dengesini ayarlar.

Yukarıdaki bilgiler için ne söylenebilir?

- A) Yalnız I doğru B) Yalnız II doğru
C) Her ikisi de doğru D) Her ikisi de yanlış

SORU- 15

- I- Aşı sağlıklı kişilere yapılır.
II- Serum hasta kişilere verilir.

Yukarıdaki bilgiler için ne söylenebilir?

- A) Yalnız I doğru B) Yalnız II doğru
C) Her ikisi de doğru D) Her ikisi de yanlış

SORU- 16

Aşağıdaki organlarımızdan hangisinin yapısında kırmızı kas bulunur?

- A) Midenin B) Soluk borusunun
C) Göz kapağının D) İnce bağırsağın

SORU- 17

Aşağıdaki besin maddelerinden hangisi kâğıt üzerine sürüldüğünde kâğıt yarı saydam hâle gelir?

- A) Nişasta B) Protein C) Tuz D) Yağ

SORU- 18

Aşağıdakilerden hangisi sindirim sisteminin yardımcı organı değildir?

- A) Pankreas B) Karaciğer
C) Akciğer D) Tükürük bezleri

SORU- 19

Aşağıdaki davranışlardan hangisi sindirim sistemi sağlığı için uygun değildir?

- A) Sofrada dik oturmak
B) Lokmaları iyice çiğnemek
C) Yemek yerken acele etmek
D) Yemekten sonra kısa süre dinlenmek

SORU- 20

Aşağıdakilerden hangisi kana renk verir?

- A) Akyuvar B) Plâzma
C) Alyuvar D) Karbondioksit

FEN BİLGİSİ TESTİ BİTTİ.
SOSYAL BİLGİLER-DİN KÜLTÜRÜ ve AHLÂK
BİLGİSİ TESTİNE GEÇİNİZ.

SOSYAL BİLGİLER-DİN KÜLTÜRÜ ve AHLÂK BİLGİSİ TESTİ

SORU- 1

Aşağıdakilerden hangisi, TBMM'nin görev ve yetkilerinden biridir?

- A) Savaş ilânına karar vermek.
- B) Bakanlıklar arasında uyum ve işbirliğini sağlamak.
- C) Bütün işlerinden dolayı Başbakan'a karşı sorumlu olmak.
- D) Hükümet üyelerini atamak.

SORU- 2

Aşağıdakilerden hangisi mahkemelerimizin özelliklerinden değildir?

- A) Hâkimlerin görevlerinde bağımsız olmaları
- B) Hâkimlerin, kanuna ve hukuka uygun olarak hüküm vermeleri
- C) Kanun yapma yetkisine sahip olmaları
- D) Yargı yetkisinin kullanılmasında, hâkimlerin hiç kimseden emir almamaları

SORU- 3

Aşağıdakilerden hangisi ahlâki değerlere uygun davranışlardan değildir?

- A) Devlet malını korumak
- B) Kendi çıkarını düşünmek
- C) Kültür varlıklarına sahip çıkmak
- D) Yoksullara yardım etmek

SORU- 4

Aşağıdakilerden hangisi, düşünce ve kanaat hürriyeti ilkeleri arasında yer almaz?

- A) Yaşama her insanın en tabii hakkıdır, insan hayatına son verilemez.
- B) İnsanlar düşünce ve kanaatlerini açıklamaya zorlanamaz.
- C) Fertler düşüncelerinden dolayı kınanamaz.
- D) Hiç kimse bir fikir ve düşünceyi zorla kabul etme durumunda bırakılamaz.

SORU- 5

Türkiye'nin aşağıdaki hangi özelliği Dünya ülkeleri arasındaki önemini artırır?

- A) Yeryüzü şekilleri
- B) Matematik konumu
- C) İklimi
- D) Özel konumu

SORU- 6

Türk nüfusunun en yoğun olduğu ülke aşağıdakilerden hangisidir?

- A) Yunanistan
- B) Gürcistan
- C) Bulgaristan
- D) Suriye

SORU- 7

Doğu Karadeniz Bölümü'nün kıyı ile iç kesimleri karşılaştırıldığında, aşağıdakilerden hangisinde benzerlik görülür?

- A) İklim özelliği
- B) Yetiştirilen tarım ürünleri
- C) Nüfuslanma ve yerleşme
- D) Dağların doğrultusu

SORU- 8

Yurdumuzun bazı yer altı zenginlikleri ile buldukları yerler aşağıda eşleştirilmiştir. Yanlış olanı hangisidir?

<u>Yer altı zenginliği</u>	<u>Buldukları Yerler</u>
A) Mermer	Afyon
B) Bakır	Murgul
C) Bor	Küre
D) Linyit	Soma

SORU- 9

Aşağıdakilerden hangisi, İstanbul'un fethedilmesinin sonuçlarından biri değildir?

- A) Osmanlı padişahlarının halife ünvanını alması
- B) Osmanlıların Balkanlardaki fetihlerinin kolaylaşması
- C) Karadeniz ticaret yolunun Osmanlı denetimine girmesi
- D) Anadolu'daki Osmanlı hâkimiyetinin kuvvetlenmesi

SORU- 10

Trablusgarb'ın Osmanlı Devleti'ne bağlanması, hangi padişah döneminde gerçekleşmiştir?

- A) Fatih Sultan Mehmet
- B) II.Bayezit
- C) Yavuz Sultan Selim
- D) Kanunî Sultan Süleyman

SORU- 11

SOSYAL BİLGİLER-DİN KÜLTÜRÜ ve AHLÂK BİLGİSİ TESTİ

Aşağıdakilerden hangisi, Mısır Seferi'nin sonuçlarından biri değildir?

- A) Akdeniz'in bir Türk gölü haline gelmesi
- B) Osmanlı hazinesinin zenginleşmesi
- C) Önemli ticaret yollarından birinin Osmanlıların eline geçmesi
- D) Kutsal emanetlerin İstanbul'a getirilmesi

SORU- 12

XVI. yüzyılın sonlarında, Akdeniz ve Karadeniz ticaret yollarının önemini yitirmesinin sebebi aşağıdakilerden hangisidir?

- A) Osmanlı donanmasının okyanuslara uygun olmaması
- B) Rusya'nın Avrupa ile ticaretini geliştirmesi
- C) Süveyş Kanalı'nın hizmete sunulması
- D) Coğrafya keşifleri ile yeni ticaret yollarının bulunması

SORU- 13

Kırım'a bağımsızlık verilerek Osmanlı yönetiminden ayrılması hangi antlaşma ile olmuştur?

- A) Küçük Kaynarca
- B) Prut
- C) Karlofça
- D) Yaş

SORU- 14

III.Selim'in yaptığı ıslahatların amacı nedir?

- A) Devleti güçlendirmek
- B) Yeni topraklar kazanmak
- C) Gayri müslimlere yeni haklar vermek
- D) Kapitülasyonları kaldırmak

SORU- 15

Osmanlı Devleti'nde fethedilen toprakları, gelirlerine göre defterlere kaydetme işini yürüten Divan üyesi hangisidir?

- A) Nişancı
- B) Kazasker
- C) Veziriazam
- D) Defterdar

DİN KÜLTÜRÜ ve AHLAK BİLGİSİ DERSİ
OKUYANLAR AŞAĞIDAKİ SORULARI
DİN KÜLTÜRÜ ve AHLAK BİLGİSİ DERSİ OKUYANLAR, AŞAĞIDAKİ SOSYAL BİLGİLER SORULARI

CEVAPLAYACAKLAR. OKUMAYANLAR BUNUN YERİNE, AYNI NUMARALI SOSYAL BİLGİLER SORULARINI CEVAPLAYACAKLAR.

SORU- 16

Allah(c.c)'ın her şeyi bilmesi anlamına gelen sıfatı hangisidir?

- A) Hayat
- B) İlim
- C) Semi
- D) Basar

SORU- 17

Aşağıdakilerden hangisi İslâm ahlâkıyla bağdaşmaz?

- A) Hayırseverlik insanlara mutluluk verir.
- B) Sabır, haksızlığa ve hakarete katlanmaktır.
- C) Allah(c.c)'a güvenmek ümitsizliği yok eder.
- D) İyiliğe teşekkür etmek vefa borcudur.

SORU- 18

Aşağıdakilerden hangisi güzel huylardan birisidir?

- A) Kendi el emeğiyle geçinmek
- B) Başkalarının hak ve hürriyetlerini engellemek
- C) Kendini diğer insanlardan büyük ve üstün görmek
- D) Harcamalarında savurgan davranmak

SORU- 19

Dinimize göre inananların sayısız nimetler içinde sonsuza kadar yaşayacakları ahiret yurdunun adı hangisidir?

- A) Cehennem
- B) Cennet
- C) Mahşer
- D) Kabir

SORU- 20

Doğru bir amaca ulaşabilmek için gerekli her çabayı gösterdikten sonra sonucu Allah(c.c)'a bırakıp O'na güvenmeye ne denir?

- A) Dua
- B) Tevekkül
- C) Kader
- D) Kaza

RINA CEVAP VERECEKLER. OKUYANLAR CEVAP VERMEYECEK.

SORU- 16

SOSYAL BİLGİLER-DİN KÜLTÜRÜ ve AHLÂK BİLGİSİ TESTİ

Anayasamıza göre, fertlerin toplumda hür ve güven içinde yaşaması aşağıdakilerden hangisiyle güvence altına alınmıştır?

- A) Kişi dokunulmazlığı
- B) Kişi hürriyeti ve güvenliği
- C) Özel hayatın gizliliği ve korunması
- D) Bilim ve sanat hürriyeti

SORU- 17

Aşağıdakilerden hangisi İç Anadolu ile Çukurova'yı birbirine bağlar?

- A) Sertavul Geçidi
- B) Gülek Boğazı
- C) Belen Geçidi
- D) Kalkanlı Geçidi

SORU- 18

Trabzon'da Karadeniz iklimi görülürken, Gümüşhane'de karasal iklim özelliği görülmektedir.

Bu duruma neden olan en etkili faktör, aşağıdakilerden hangisidir?

- A) Denize yakınlık ve uzaklık
- B) Enlem farkı
- C) Bitki örtüsü farklılığı
- D) Matematik konum

SORU- 19

1877-1878 Osmanlı Rus Savaşı sonucunda imzalanan Ayastefanos Antlaşması'nın uygulanmaması üzerine aşağıdaki antlaşmalardan hangisi yapılmıştır?

- A) Paris
- B) Berlin
- C) Londra
- D) Hünkâr iskelesi

SORU- 20

Aşağıdakilerden hangisi, II.Mahmut Dönemi'nde yapılan yeniliklerden biri değildir?

- A) Divan'ın kaldırılması

- B) "Takvim-i Vakayi" adında ilk resmî gazetenin çıkarılması
- C) Matbaanın açılması
- D) Yeniçeri Ocağı'nın kaldırılması

SOSYAL BİLGİLER-DİN KÜLTÜRÜ ve AHLÂK BİLGİSİ TESTİ BİTTİ.
CEVAPLARINIZI KONTROL EDİNİZ.

