

TÜRKÇE TESTİ

SORU- 1

İlk yağmur damlası düştü
Kuru yapraklarına güzün,
Ardında kış kıyamet
Dert, hüzn.

Dörtlükten aşağıdakilerin hangisi çıkarılabilir?

- A) Yağmurun ferahlık verdiği
- B) Kış mevsiminin sıkıntı verdiği
- C) Sonbaharda yağmurun az yağdığı
- D) Yağmura ihtiyaç duyulduğu

SORU- 2

Aşağıdaki cümlelerin hangisinde yazım yanlışı vardır?

- A) Adana'ya uçakla gitmeye karar verdik.
- B) Pervin ile Fatma ayrı dünyaların insanlarıydı.
- C) Hep birlikte değil sırayla konuşun.
- D) Bugün Ayşey'le parka gideceğiz.

SORU- 3

"Güzel" kelimesi, hangi cümlede isim olarak kullanılmıştır?

- A) Ne kadar güzel bir kitap!
- B) Gördüğümüz manzara çok güzeldi.
- C) Evini çok güzel döşemişti.
- D) Güzel kalemleri vardı.

SORU- 4

"Hangi" kelimesi aşağıdaki cümlelerin hangisinde sıfat olarak kullanılmıştır?

- A) Sana bu kitabı hangisi verdi?
- B) Toplantıda önce hanginiz konuştu?
- C) Hangi şarkıyı dinlemeyi seviyorsunuz?
- D) Aldıklarından hangilerini giymek istiyorsun?

SORU- 5

Aşağıdaki kelimelerin hangisinde, sesli düşmesi vardır?

- A) Canına B) Kanına C) Yoluna D) Boynuna

SORU- 6

Aşağıdaki kelimelerin hangisine, ünlü ile başlayan bir ek getirildiğinde ünsüz yumuşaması görülmez?

- A) Pamuk B) Sevinç C) Hayat D) Çorap

SORU- 7

Aşağıdaki cümlelerden hangisinin öznesi gizlidir?

- A) Çocuklara karşı çok şefkatli davranırdı.
- B) Çocuklar nefes nefese kalmışlardı.
- C) O da ablası gibi nazik bir insandı.
- D) Öğretmeni onu öve öve bitirememişti.

SORU- 8

Aşağıdaki kelimelerle anlam ilişkisi bakımından üçlü bir grup oluşturulduğunda hangisi dışta kalır?

- A) İlerleme B) Kalkınma
- C) Gelişme D) Güzellik

SORU- 9

Aşağıdaki mısraların hangisinde deyim yoktur?

- A) Sen neden gülmüyor, gülümsemiyorsun?
- B) Ekşi yüzlü kimselerden
- C) Yüz çevirir herkes,
- D) Görmezlikten gelirler onları.

SORU- 10

Bu türkü... Bu benim en sevdiğim türküdür. Kim söylüyor acaba? Dönüp baktım, bir çocuk söylüyor bu türküyü. Ah be çocuk... Beni köyüme, Hasan dedemin kulübesine götürdün işte... Havasında içde kokusu olan o küçük patikadan, dilimde bu türküyle ona gittiğim günlere götürdün. Çok yaşa sen e mi...

Yazarın duygulanmasının asıl sebebi aşağıdakilerden hangisidir?

- A) Türküleri çok sevmesi
- B) Çocuğun sesinin güzel olması
- C) Eski günlerini hatırlaması
- D) Çok sevdiği dedesini özlemesi

SORU- 11

Aşağıdaki kelimelerden hangisi, sözlük sırasına göre en sonda yer alır?

- A) Zirve B) Zincir
- C) Ziyaret D) Zihin

TÜRKÇE TESTİ

SORU- 12

Aşağıdakilerden hangisi sıfat tamlamasıdır?

- A) Kırgın gönül B) Kuşun sesi
C) Bursa ovası D) Yiğitlik türküsü

SORU- 13

- 1- öç alabilme gücü
2- istenilmeden veren
3- en erdemlisi de
4- insanların en cömerdi
5- bağışlayandır
6- varken

Yukarıdaki kelime ve kelime dizileriyle kurallı ve anlamlı cümle oluşturulduğunda sıralama nasıl olur?

- A) 2 - 4 - 3 - 6- 1 - 5 B) 4 - 6 - 2 - 3- 1 - 5
C) 4 - 2 - 3 - 1- 6 - 5 D) 4 - 1 - 6 - 2- 3 - 5

SORU- 14

Hangi cümlede özne-yüklem uygunluğu yoktur?

- A) Komşumuzun askerde bir oğlu vardı.
B) Hayriler, apartmanın alt katında oturuyorlar.
C) Ailesi bir dediğini iki etmiyorlardı.
D) Evleri çok geniş bir bahçeye açılıyordu.

SORU- 15

Hepimiz söz söylemek, söylediğimiz sözlerle karşımızdakileri ikna ederek iş başarmak, bir amaca ulaşmak isteriz. Ama çoğumuz söz söylemeyi bilmediğimiz için bütün içtenliğimize rağmen başarısızlığa uğrarız.

Paragrafta aşağıdakilerin hangisinden söz ediliyor?

- A) Konuşma fırsatı bulamadığımızdan
B) Samimi olamadığımızdan
C) Amacımızı iyi tespit edemediğimizden
D) Çoğumuzun güzel konuşamadığından

SORU- 16

Aşağıdaki seçeneklerin hangisinde, sırasıyla “yeni, büyük, uzun” kelimelerinin zıt anlamlıları verilmiştir?

- A) Eski - kısa - yakın
B) Sağlam - kocaman - geniş
C) Eski - küçük - kısa
D) Çürük - dar - ince

SORU- 17

Hangi cümlede bildirilen eylem henüz gerçekleşmemiştir?

- A) Alış verişten sonra evine gitmiş.
B) Bu kitabı beş günde okudu.
C) Verilen görevi hemen yapmalı.
D) Akşama doğru bir haber geldi.

SORU- 18

“Bunları fidanlıktan aldım.” cümlesindeki altı çizili kelimenin çeşidi nedir?

- A) Sıfat B) İsim C) Zamir D) Zarf

SORU- 19

“O kadar çok çilek var ki,” cümlesindeki boşluğa aşağıdakilerden hangisinin getirilmesi uygun değildir?

- A) sepetimi tepeleme doldurur.
B) günlerce toptasak yine bitmez.
C) koyacak yerimiz kalmadı.
D) bize bile yetmedi.

SORU- 20

“Kol” kelimesi aşağıdaki cümlelerin hangisinde “ekip” anlamında kullanılmıştır?

- A) Kızılırmak’ın bir kolu da buradan geçiyor.
B) Tiyatro kolu çalışmalarına başladı.
C) Askerler sağ koldan saldırıyordu.
D) Kolunu Çanakkale’de kaybetti.

SORU- 21

En güzel havasıyla dolu odalar,
Yıl geçip gitse de gitmiyor bahar.
Sokağa taşıyor şen kahkahalar
Böyle gülmemişti bu ev bu kadar.

Dörtlükte işlenen duygu nedir?

- A) Mutluluk B) Dostluk
C) Özlem D) Merak

SORU- 22

Aşağıdaki kelimelerden hangisi, hâl eki almıştır?

- A) Ova B) Yama C) Dağa D) Deli

SORU- 23

Aşağıdakilerden hangisi, “İyilik eden iyilik bulur.” atasözüyle yakın anlamlı değildir?

- A) Ne ekersen onu biçersin.
- B) Ne doğrarsan aşına, o çıkar karşına.
- C) İyilik et denize at, balık bilmezse Halik bilir.
- D) Herkes ne ederse kendine eder.

SORU- 24

Aşağıdakilerden hangisi soru cümlesidir?

- A) Hangi işi yapacağımı şaşırdım
- B) Bu konuda ne diyeceksiniz
- C) Niçin gelmediğini bilemem
- D) Nereye gideceğini soruyordu

SORU- 25

“Birçok” kelimesi, aşağıdaki cümlelerin hangisinde zamir olarak kullanılmıştır?

- A) Bu sokaklardan birçok insan gelip geçti.
- B) Bunların birçoğu büyük babamdan kaldı.
- C) Birçok hastalığın çaresi daha bulunamadı.
- D) Birçok hayırsever bize kucak açtı.

SORU- 26

“Yürürüz-gelmez” fillerinin zamanları hangi seçenekte doğru verilmiştir?

- A) Geçmiş zaman-gelecek zaman
- B) Geniş zaman-geniş zaman
- C) Şimdiki zaman-geniş zaman
- D) Şimdiki zaman-şimdiki zaman

SORU- 27

Hangi cümlede, eylemin nasıl yapıldığı belirtilmiştir?

- A) Babam, hepimizi tiyatroya götürdü.
- B) Çocuk, dikkatle gökyüzüne bakıyordu.
- C) Annem, ağlayan çocuğu kucağına aldı.
- D) Komşumuz, evinin önünü temizliyor.

SORU- 28

Aşağıdakilerden hangisi birleşik kelime değildir?

- A) Birkaç
- B) Herhangi
- C) Düşeyazmak
- D) Heveslenmek

SORU- 29

Aşağıdakilerden hangisi isim cümlesidir?

- A) Onu da davet ettim düşünüm.
- B) İşi iyi öğrenmek için çok çalıştı.
- C) Toplantı salonunda göremedim seni.
- D) Dün konuştuğum çocuk, o değildi.

SORU- 30

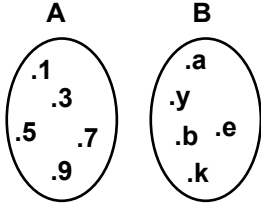
Aşağıdaki kelimelerin hangisinde yapım eki vardır?

- A) Yaptı
- B) Kolu
- C) Sınıfta
- D) Tatlı

**TÜRKÇE TESTİ BİTTİ.
MATEMATİK TESTİNE GEÇİNİZ.**

MATEMATİK TESTİ

SORU- 1

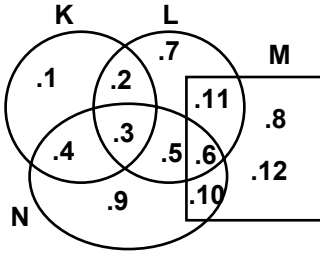


Şema ile verilen A ve B kümelerine göre, aşağıdakilerden kaç tanesi doğrudur?

- I- A ve B kümeleri eşit kümeler değildir.
 II- A ve B kümeleri denk kümelerdir.
 III- B = {Alfabemizin bazı harfleri}
 IV- A = {10 dan küçük tek doğal sayılar}

- A) 1 B) 2 C) 3 D) 4

SORU-2



Şemada belirtilen K,L,M ve N kümelerinden hangisinin eleman sayısı en azdır?

- A) K B) L C) M D) N

SORU-3

Atatürk'ün ölüm yılı olan 1938 sayısının basamak değerleri toplamından, doğum yılı olan 1881 sayısının sayı değerlerinin toplamı çıkarıldığında fark kaç olur?

- A) 1918 B) 1920 C) 1922 D) 1923

SORU-4

Aşağıda çözümlenmiş verilen doğal sayılardan en küçüğü hangisidir?

- A) $2 \times 10000 + 8 \times 1000 + 0 \times 100 + 0 \times 10 + 6 \times 1$
 B) $2 \times 10000 + 8 \times 1000 + 5 \times 100 + 0 \times 10 + 4 \times 1$
 C) $2 \times 10000 + 8 \times 1000 + 0 \times 100 + 1 \times 10 + 6 \times 1$
 D) $2 \times 10000 + 8 \times 1000 + 1 \times 100 + 0 \times 10 + 5 \times 1$

SORU-5

Aşağıdaki sayılardan hangisinin binler bölüğündeki rakamların sayı değerleri toplamı 11 dir?

- A) 281347 B) 280346 C) 282064 D) 181506

SORU-6

SORU-12

$$\begin{array}{r} \dots \\ \times \quad 34 \\ \hline 5504 \\ + \quad \dots \\ \hline \dots \end{array}$$

Verilen çarpma işlemine göre, çarpım kaçtır?

- A) 47648 B) 46784 C) 4128 D) 1376

SORU-7

$$\begin{array}{r} 25 \overline{) 5} \\ \underline{25} \\ 00 \end{array}$$

Verilen bölme işlemi aşağıdaki problemlerden hangisinin çözümüdür?

- A) 5 adımı 1 m olan bir çocuğun 25 adımı kaç m dir?
 B) Tanesi 25 lira olan kalemlerin 5 tanesi kaç liradır?
 C) Haftada 25 yumurta tüketen bir aile, 5 haftada kaç yumurta tüketir?
 D) Tanesi 5 lira olan sakızın 25 tanesi kaç liradır?

SORU-8

$$\begin{array}{r} a \overline{) b} \\ \underline{ 2} \\ 3 \end{array}$$

a ve b doğal sayılardır. Verilen bölme işlemine göre, a'nın en küçük değeri kaç olur?

- A) 7 B) 9 C) 11 D) 13

SORU-9

Aşağıdaki çarpma işlemlerinin hangisinde çarpımın birler basamağı 7 dir?

- A) 127×59 B) 122×244
 C) 213×119 D) 323×513

SORU-10

$215542 > 215539 > 215550 > 215536 > 215503$ verilen sıralamada hangi sayının yeri yanlıştır?

- A) 215536 B) 215550 C) 215539 D) 215503

SORU-11

“Dokuz yüz dokuz milyon dokuz yüz bin dokuz” sayısının rakamlarla yazılışı aşağıdakilerden hangisidir?

- A) 909009009 B) 900900090
 C) 900090009 D) 909900009

MATEMATİK TESTİ

5 kg elma ile 3 kg portakal için 2100000 lira ödenmiştir. 1 kg portakal 300000 lira olduğuna göre, elmanın kilosu kaç liradır?

- A) 250000 B) 240000 C) 230000 D) 220000

SORU- 13

$\frac{a}{b} = \frac{42}{54}$ olduğuna göre, a ve b yerine gelebilecek doğal sayıların toplamının en küçük değeri kaçtır?

- A) 7 B) 9 C) 16 D) 23

SORU- 14

$\frac{37}{56}$ kesrinin payından hangi sayı çıkarılırsa, $\frac{4}{7}$ kesrine denk bir kesir elde edilir?

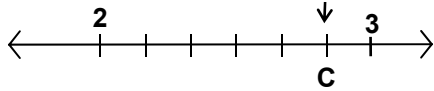
- A) 5 B) 4 C) $\frac{5}{56}$ D) $\frac{3}{56}$

SORU- 15

Aşağıdaki kesir çiftlerinden hangisi, bileşik kesirlerdir?

- A) $\frac{3}{5}$ ve $\frac{4}{7}$ B) $\frac{5}{5}$ ve $\frac{5}{7}$
C) $\frac{8}{9}$ ve $\frac{7}{7}$ D) $\frac{4}{4}$ ve $\frac{7}{5}$

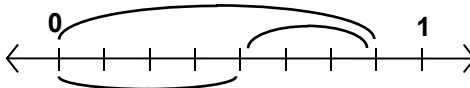
SORU- 16



Verilen sayı doğrusu üzerinde, 2 ile 3 arası 6 eş parçaya bölünmüştür. Buna göre, C noktasına karşılık gelen kesir sayısı hangisidir?

- A) $2\frac{4}{6}$ B) $2\frac{3}{6}$ C) $2\frac{5}{6}$ D) $2\frac{2}{6}$

SORU- 17

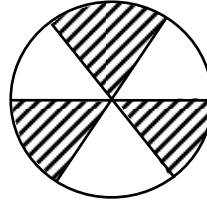


SORU- 22

Verilen sayı doğrusu üzerinde 0 ile 1 arası 8 eş parçaya bölünmüştür. Bu sayı doğrusu üzerinde yapılan çıkarma işlemi aşağıdakilerden hangisidir?

- A) $\frac{7}{8} - \frac{4}{8} = \frac{3}{8}$ B) $\frac{4}{8} - \frac{3}{8} = \frac{1}{8}$
C) $\frac{7}{8} - \frac{3}{8} = \frac{4}{8}$ D) $\frac{7}{8} - \frac{5}{8} = \frac{2}{8}$

SORU- 18



Verilen bir bütün 6 eş parçaya bölünmüştür. Taralı parçaları ifade eden kesir sayısı ile taralı olmayan parçaları ifade eden kesir sayıları toplamı kaçtır?

- A) 0 B) $\frac{3}{6}$ C) $\frac{4}{6}$ D) 1

SORU- 19

$2 \times 1\frac{3}{7}$ işleminde çarpım aşağıdakilerden hangisidir?

- A) $2\frac{3}{7}$ B) $2\frac{6}{7}$ C) $1\frac{5}{7}$ D) $1\frac{6}{7}$

SORU- 20

Tuğrul, parasının $\frac{2}{7}$ sini sinemaya, $\frac{3}{7}$ ünü yemeğe harcadı. Geriye kalan 1850000 lira ile de kitap almıştır. Buna göre, parasının tamamı kaç liradır?

- A) 3775000 B) 4525000 C) 5625000 D) 6475000

SORU- 21

Bir işçi, birinci gün 85,75 kg, ikinci gün birinci günden 7,5 kg fazla, üçüncü gün de ikinci günden 15,25 kg eksik çay toplamıştır. Buna göre, üç günde kaç kg çay toplanmıştır?

- A) 257 B) 250,75 C) 240 D) 225,25

MATEMATİK TESTİ

Adı	Ağırlığı (Kg)
Fatih	34,6
Berk	25,8
Alp	40
Yiğit	34,6
Ayça	25

Yukarıda beş öğrencinin ağırlıkları verilmiştir. Buna göre, öğrencilerin ağırlık ortalaması kaç kg dır?

- A) 38 B) 36 C) 32 D) 30

SORU- 23

☆ Δ, Δ
+ Δ, 5
□ □, 3

Verilen toplama işlemine göre, ☆ yerine hangi rakam gelir?

- A) 9 B) 8 C) 7 D) 6

SORU- 24

Dikdörtgen şeklindeki bir odanın boyu 6, eni 4 adımdır. Bir adım 60 cm olduğuna göre, bu odanın çevresi kaç m dir?

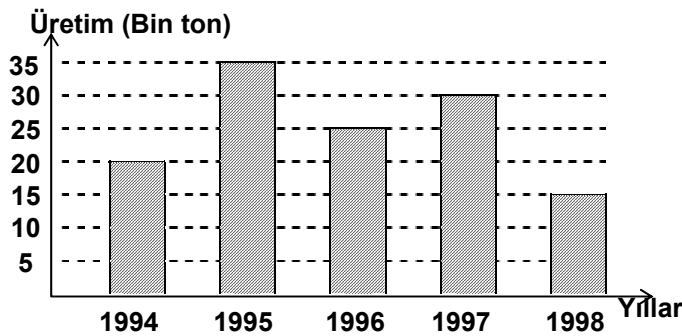
- A) 10 B) 12 C) 14 D) 16

SORU- 25

Kilogramı 2500000 lira olan fındıktan 750 gr alan bir kişi, kaç lira ödemiştir?

- A) 2000000 B) 1875000
C) 1800000 D) 1675000

SORU- 26



Verilen grafik, Yozgat ilinin yıllara göre buğday üretimini göstermektedir. Yıllık ortalama buğday üretimi kaç bin tondur?

- A) 15 B) 20 C) 25 D) 30

SORU- 27

SORU- 1

Uzaydan çekilen fotoğraflar Dünya'nın özelliklerinden hangileri hakkında bilgi verir?

Boyu, eninin 3 katı olan dikdörtgenin çevresinin uzunluğu 32 cm ise, alanı kaç cm^2 dir?

- A) 24 B) 32 C) 48 D) 52

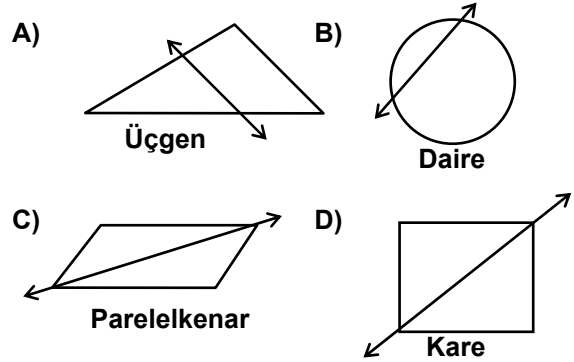
SORU- 28

Aşağıdaki ifadelerden hangisi yanlıştır?

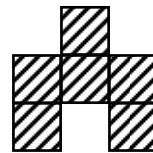
- A) Bir noktadan sayılamayacak çoklukta doğru geçer.
B) Işınlardan uzunlukları ölçülemez.
C) İki noktadan yalnız bir doğru geçer.
D) Doğru parçası sınırsızdır.

SORU- 29

Geometrik şekiller üzerinde çizilen doğrulardan hangisi simetri eksenidir?



SORU- 30



Taralı şekil birbirine eş karelerden oluşmaktadır. Karelerden birinin alanı $36 cm^2$ ise, taralı şeklin çevresinin uzunluğu kaç cm dir?

- A) 84 B) 72 C) 64 D) 56

MATEMATİK TESTİ BİTTİ.
FEN BİLGİSİ TESTİNE GEÇİNİZ.

- I- Birbiri içine geçmiş katmanlardan meydana geldiği
II- Kendi ekseninde döneceği
III- Kutuplardan basık, ekvatorundan şişkin olduğu

FEN BİLGİSİ TESTİ

- A) I-II B) I-III C) II-III D) I-II-III

SORU- 2

Bozulan bir çevrede aşağıdakilerden hangileri görülür?

- I- Mikropların çoğalması
II- Hastalıkların azalması
III- Canlıların tür sayısının azalması

- A) Yalnız II B) Yalnız III C) I-II D) I-III

SORU- 3

Aşağıdakilerin hangilerinde ormanlar etkilidir?

- I- Havadaki oksijen ve karbondioksit dengesinde
II- Hayvan sayısının fazla olmasında
III- Toprak erozyonunun artmasında

- A) Yalnız I B) I-II C) II-III D) I-II-III

SORU- 4

Aşağıdakilerden hangisi çevre açısından olumlu davranıştır?

- A) Orman tahribatını önlemek
B) Böcek öldürücü ilaç kullanmak
C) Yabancı otlara karşı zehir kullanmak
D) Fazla ürün için fazla yapay gübre kullanmak

SORU- 5

- I- Güneş en büyük ışık kaynağımızdır.
II- Bazı maddeler sonradan ışık kaynağı hâline getirilebilir.

Yukarıdaki bilgiler için ne söylenebilir?

- A) Yalnız I doğru B) Yalnız II doğru
C) Her ikisi de doğru D) Her ikisi de yanlış

SORU- 6

Aşağıdakilerden hangisi cisim değildir?

- A) Masa B) Tuğla C) Saksı D) Toprak

SORU- 7

Sıvı bir maddenin kokusunun çevrede bulunurca hissedilmesi bize aşağıdakilerden hangilerini düşündürmelidir?

- I- Maddeler arasında ısı alış verişinin olduğunu
II- Ortamdaki havanın yer değiştirdiğini
III- Sıvı maddenin buharlaştığını

- A) Yalnız I B) I-II
C) II-III D) I-II-III

SORU- 8

Aşağıda kütleleri verilen eşit hacimli K, L, M, N maddelerinden hangisinin yoğunluğu en azdır?

- A) K=15 gram B) L=6 gram
C) M=4,8 gram D) N=3,6 gram

SORU- 9

Madde	Yoğunluk (g/cm ³)
K	0,7
L	0,8
M	0,9
N	2,5

Tabloda yoğunlukları verilen saf maddelerden eşit hacimde alındığında hangisinin kütlesi en az olur?

- A) K B) L C) M D) N

SORU- 10

Sınıfta yapılan bir deneyde iki maddenin farklı sıcaklıklarda eridiği gözleniyor. Buna göre bu iki madde için aşağıdakilerden hangisi deney başlangıcında kesinlikle aynıdır?

- A) Isıları B) Yoğunlukları
C) Hâl durumları D) Madde miktarları

SORU- 11

Aşağıdakilerden hangisi her kalınlıkta opak özellik gösterir?

- A) Cam B) Demir C) Su D) Hava

SORU- 12

Aşağıdakilerden hangisi canlıların ortak özelliği değildir?

- A) Solunum
B) Boşaltım
C) Besin yapma
D) Hücrelerden meydana gelme

SORU- 13

Aşağıdakilerden hangisi havadaki oksijeni kullanmaz?

- A) Fok B) Balina
C) Yunus D) Köpek balığı

SORU- 14

Aşağıdakilerden hangisi beslenme yönünden diğerlerinden farklı grupta yer alır?

FEN BİLGİSİ TESTİ

- A) Aslan B) Kurt C) Keçi D) Kaplan

SORU- 15

Aşağıdakilerden hangisi tüm etçil memeli hayvanlar için doğrudur?

- A) Kemiricidir.
B) Mideleri bölümlüdür.
C) Vücutları kıllarla kaplıdır.
D) Azı dişleri otçullarınkinden daha fazla gelişmiştir.

SORU- 16

Hayvanlarda görülen aşağıdaki davranışlardan hangileri mevsime bağlıdır?

- I- Göç etme
II- Yavrularına ilgi gösterme
III- Kış uykusuna yatma

- A) I-II B) I-III C) II-III D) I-II-III

SORU- 17

Aşağıdakilerden hangisi soğan zarı hücresinde bulunup, epitel hücresinde bulunmaz?

- A) Sentrozom B) Koful
C) Hücre duvarı D) Sitoplazma

SORU- 18

Fasulye tohumu çimlenirken, aşağıdakilerin hangisine ihtiyaç duymaz?

- A) Uygun sıcaklığa B) Karbondioksit
C) Oksijene D) Suya

SORU- 19

Aşağıdakilerden hangisi besinini kökünde biriktirir?

- A) Patates B) Havuç C) Lâhana D) Buğday

SORU- 1

Aşağıdakilerden hangisi çağdaş Türk ailesinin özelliklerinden değildir?

- A) Kadın-erkek eşitliğine dayanması
B) Kadının iş hayatına atılması
C) Aileyi sadece babanın temsil etmesi

SORU- 20

Bitkilerde, aşağıdakilerin hangisinde belirtilenlerin tamamı fotosentez için dışarıdan alınır?

- A) Oksijen - Su B) Su - Karbondioksit
C) Işık - Oksijen D) Besin - Işık

FEN BİLGİSİ TESTİ BİTTİ.
SOSYAL BİLGİLER DİN KÜLTÜRÜ ve AHLÂK
BİLGİSİ TESTİNE GEÇİNİZ.

D) Sorunların demokratik yollarla çözülmesi

SORU- 2

- I- Derslerimize düzenli olarak çalışmak.
II- Tutumlu olarak aile bütçesine katkıda bulunmak.
III- Öğretmenlerimize karşı nazik olmak.

SOSYAL BİLGİLER DİN KÜLTÜRÜ ve AHLÂK BİLGİSİ TESTİ

IV- Dershanemizi temiz tutmak.

V- Annemize yardımcı olmak.

VI- Komşu çocuklarla iyi geçinmek.

Yukarıdakilerden, okulla ilgili olanlar hangisinde birlikte verilmiştir?


- A) I-II-IV B) I-III-IV C) II-III-V D) III-V-VI

SORU- 3

Aşağıdakilerden hangisi, toplum hayatını düzenleyen yazılı kurallara örnek olur?

- A) Başkaları ile alay etmemek
B) Trafik kurallarına uymak
C) Otobüste büyüklerle yer vermek
D) Güçsüzlere yardımcı olmak

SORU- 4



Bir pusulada (N) doğrultusu hangi yönü gösterir?

- A) Batı B) Doğu C) Kuzey D) Güney

SORU- 5

Haritaları plânlardan ayıran en önemli özellik hangisidir?

- A) Daha geniş alanları göstermesi
B) Kuşbakışı görünümünün çizilmesi
C) Belli bir ölçeğe göre çizilmesi
D) Bir düzlem üzerine çizilmiş olması

SORU- 6

Aşağıda ölçekleri verilen haritalardan hangisinde ayrıntı daha çok azalmıştır?

- A) 1/30.000 B) 1/200.000
C) 1/300.000 D) 1/600.000

SORU- 7

1:1000000 ölçekli bir haritada 10 cm gelen iki şehir arasındaki uzaklık gerçekte kaç km dir?

- A) 10 B) 100 C) 500 D) 1000

SORU- 8

Ege ve Akdeniz bölgelerinin kıyı kesimlerinde ürün çeşidinin artmasında, aşağıdakilerden hangisi en az etkili olmuştur?

- A) İklim şartlarının elverişli olması
B) Verimli tarım alanlarının olması
C) Sulamanın yaygınlaştırılması
D) İyi cins tohum kullanılması

SORU- 9

Aşağıdakilerden hangisi, kıyı ovalarımızdan biri değildir?

- A) Çukurova B) Bafra
C) Yüksekova D) Çarşamba

SORU- 10

I- Yağışlar daha çok kış mevsiminde görülür.

II- Yaz mevsimi sıcak ve kuraktır.

III- Kar yağışı ve don olayları nadiren görülür.

Bu iklim özellikleri aşağıdaki illerimizden hangisinde görülmektedir?

- A) Ankara B) Antalya C) Afyon D) Amasya

SORU- 11

Akdeniz ikliminin görüldüğü yerlerdeki doğal bitki örtüsü aşağıdakilerden hangisidir?

- A) Çayırlar B) Bozkır
C) Maki D) Orman

SORU- 12

Aşağıdakilerden hangisi, tarihin konuları arasında yer almaz?

- A) Kültür ve uygarlıklar
B) İnsan topluluklarının geçmişteki ilişkileri
C) Olayların geçtiği yer ve zaman
D) Tabiat olayları

SORU- 13

Aşağıdakilerden hangisi, Hicri takvimin başlangıcı kabul edilmiştir?

- A) Hz.Muhammed'in Mekke'den Medine'ye göçü
B) Kavimler Göçü
C) Hz.İsâ'nın doğumu

SOSYAL BİLGİLER DİN KÜLTÜRÜ ve AHLÂK BİLGİSİ TESTİ

D) Hz.Muhammed'in doğumu

SORU- 14

Aşağıdakilerden hangisi Tarih Öncesi Devirlerin sonuncusudur?

- A) Cilalı Taş Devri B) Bakır Devri
C) Tunç Devri D) Demir Devri

SORU- 15

Aşağıdakilerden hangisi, Türklerin Orta Asya'dan göç etmelerinin sebeplerinden biri değildir?

- A) Medeniyetlerini tanıtmak
B) Hızlı nüfus artışı
C) Kuraklık
D) Tarımda verimin düşmesi

DİN KÜLTÜRÜ ve AHLÂK BİLGİSİ DERSİ OKUYANLAR AŞAĞIDAKİ SORULARI CEVAPLAYACAKLAR. OKUMAYANLAR BUNUN YERİNE, AYNI NUMARALI SOSYAL BİLGİLER SORULARINI CEVAPLAYACAKLAR.

SORU- 16

Hangi olaydan sonra Kâbe putlardan temizlenmiştir?

- A) Bedir Savaşı B) Uhut Savaşı
C) Hende Savaşı D) Mekke'nin Fethi

SORU- 17

Aşağıdakilerden hangisi İslâm'ın birinci şartıdır?

- A) Kelime-i şahadet getirmek
B) Namaz kılmak
C) Oruç tutmak
D) Zekât vermek

SORU- 18

Her gün düzenli olarak beş vakit Allah'ı anmamız aşağıdakilerden hangisiyle gerçekleşir?

- A) Sabır B) Şükür C) Namaz D) Fitre

SORU- 19

Hangi ibadet zorunlu olarak ramazan ayında yerine getirilir?

- A) Hac B) Zekât C) Oruç D) Kurban

SORU- 20

Namaz kılarken yöneldiğimiz Kâbe nerededir?

- A) Medine'de B) Mekke'de

C) Taif'te

D) Tebuk'te

DİN KÜLTÜRÜ ve AHLÂK BİLGİSİ DERSİ OKUYANLAR, AŞAĞIDAKİ SOSYAL BİLGİLER SORULARINA CEVAP VERECEKLER. OKUYANLAR CEVAP VERMEYECEK.

SORU- 16

Ailede mutluluk daha çok aşağıdakilerin hangisinden kaynaklanmaktadır?

- A) Akraba evliliğinden
B) Gelir düzeyinden
C) Yaşanılan çevreden
D) Karşılıklı sevgi ve saygıdan

SORU- 17

Yurdumuzun Hereke, Uşak, Kula, Bünyan gibi yerleşim birimlerinde aşağıdaki el sanatlarından hangisi ortak olarak gelişme göstermiş ve halkın önemli bir geçim kaynağı olmuştur?

- A) Halıcılık B) Çinicilik
C) Demircilik D) Kuyumculuk

SORU- 18

Ülkemiz aşağıdaki madenlerden hangisi bakımından dünyanın en zengin ülkelerinden biridir?

- A) Bakır B) Demir C) Krom D) Petrol

SORU- 19

İlk Çağ'da, Batı Anadolu'nun Menderes ve Gediz ırmakları arasına yerleşerek devlet kuran ve başkentleri Sard şehri olan kavim hangisidir?

- A) Frigyalılar B) İyonyalılar
C) Lidyalılar D) Urartular

SORU- 20

Aşağıdaki olaylardan hangisi, Tarih Öncesi Devir'de gerçekleşmiştir?

- A) Hz.İsa'nın doğumu
B) Toprağın işlenerek üretime geçilmesi
C) Kavimler Göçü
D) Roma İmparatorluğu'nun ikiye ayrılması

SOSYAL BİLGİLER DİN KÜLTÜRÜ ve AHLÂK BİLGİSİ TESTİ

SOSYAL BİLGİLER DİN KÜLTÜRÜ ve AHLÂK
BİLGİSİ TESTİ BİTTİ.
CEVAPLARINIZI KONTROL EDİNİZ.

