

## TÜRKÇE TESTİ

Çocuklar, beni de alın içinize  
Ben de güzel oyunlar oynamayı bilirim.  
Çocuklar, imreniyorum şimdi size  
Yıllar oluyor ki kırıldı çemberim.

1. Dörtlüğün ana duygusu nedir?  
A) Çocuk sevgisi B) Çocukluk özlemi  
C) Oyun oynama isteği D) Arkadaşlık özlemi
2. Aşağıdaki cümlelerin hangisinde “beğenme” söz konusudur?  
A) Sporcu dediğin güçlü kuvvetli olur.  
B) Aslında vadi dediğin yemyeşil olur.  
C) İşte, çalışma dediğin böyle olur.  
D) Elma dediğin tatlı ve sulu olur.
3. “Bu kalemi istemem, şunu verir misiniz?” cümlesindeki altı çizili kelimelerin çeşidi, hangi seçenekte sırasıyla doğru olarak verilmiştir?  
A) Zamir - sıfat B) Sıfat - sıfat  
C) Sıfat - zamir D) Zamir - zamir
4. 1- en önemli zenginlik kaynağı  
2- o milletin varlığını ve istikbalini  
3- bir milletin  
4- hiç şüphe yok ki  
5- devam ettirecek ve yüceltecek olan gençliğidir  
Yukarıdaki söz dizileriyle anlamlı ve kurallı bir cümle oluşturulduğunda sıralama nasıl olur?  
A) 3-1-4-2-5 B) 2-5-3-4-1  
C) 4-2-5-3-1 D) 1-4-3-2-5
5. Aşağıdakilerin hangisinde, diğerlerinden farklı bir noktalama işareti kullanılmalıdır?  
A) Kalemimi gördün mü  
B) Okula geç mi kaldın  
C) Çiçeklerimi suladım  
D) Ben de mi geleceğim
6. Aşağıdaki cümlelerin hangisinde sebep-sonuç ilişkisi vardır?  
A) Gerçeği söylediğim için kızdılar.  
B) Benim işim buraya kadar.  
C) Bu kalemi de size aldım.  
D) Bugün için geleceğinizi söylemişti.

Günlerden hangisi güzel  
Bugün gibi.  
Bak, şapkamı giyiyorum,  
Mendilimi yerleştiriyorum  
Küçükük cebine ceketimin,  
Sokağa çıkacağım.

7. Şiirdeki kişi için aşağıdakilerden hangisi söylenemez?  
A) Sevinçli olduğu  
B) Yaşamayı sevdiği  
C) Hâlimden memnun olduğu  
D) Sevilen bir insan olduğu
  8. “Uzun Mehmet, bulduğu taşların değirmenin ocağında yandığını görünce ..... ” sözlerini anlamca tamamlamak için, aşağıdakilerden hangisinin getirilmesi uygun değildir?  
A) çok sevindi.  
B) ilk kömürü buldu.  
C) heyecanla dışarı fırladı.  
D) onların kömür olduğunu anladı.
  9. Aşağıdaki mısralardan hangisi kurallı cümle hâlinindedir?  
A) Cümle dertler tükenir bir gün.  
B) Türkiye’ m gök maviliğince rahat.  
C) Rüzgâr gibi savrulur harmanlar.  
D) Çalmak üzere özlenen saat.
  10. Aşağıdaki kelimeler sözlükteki gibi sıralandığında, hangisi önce gelir?  
A) şeref B) şerif C) şerbet D) şevket
- Sen yaşarsan bu vatan  
Ancak yaşar, yükselir.  
Bunu bil, böyle inan,  
Varlık sağlıktan gelir.
11. Şairin bizden isteği nedir?  
A) Vatanımızı sevmek.  
B) Sağlıklı olmak.  
C) Hür yaşamak.  
D) Çalışıp yükselmek.
  12. Aşağıdaki tamlamaların hangisindeki sıfatın anlamı pekiştirilmemiştir?  
A) Tertemiz elbise B) Sarımtırak kumaş  
C) Masmavi deniz D) İpince yol

## TÜRKÇE TESTİ

13. Hangi cümlede, “görülen ve yaşanan bir olay” anlatılmaktadır?

- A) Bayramda sen de mi şiir okudun?
- B) Kardeşim okula mı geldi?
- C) Haber verilirse belki gelir.
- D) O geziye ben de katıldım.

14. Aşağıdaki cümlelerin hangisinde sıfat tamlaması vardır?

- A) Öğrenci, masanın örtüsünü iyice temizledi.
- B) Kitap ve defterlerini çantanın içine koydu.
- C) Sokaktaki çocukları oyuna çağırırdı.
- D) Ustalar, bahçenin etrafını duvarla çevirdi.

Nasrettin Hoca, topluma ışık tutan ve halka düşünmeyi öğreten bir bilgedir. Düşünme ürkekliğini körükleyenlerden değildir. İnsan ve halk dostu; mücadeleci, korkusuz bir kişidir.

15. Paragraftan, Nasrettin Hoca ile ilgili aşağıdakilerin hangisi çıkarılamaz?

- A) Her mücadelesinde başarılı olduğu
- B) Aklını kullanmayı bildiği
- C) İnsanları sevdiği
- D) Yol gösterici olduğu

16. Aşağıdaki cümlelerin hangisinde yazım yanlışı vardır?

- A) 1923, Türkiye Cumhuriyeti'nin kuruluş yılıdır.
- B) Bu ırmak, köyümüzün doğusundan geçer.
- C) Seni, Çanakkaleli arkadaşım ile tanıştırayım.
- D) Ali'nin kızı, fatih lisesinde okuyor.

17. Aşağıdaki deyimlerle anlam ilişkisi bakımından üçlü bir grup oluşturulduğunda hangisi dışta kalır?

- A) Yüreği hop etmek. B) Yüreği oynamak.
- C) Yüreğine işlemek. D) Yüreği kalkmak.

18. “Yola çıkmadan önce, ne olur ne olmaz diye yanıma biraz yiyecek ve giyecek alırım. Her zaman böyleyimdir. Başıma gelebilecek şeyler için önceden hazırlıklı olurum.” diyen bir kişi için, aşağıdakilerden hangisi söylenir?

- A) Tedbirli B) Kaygılı
- C) Becerikli D) Deneyimli

19. Aşağıdaki kelimelerden hangisine, ünlü ile başlayan bir ek getirildiğinde sert ünsüz yumuşaması olmaz?

- A) Gömlek B) Sanat C) Kulaç D) Kasap

20. Aşağıdaki atasözlerinden hangisi, “Gerçek dost, arkadaşının zor günlerinde yardımına koşmaya hazır olmalıdır.” anlamına gelir?

- A) Dostluk başka, alış veriş başka.
- B) Dost acı söyler.
- C) Dost dostun ayıbını yüzüne söyler.
- D) Dost kara günde belli olur.

21. “Pazarı çok gezdiler; sanırım tam istediklerini bulamadılar.” cümlesindeki “sanırım” kelimesi yerine, aşağıdakilerden hangisi getirildiğinde cümlenin anlamı değişmez?

- A) fakat B) nedense
- C) galiba D) yalnız

Kitaba, kendi çerçevesi içinde her şeyi sorabiliyoruz. Hem de en uygunsuz zamanda ve istediğimiz kadar. Kızıp surat asmasına, bizimle eğlenmesine imkân yok. O, bu noktada bilgili ve iyi huylu bir dosta benzer.

22. Paragraftan aşağıdakilerin hangisi çıkarılamaz?

- A) Bir kitap, her sorumuzun cevabını verir.
- B) Her kitabın bilgi alanı değişiktir.
- C) Kitaplara her zaman başvurulabilir.
- D) Kitaplar bilgisizliğimizle alay etmez.

23. Hangi cümledeki ikileme, eylemin gerçekleşme biçimini anlatmaktadır?

- A) Salkım salkım üzüm asmaları süslüyor.
- B) Yaşlı adam, merdivenlerden ağır ağır çıkıyor.
- C) Koca koca adamlar çocuklar gibi ağlıyorlar.
- D) Bahçemize çeşit çeşit fidanlar diktik.

24. Aşağıdaki fiillerden hangisinin şahsı diğerlerinden farklıdır?

- A) Göreceksiniz B) Bilmişiz
- C) Gelebiliriz D) Yazıyoruz

25. “Kekik kokan sabah rüzgârı efil efil eserken çalı kuşları kuzuların başına konuyor, toprak uykusundan silkiniyordu.” cümlesinde hangi duyu organımızla ilgili bir ayrıntıya yer verilmemiştir?

- A) Dokunma B) Görme
- C) Koklama D) Tatma

## TÜRKÇE TESTİ

26. Aşağıdaki cümlelerin hangisinde bir düşünce belirtilmektedir?

- A) Çocuklar bahçede oynuyorlar.
- B) Yarın bayram hazırlıkları başlıyor.
- C) Ayakkabılarını temizleyip boyadı.
- D) Kitap en iyi arkadaştır.

27. Hangi cümlede, birbiriyle zıt anlamlı kelimeler yer almamıştır?

- A) Tok, acın hâlimden anlamaz.
- B) Kuş, yuvasının etrafında dönüp duruyordu.
- C) Onunla acı tatlı pek çok hatıramız var.
- D) Sağ elinin verdiğini sol elin görmesin.

28. Hangi cümlede deyim vardır?

- A) Yeni küpelerini kulağına taktı.
- B) Yüzerken kulağına su kaçtı.
- C) Doktor kulağına merhem sürdü.
- D) Buradan ayrılacağı kulağına çalındı.

29. Hangi cümlede özne - yüklem uygunluğu yoktur?

- A) O, her gittiği yerde sevgiyle karşılandı.
- B) Ezbere dayanan eğitimden vazgeçilmelidir.
- C) Gerek halk, gerekse yöneticiler sıkıntı içindeydiler.
- D) İnsanlık, eğitimi kâğıt sayesinde geliştirdiler.

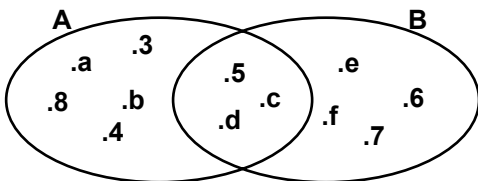
30. “Öyle öfkelenim ki .....” cümlesinden sonra, aşağıdakilerden hangisi getirilemez?

- A) ne söylediğimi biliyorum.
- B) gözüme uyku girmedi.
- C) hemen gitmesini söyledim.
- D) ne yapacağımı şaşırdım.

**TÜRKÇE TESTİ BİTTİ.  
MATEMATİK TESTİNE GEÇİNİZ.**

## MATEMATİK TESTİ

1.



Verilen şemaya göre B kümesinde olup, A kümesinde olmayan kaç tane eleman vardır?

- A) 3 B) 4 C) 5 D) 6

2. A ve B boş olmayan ayrık iki küme ise aşağıdakilerden hangisi yanlıştır?

- A)  $A \cup (A \cap B) = A \cup B$  B)  $A \cup (A \cap B) = A$   
C)  $(A \cap B) \subset \{ \}$  D)  $A \cap (A \cup B) \subset A$

3.  $A \cap B = \{3, 4\}$  ve  $A \cup B = \{1, 2, 3, 4, 5, 6\}$  ise A kümesi aşağıdakilerden hangisi olamaz?

- A)  $\{1, 2, 3, 4, 5, 6\}$  B)  $\{3, 4, 5, 6\}$   
C)  $\{3, 4\}$  D)  $\{1, 2, 5, 6\}$

4. a sayma sayısı ve  $ax4=b$ ,  $3xa=c$  olduğuna göre aşağıdaki sıralamalardan hangisi doğrudur?

- A)  $a < c < b$  B)  $a < b < c$  C)  $c < b < a$  D)  $b < c < a$

5. Bir a doğal sayısının 5 e bölümünden kalan 2 ise  $a+9$  sayısının 5 e bölümünden kalan kaç olur?

- A) 0 B) 1 C) 2 D) 4

6. 
$$\begin{array}{r} 6n \overline{) ab} \\ \underline{2} \end{array}$$
 Verilen bölme işleminde ab ve 6n iki basamaklı doğal sayılar olmak üzere, n nin alabileceği değerler toplamı kaçtır?

- A) 2 B) 8 C) 10 D) 12

7. Bir miktar para 9 kişiye eşit olarak paylaştırılıyor. Eğer, aynı para 7 kişiye paylaştırılırdı her biri 15000 lira daha fazla alacaktı. Paylaştırılan para kaç liradır?

- A) 625000 B) 586500 C) 485000 D) 472500

8. Aralarında üçer fark olan ardışık 5 doğal sayının toplamı 270 tir. Bu sayıların en küçüğü kaçtır?

- A) 44 B) 46 C) 48 D) 50

9.  $\frac{a}{b} = 2$  koşuluna uyan en büyük iki basamaklı ba doğal sayısı kaçtır?

- A) 36 B) 48 C) 63 D) 84

10.  $2\frac{3}{5} : \frac{12}{5} = a + \frac{1}{4}$  eşitliğinde a yerine aşağıdaki sayılardan hangisi gelmelidir?

- A)  $\frac{9}{4}$  B)  $\frac{5}{6}$  C)  $\frac{3}{4}$  D)  $\frac{1}{6}$

11. Aşağıdaki kesirlerden hangisi sayı doğrusunda 2 ye en yakındır?

- A)  $\frac{5}{2}$  B)  $\frac{11}{5}$  C)  $\frac{20}{9}$  D)  $\frac{15}{7}$

12. a yerine aşağıdakilerden hangisi yazılırsa,  $\frac{3}{5} < \frac{7}{a} < \frac{4}{5}$  sıralaması yanlış olur?

- A) 9 B) 10 C) 11 D) 12

13. 
$$\begin{array}{r} ABAB \\ + BA \\ \hline 5CD1 \end{array}$$
 Verilen toplama işlemine göre  $A+B+C+D$  kaçtır?

- A) 22 B) 20 C) 18 D) 13

14. %20 kârla 96000 liraya satılan bir kazak, %10 zararla kaç liraya satılırdı?

- A) 48000 B) 60000 C) 72000 D) 75000

15. Her gün, bir önceki gün harcadığı paranın  $\frac{2}{5}$  i kadar daha az para harcayan bir kişi, ilk gün 120000 lira harcadığına göre üçüncü gün kaç lira harcar?

- A) 14400 B) 32500 C) 43200 D) 74000

16. Hakan, Gonca'dan 5 yaş büyüktür. Gonca, Oğuz'dan 10 yaş küçüktür. Oğuz ise Derya'dan 3 yaş küçüktür. Buna göre aşağıdakilerden hangisi yanlıştır?

- A) Gonca, Derya'dan 7 yaş küçüktür.  
B) Hakan, Derya'dan 8 yaş küçüktür.  
C) Hakan, Oğuz'dan 5 yaş küçüktür.  
D) Derya, Gonca'dan 13 yaş büyüktür

## MATEMATİK TESTİ

17.  $\frac{a}{-b}$  Verilen çıkarma işleminde a dan 128,45 çıkarılır, b ye de 15,45 ilâve edilirse fark kaç olur?  
A) 58,35 B) 70,15 C) 89,25 D) 198,55
18. a ve b sayılarının aritmetik ortalaması 120 dir. a sayısı, b sayısının 3 katı olduğuna göre a sayısı kaçtır?  
A) 180 B) 120 C) 80 D) 60
19. a ve b sıfırdan farklı bir basamaklı doğal sayılardır. Buna göre  $\frac{0,a}{a} + \frac{0,b}{b}$  işleminin sonucu aşağıdakilerden hangisine eşittir?  
A)  $\frac{1}{10}$  B)  $\frac{1}{5}$  C) 10 D) 20
20. a sayısının %40 ı ile b sayısının %20 si eşit ise aşağıdakilerden hangisi doğrudur?  
A) a=100 ise b=50 dir. B) a=72 ise b=48 dir.  
C) a=20 ise b=200 dür. D) a=18 ise b=36 dir.
21. 6 Şubat 1981 de doğan bir çocuğun, 3 Mayıs 1993 teki yaşı aşağıdakilerden hangisidir? (1 ay=30 gün.)  
A) 12 yıl 2 ay 27 gün B) 12 yıl 2 ay 20 gün  
C) 12 yıl 3 ay 19 gün D) 12 yıl 3 ay 27 gün
22. Dakikada 140 m yol alan bir bisikletli, 2 sa 30 sn de kaç km yol alır?  
A) 12,6 B) 16,8 C) 16,87 D) 18,76
23. Aşağıdaki geometrik şekillerden hangisinde en az sayıda simetri eksenidir?  
A) Eşkenar dörtgen B) Eşkenar üçgen  
C) Daire D) Düzgün altıgen
24. Taban yarıçapı 5 cm olan silindirin yüksekliği, taban çapının 3 katıdır. Bu silindirin hacminin  $\frac{2}{5}$  i kaç  $cm^3$  tür? ( $\pi=3$  alınınız.)  
A) 450 B) 900 C) 1350 D) 1800

25.

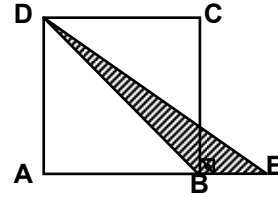


A 3 4 2 1 B

Şekilde, numaralandırılmış üçgenlerin her biri eşkenar üçgendir. 4. üçgenin çevresi 3. nün, 3. üçgenin çevresi 2. nin, 2. üçgenin çevresi de 1. üçgenin çevre uzunluğunun iki katıdır. 4. üçgenin çevresi 96 cm ise AB doğru parçasının uzunluğu kaç cm dir?

- A) 32 B) 48 C) 50 D) 60

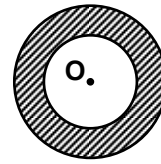
26.



Şekilde, AE doğru parçasının uzunluğu, BE doğru parçasının uzunluğunun 4 katıdır. ABCD karesinin alanı  $36 cm^2$  ise taralı bölgenin alanı kaç  $cm^2$  dir?

- A) 4 B) 6 C) 8 D) 12

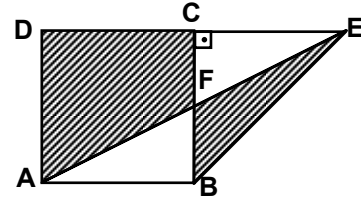
27.



Şekilde, merkezleri O olan içteki çemberin uzunluğu 6,28 cm, dıştaki çemberin uzunluğu 12,56 cm ise taralı bölgenin alanı kaç  $cm^2$  dir? ( $\pi=3,14$  alınınız.)

- A) 15,7 B) 9,42 C) 6,28 D) 3,14

28.



Şekilde ABCD bir kare ve AB ile CE doğru parçalarının uzunlukları 6 şar cm dir. F noktası, BC doğru parçasının orta noktası olduğuna göre, taralı bölgelerin alanları toplamı kaç  $cm^2$  dir?

- A) 27 B) 30 C) 36 D) 48

## MATEMATİK TESTİ

29.



- A) 6,88      B) 12,66      C) 15,4      D) 17,2

30. Taban ayrıtlarının uzunlukları 15 cm ve 24 cm olan dikdörtgenler prizmasının hacmi ile bir ayrıtlarının uzunluğu 6 cm olan küpün hacmi eşittir. Buna göre dikdörtgenler prizmasının yüksekliği kaç cm dir?

- A) 0,6      B) 0,8      C) 6      D) 8

MATEMATİK TESTİ BİTTİ.  
FEN BİLGİSİ TESTİNE GEÇİNİZ.

FEN BİLGİSİ TESTİ

1. Dünya'nın eksenî yörünge düzlemine dik olsaydı, aşağıdaki durumlardan hangileri meydana gelebilirdi?

I- Dünya'nın kuzey ve güney yarım küreleri aynı anda, eşit miktarda güneş enerjisi alırdı.

II- Kuzey yarım kürede devamlı gündüz, güney yarım kürede devamlı gece olurdu.

- A) Yalnız I                      B) Yalnız II  
C) Her ikisi                      D) Hiçbiri

2. Petrol ürünlerinin usûlüne uygun olarak kullanılmaması sonucu, aşağıdakilerden hangileri olumsuz etkilenebilir?

I- Atmosfer  
II- Su kaynakları  
III- Ormanlar

- A) Yalnız I    B) I - II    C) II - III    D) I - II- III

3. Aşağıdaki durumların hangisinde, hareket hâlindeki bir otomobilin kinetik enerjisi artar?

- A) Sürücüsü frene bastığında  
B) Aynı hızla gittiğinde  
C) Hızı artırıldığında  
D) Sadece hareket yönü değiştirildiğinde

4. Işınların madde tarafından tutulması olayına ne denir?

- A) Genleşme                      B) Soğurulma  
C) Erime                              D) Yoğunlaşma

5. Aşağıdaki bilgiler için ne söylenebilir?

I- Elektriklenmiş iki cismin birbirine etkisi, aralarındaki uzaklığa bağlıdır.  
II- Elektriklenmiş iki cismin birbirine etkisi sahip oldukları yük miktarına bağlıdır.

- A) Yalnız I doğru                      B) Yalnız II doğru  
C) Her ikisi de doğru                      D) Her ikisi de yanlış

6. İçinde 2h yüksekliğinde su bulunan silindirik şeklindeki kaba, bir taş parçası bırakıldığında kaptaki su taşmadan  $\frac{h}{4}$  kadar yükseliyor.

Buna göre kaptaki suyun hacmi, taşın hacminin kaç katıdır?

- A) 9                      B) 8                      C) 4                      D) 2

7.



Şekil I ve II deki durumlara bakılarak hangi sonuca ulaşılabilir? (Suyun yoğunluğu havanın yoğunluğundan fazladır.)

- A) Işık ışını, farklı ortama geçerken doğrultu değiştirir.  
B) Işık ışını, daha yoğun ortama geçerken normale yaklaşır.  
C) Işık ışını, daha az yoğun ortama geçerken normalden uzaklaşır.  
D) Kırılma açısı, gelme açısından daima büyüktür.

8. Aşağıdaki bilgiler için ne söylenebilir?

I- Kalın kenarlı mercekte, asal eksene paralel gelen ışınlar kırılarak birbirlerine yaklaşır.  
II- Kalın kenarlı merceklerde görüntü her durumda zahiri ve düzdür.

- A) Yalnız I doğru                      B) Yalnız II doğru  
C) Her ikisi de doğru                      D) Her ikisi de yanlış

9. Aşağıdaki katı maddelerden hangisi kendi sıvısında yüzer?

- A) Buz                      B) Bakır                      C) Kurşun                      D) Demir

10. Sıcaklığı 20 °C olan bir su bardağının % 25 i 25 °C deki alkol, kalanı ise 40 °C deki su ile dolduruluyor. Su doldurulduktan sonraki ısı alış verişî aşağıdakilerin hangisinde belirtildiği gibi olur?

- |    | <u>Bardak</u> | <u>Alkol</u> | <u>Su</u> |
|----|---------------|--------------|-----------|
| A) | Alır          | Verir        | Verir     |
| B) | Verir         | Verir        | Alır      |
| C) | Verir         | Alır         | Alır      |
| D) | Alır          | Alır         | Verir     |

11. Hangisi daima aynı cins atomlardan meydana gelir?

- A) Bileşik                                      B) Element  
C) Molekül                                      D) Homojen karışım

## FEN BİLGİSİ TESTİ

12. Yüzdürme yöntemiyle ayrılabilir karışımdaki maddelerin, hangi özellikleri mutlaka farklı olmalıdır?
- A) Kütleleri                      B) Yoğunlukları  
C) Sıcaklıkları                  D) Hacimleri
13. Yüksüz ve farklı cins iki atom birer elektron kaybettiğinde, aşağıdaki özelliklerinden hangileri aynı olur?
- I- Yük cinsleri  
II- Proton sayıları  
III- Elektron sayıları
- A) Yalnız I                      B) Yalnız III  
C) I - III                      D) II - III
14. Hangisinde belirtilen damarlar temiz kan taşır?
- A) Alt ana toplardamarı - Aort atardamarı  
B) Üst ana toplardamarı - Akciğer atardamarı  
C) Aort atardamarı - Akciğer toplardamarı  
D) Akciğer toplardamarı - Akciğer atardamarı
15. Aşağıdakilerden hangisi kırmızı (çizgili) kaslarımızın özelliğidir?
- A) Tamamen istek dışı çalışma  
B) Kemik gelişimini sağlama  
C) Sindirim sisteminin yapısında bulunma  
D) Bazı organların hareketinde etkili olma

16. Kuşlar birbirleriyle karşılaştırıldığında aşağıdakilerden hangisi farklılık gösterir?
- A) Üreme şekli                      B) Solunum şekli  
C) Gaga yapısı                      D) Kalp yapısı
17. Aşağıdakilerden hangisi otla beslenir?
- A) Akbaba   B) Sırtlan   C) Aslan   D) Keçi
18. Aşağıdakilerden hangisi çiçekli bitkidir?
- A) Mısır                      B) Eğrelti otu  
C) Su yosunu                      D) Kara yosunu
19. Aşağıdakilerden hangisi bütün yeşil bitkilerde aynıdır?
- A) Üreme biçimi                      B) Besin yapımı  
C) Gövde yapısı                      D) Yaşama süresi
20. Fotosentez ile karbondioksit arasındaki benzer ilişki aşağıdakilerin hangisinde verilenler arasında vardır?
- A) Çimlenme - Su  
B) Boşaltım - Akciğer  
C) Solunum - Karbondioksit  
D) Tozlaşma - Çanak yaprak

FEN BİLGİSİ TESTİ BİTTİ.  
SOSYAL BİLGİLER - DİN KÜLTÜRÜ ve  
AHLÂK BİLGİSİ TESTİNE GEÇİNİZ.



1. Lidyalılar (Lidler)'in ticaretle ilgili ilerideki gelişmelerinde, aşağıdakilerden hangisi daha etkili olmuştur?

- A) Kral Yolu'nu yapmaları
- B) Madenleri işlemeleri
- C) Dokumacılığı geliştirmeleri
- D) Verimli tarım alanlarına sahip olmaları

2. Aşağıdakilerden hangisi, Talas Savaşı'nın İslâm dünyasındaki sonuçlarından biridir?

- A) İslâm Devleti'nde Emeviler döneminin sona ermesi
- B) İslâmiyetin Türkler arasında hızla yayılmaya başlaması
- C) Suriye, İran ve Filistin'in Müslüman Arapların eline geçmesi
- D) İspanya'da, bir İslâm devleti'nin kurulması

3. Aşağıdakilerden hangisi, Köseadağ Savaşı'nın Anadolu'da sebep olduğu olaylardan biri değildir?

- A) Anadolu'nun siyasî birliğinin bozulması
- B) Anadolu Selçuklularının Moğol hâkimiyetine girmesi
- C) Anadolu beyliklerinin bağımsızlıklarını ilân etmesi
- D) Anadolu'ya Haçlıların girmesi

4. I- Osmanlıların, Kuruluş Dönemi'nde Haçlı ordusuyla yaptığı son savaştır.  
II- Osmanlılar, Balkanlardaki hâkimiyetlerini kesinleştirdiler.  
III- Bu zaferden sonra Avrupalılar savunma durumunda kaldılar.

Yukarıda verilen bilgiler hangi savaşa aittir?

- A) Niğbolu
- B) I. Kosova
- C) II. Kosova
- D) Varna

5. I- Çanakkale Savaşı  
II- Trablusgarp Savaşı  
III- Hareket Ordusu Kurmay Başkanlığı  
IV- Sivas Kongresi'nde Heyet-i Temsiliye Başkanlığı

Yukarıda, Mustafa Kemal'in katıldığı savaş ve görevlerin bazıları verilmiştir. Bunların oluş tarihlerine göre, doğru sıralanışı hangisinde verilmiştir?

- A) II - III - IV - I
- B) II - I - III - IV
- C) III - II - I - IV
- D) III - II - IV - I

6. Osmanlıların Yavuz Sultan Selim döneminde savaş yapmadığı devletler, hangi seçenekte birlikte verilmiştir?

- A) Avusturya - Rusya
- B) Rusya - Memlûk
- C) Memlûk - Safevi
- D) Safevi - Avusturya

7. Aşağıdakilerden hangisi, Kırım Savaşı'nın (1853-1856) sebeplerinden biri değildir?

- A) Rusya'nın kaybettiği toprakları Osmanlılardan geri almak istemesi
- B) Rusya'nın Osmanlı Devleti'ni parçalamak istemesi
- C) Rusya'nın İstanbul ve Çanakkale boğazlarını denetim altında tutmak istemesi
- D) Rusya'nın Osmanlı yönetimindeki Ortodoksların koruyucusu olduğunu ileri sürmesi

8. Aşağıdaki inkılâplardan hangisi diğerlerinden sonra yapılmıştır?

- A) Anayasa (Teşkilât-ı Esasiye)'nin kabulü
- B) Türk Medenî Kanunu'nun kabulü
- C) Soyadı Kanunu'nun kabulü
- D) Yeni Türk Harflerinin kabulü

9. Aşağıdakilerden hangisi, Avrupalıların matbaayı geliştirip yaygınlaştırmalarının sonuçlarından biri değildir?

- A) Okur-yazar oranının artması
- B) Derebeyliklerin güçlenmesi
- C) Bilim ve kültürün gelişmesi
- D) Rönesans hareketlerinin başlaması

10. I- Misak-ı Millî kararlarının alınması  
II- Düzenli ordunun kurulması  
III- Sevr Antlaşması'nın yapılması  
IV- Mudanya Ateşkes Antlaşması'nın imzalanması

Yukarıdaki olaylardan, TBMM'nin gerçekleştirdikleri hangi seçenekte birlikte verilmiştir?

- A) I - II
- B) I - III
- C) II - IV
- D) II - III

11. Akarsular tarafından derin bir biçimde yarılmış yüksek düzlüklere ne ad verilir?

- A) Ova
- B) Plâto
- C) Delta
- D) Vadi

12. İlkbahar mevsiminin yağışlı, yazların kurak geçtiği bölgelerimizde aşağıdaki tarım ürünlerinden hangisi daha çok üretilmektedir?

- A) Buğday
- B) Mısır
- C) Tütün
- D) Ayçiçeği

## SOSYAL BİLGİLER - DİN KÜLTÜRÜ ve AHLÂK BİLGİSİ TESTİ

13. Aşağıdaki bölgelerimizden hangisinde volkanik tek dağlar daha çoktur?

- A) Ege  
B) Karadeniz  
C) Güneydoğu Anadolu  
D) Doğu Anadolu

14. Ülkemizdeki iklim özellikleri dikkate alındığında, aşağıdaki şehirlerimizden hangisinde, yıllık ortalama sıcaklık derecesi diğerlerinden yüksektir?

- A) Erzurum  
B) Antalya  
C) Kayseri  
D) Sinop

15. I- Gökçeada  
II- Sisam  
III- Midilli  
IV- Bozcaada  
V- Sakız

Ege Denizi'nde yer alan yukarıdaki adalardan hangileri Türkiye'ye aittir?

- A) I - II  
B) II - III  
C) I - IV  
D) II - V

**DİN KÜLTÜRÜ ve AHLÂK BİLGİSİ DERSİ OKUYANLAR AŞAĞIDAKİ SORULARI CEVAPLAYACAKLAR. OKUMAYANLAR BUNUN YERİNE, AYNI NUMARALI SOSYAL BİLGİLER SORULARINI CEVAPLAYACAKLAR.**

16. I- Tevrat - Hz.Davut (A.S.)  
II- Zebur - Hz.Musa (A.S.)  
III- İncil - Hz.İsa (A.S.)  
IV- Kur'an - Hz.Muhammed (A.S.)

Yukarıda dört büyük kitap ve gönderildikleri peygamberler eşleştirilmiştir. Doğru eşleştirme hangisidir?

- A) I-III  
B) II-III  
C) I-IV  
D) III-IV

17. Aşağıdaki davranışlardan hangisi Peygamberimiz'in öğütlerine uymaz?

- A) İlim öğrenmek  
B) İkiyüzlü davranmak  
C) Doğru sözlü olmak  
D) İyi olanı yapmak

18. Aşağıdakilerden hangisi, Allah (C.C.)'in rızasını kazandırır?

- A) İnsanlara karşı iyi davranmak  
B) Evlatlarıyla böbürlenmek  
C) Görevini kötüye kullanmak  
D) Mal çokluğuyla övünmek

19. Peygamberimiz'e Allah (C.C.)'tan gelen ilk emir hangi konuyla ilgilidir?

- A) Temizlik  
B) Çalışmak

- C) Doğruluk  
D) İlim

20. Allah'a karşı ilk yükümlülüğümüz hangisidir?

- A) Tövbe etmek  
B) İbadet etmek  
C) Şükretmek  
D) İnanmak

**DİN KÜLTÜRÜ ve AHLÂK BİLGİSİ DERSİ OKUYANLAR, AŞAĞIDAKİ SOSYAL BİLGİLER SORULARINA CEVAP VERECEKLER. OKUYANLAR CEVAP VERMEYECEK.**

16. I- Yaz mevsiminin sıcak ve uzun geçmesi  
II- Kışların ılıman geçmesi ve don olaylarının çok nadir olarak görülmesi

Bu özellikler, aşağıdaki tarım ürünlerinden hangisinin ülkemizde yetiştirilme alanlarını sınırlandırmıştır?

- A) Pirincin  
B) Üzümün  
C) Ayçiçeğinin  
D) Turunçgillerin

17. Aşağıdaki yerlerden hangisinde bakır madeni çıkarılmaktadır?

- A) Tavşanlı  
B) Maden  
C) Seydişehir  
D) Divriği

18. Doğu Anadolu Bölgesi'nde dağlık alanların fazla, iklimin elverişsiz olması, aşağıdakilerden hangisinin gelişmesini daha çok olumsuz yönde etkilemiştir?

- A) Tarımın  
B) Hayvancılığın  
C) Turizmin  
D) Madencilik

19. Aşağıdakilerden hangisi, çekirdek ailenin özelliklerindedir?

- A) Büyük babanın aile reisi olması  
B) Aile bireyleri arasında büyük baba ve büyük annenin olması  
C) Aile bireyleri arasında amcalar ve yengelerin olması  
D) Ailenin anne, baba ve evlenmemiş çocuklardan meydana gelmesi

20. Aşağıdakilerden hangisi, valilerimizin görevlerinden biri değildir?

- A) İlin kalkınması ve gelişmesini sağlamak  
B) Millî bayramlarda törenlere başkanlık etmek  
C) Vatandaşların şikâyetlerini dinlemek  
D) İldeki askerî birlikleri denetlemek

**TEST BİTTİ.  
CEVAPLARINIZI KONTROL EDİNİZ.**