

## TÜRKÇE TESTİ

1. Gökyüzü büyük bir sahne  
Perdesi mavi ipekten  
İpler salınır gökten  
Kuklacı ipi çektikçe  
Başlar kuş oyununu.
- Şiire göre, aşağıdakilerden hangisi doğrudur?
- A) Gökyüzü bir tiyatro sahnesine benzetilmiştir.  
B) Kuşların tüyleri mavi bir ipeğe benzetilmiştir.  
C) Yıldızların gökyüzünü süslediği anlatılmıştır.  
D) Kuşların iyi uçamadıkları anlatılmıştır.
2. "Birisi bana, "Kimsin sen çocuğum?" dedi." cümlesinde geçen aşağıdaki kelimelerden hangisinin çeşidi, diğerlerinden farklıdır?
- A) Birisi B) Kimsin  
C) Sen D) Çocuğum
3. "Herkes için iyilik düşünen" anlamındaki deyim aşağıdakilerden hangisidir?
- A) İyi kalpli. B) İyi gitmek.  
C) İyi etmek. D) İyi gün dostu.
4. Hangi seçenekteki kelimeler aralarındaki anlam ilişkisi yönünden diğerlerinden farklıdır?
- A) Uzun-kısa B) Tatlı-ekşi  
C) Dar-geniş D) Ağır-hafif
5. Elif, bütün bu güzel çiçek kokuları içinde, bu parlak ve yakıcı güneşin altında, bundan sonra öteki insanlar gibi yaşayabileceğini düşünüyordu.
- Paragrafta aşağıdaki duyulardan hangisi ile ilgili bir ayrıntı yoktur?
- A) Görme B) Dokunma  
C) Tatma D) Koklama
6. Aşağıdaki cümlelerin hangisinde yazım yanlışı vardır?
- A) Neşeli ol ki genç kalasın.  
B) Derslerine çalış ki başarılı olasın.  
C) Bende ki kitapları okumalısın.  
D) Yola erken çık ki akşama varabilesin.
7. Aşağıdaki cümlelerin hangisinde eylemin devam ettiği anlaşılmaktadır?
- A) Yarın arkadaşım bize geliyor.  
B) Üç gündür yağmur yağıyor.  
C) Kardeşim okuldan seneye mezun oluyor.  
D) Öğretmenimiz yeni ders yılında başka bir

- okula gidiyor.
8. Türküler söylerler gelince bahar  
Yaza, kışa hazırlık yaparlar.  
Ağaçların da var yürekleri,  
Ağaçlar da tıpkı bizler gibi...
- Dörtlüğe göre, ağaç hangi yönden insana benzetilmemiştir?
- A) Türkü söylemesi  
B) Hazırlık yapması  
C) Yüreğinin bulunması  
D) Her mevsimi sevmesi
9. Aşağıdaki kelimelerden hangisi yanlış yazılmıştır?
- A) Trafik B) Kibrit C) Kirpik D) Yanlış
10. "Okulumuzdaki çalışkan öğrenciler ödüllendirildi." cümlesindeki "çalışkan" kelimesinin çeşidi nedir?
- A) İsim B) Sıfat C) Zarf D) Fiil
11. "Durmak" kelimesi, hangi cümlede "dinmek, kesilmek" anlamında kullanılmıştır?
- A) Saat, sekizde durdu.  
B) Yer buluncaya kadar ayakta durdu.  
C) İki araba evin önünde durdu.  
D) Akşam başlayan kar sabaha karşı durdu.
12. Biraz ninni, biraz masal  
Ay uzar beşik olur, uyur kuşlar.  
Meleklerle merhamet yarışında  
Annesiz bebekleri doyurur kuşlar.
- Dörtlükten aşağıdakilerin hangisi çıkarılamaz?
- A) Kuşların merhametli olduğu  
B) Kuşların kendi karınlarını doyurduğu  
C) Ayın kuşlara beşiklik yaptığı  
D) Kuşların ninni ve masal dinlediği
13. Aşağıdaki birleşik isimlerden hangisi, yapılışı yönünden diğerlerinden farklıdır?
- A) Kırkpınar B) Taşova  
C) Eskişehir D) Çayeli
14. Aşağıdakilerden hangisi, atasözlerinin özelliklerinden biri değildir?
- A) Kısa ve özlüdürler.  
B) Öğüt verirler.  
C) Söyleyenleri bellidir.  
D) Kalıplaşmış sözlerdir.

## TÜRKÇE TESTİ

15. 

1- Gece yorgun akan ırmak, 2- Tatlı seslerle coşuyor. 3- Artık herkes uyanarak 4- Kendi işine koşuyor.
---

  
Hangi mısralardaki altı çizili kelimelerin çeşidi aynıdır?  
A) 1-2      B) 3-4      C) 2-3      D) 1-4
16. “oluşan-sağlıklı-gelişmeye-toplum-açıktır-kişilerden” kelimeleriyle kurallı ve anlamlı bir cümle kurulduğunda baştan üçüncü kelime aşağıdakilerden hangisi olur?  
A) Sağlıklı      B) Oluşan  
C) Gelişmeye      D) Toplum
17. Hangi mısradaki tamlama yoktur?  
A) Gece yorgun akan ırmak  
B) Tatlı seslerle coşuyor.  
C) Artık herkes uyanarak  
D) Kendi işine koşuyor.
18. Aşağıdakilerden hangisi büyük ünlü uyumu kuralına uygundur?  
A) Sabahleyin      B) Oturacak  
C) Geliyor      D) Koşarken
19. Aşağıdaki cümlelerin hangisinde özneyüklem uygunluğu yoktur?  
A) Sen, Fatih’le evde kalmalısın.  
B) Bahar gelince ağaçlar çiçek açtı.  
C) Ben, Orhan’la çalışmaya gidiyoruz.  
D) Hepimiz aynı şekilde mi hareket etmeliyiz?
20. 

Saka kuşu bir gün tuzağa düşen karıncayı kurtarmış. Karınca, “Bu iyiliğini unutmayacağım.” deyince saka kuşu kibirlenerek onu küçümsemiş. Bir zaman sonra saka kuşu bir tuzağa düşmüş. Bunu gören karınca arkadaşlarını toplayıp onu kurtarmış. Saka kuşu bu duruma şaşırılmış ve .....
---

  
Paragrafın aşağıdakilerden hangisiyle devam etmesi uygun değildir?  
A) “Bundan sonra büyülenmeyeceğim.” demiş.  
B) “Artık kimseyi küçümsemeyeceğim.” demiş.  
C) “Nasıl teşekkür edeceğimi bilemiyorum.” demiş.  
D) “Bir daha tuzağa düşmeyeceğim.” demiş.
21. Hangi cümlede gereksiz bir kelime yer almıştır?  
A) Önceden söylemedin ki geleyim.  
B) Toplantıya siz de mi katılmadınız?  
C) Benim kardeşim sizde mi?  
D) Evimizin bahçesinde her çeşit çiçek var.
22. Aşağıdaki kelimelerin hangisinde sert ünsüzlerin benzeşmesi olayı vardır?  
A) Yoğurdu      B) Dolabı  
C) Atlardan      D) Rengi
23. Aşağıdaki cümlelerin hangisinde isim tamlaması vardır?  
A) Onu üç gün önce yolda gördüm.  
B) Küçük araba yol ağzında arıza yaptı.  
C) Bu kitabı senden almıştım.  
D) Çalışkan çocuklara bayılırım.
24. Hangi seçenekte kelimeler arasındaki anlam ilişkisi diğerlerinden farklıdır?  
A) Hızlı - yavaş      B) Sert - yumuşak  
C) Sevgi - saygı      D) Eğri - doğru
25. 

Gül açmış yazması, Barışmış yüreğinde sabırla özlem, Önce cümleye sonra bize duası. Bir gurbet dönüşü içilen çayda, Bin yıllık huzuru demlemiş anne.
--

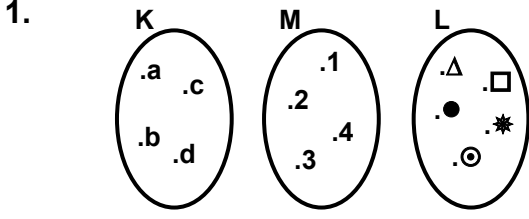
  
Şiirin ana duygusu nedir?  
A) Anne sevgisi      B) Sıla özlemi  
C) İnsan sevgisi      D) Mutlu olma isteği
26. “Dede Korkut’tan sana bazı parçalar okuyayım.” cümlesinin öznesi aşağıdakilerden hangisidir?  
A) Sana      B) Dede Korkut’tan  
C) Bazı parçalar      D) Ben
27. Hangi cümlede “bir” kelimesi kaldırıldığında anlatım bozukluğu olmaz?  
A) Bir gün geleceğini biliyordum.  
B) Kapıda uzun bir süre bekledi.  
C) Elinde bir demet çiçek vardı.  
D) Bir kat elbise alacağını söyledi.

## TÜRKÇE TESTİ

28. “..... kişinin ..... gideren bir arkadaştır.” cümlesinde boş bırakılan yerlere, hangi seçenekteki kelimelerin getirilmesi uygundur?
- A) Hayal-umudunu      B) Oyun-zamanını  
C) Kitap-yalnızlığını      D) Dost-neşesini
29. Hangi mısırda hâl eki almış kelime vardır?
- A) Bahçeler bir kar kuyusu,  
B) Ağaçlar bir gümüş şamdan.  
C) Dere akmaz, buz tutar su,  
D) Sesler kesilir akşamdan.
30. “Ders” kelimesi, hangi cümlede mecaz anlamıyla kullanılmıştır?
- A) Müzik dersi çok neşeli geçti.  
B) Dünkü olay bana ders oldu.  
C) İkinci ders az önce başladı.  
D) Bize dersten sonra geldi.

**TÜRKÇE TESTİ BİTTİ.  
MATEMATİK TESTİNE GEÇİNİZ.**

## MATEMATİK TESTİ

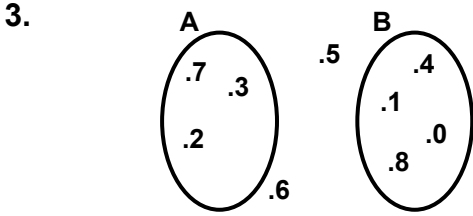


Şemaları verilen K, M ve L kümelerine göre aşağıdakilerden hangisi doğrudur?

- A)  $K=M$     B)  $M=L$     C)  $K=L$     D)  $K=M$

2.  $A=\{a,b,e,k,l,m\}$  kümesine d,f,p,r,y,v,z harflerinden kaç tanesi ilâve edilirse, A kümesi, rakamlar kümesine denk olur?

- A) 3    B) 4    C) 5    D) 6



Verilen şemaya göre aşağıdakilerden hangisi doğrudur?

- A)  $2 \text{ ve } 5 \in A$     B)  $6 \text{ ve } 8 \in B$   
C)  $3 \notin A \text{ ve } 0 \notin B$     D)  $5 \text{ ve } 6 \notin A$

4. 
$$\begin{array}{r} A \\ - \underline{B} \\ 680 \end{array}$$
 Verilen çıkarma işleminde, A ve B üçer basamaklı doğal sayılardır. A'nın birler basamağındaki 3 ile yüzler basamağındaki 9 rakamlarının yerleri değiştirilerek elde edilen sayıdan, B sayısı çıkarıldığında, fark kaç olur?

- A) 74    B) 86    C) 92    D) 98

5. 
$$\begin{array}{r} \dots \\ \times \underline{54} \\ + \underline{660} \\ \dots \end{array}$$
 Verilen çarpma işlemine göre, çarpım nedir?

- A) 6604    B) 6708    C) 7128    D) 7604

6. "Beş yüz iki milyon iki yüz üç" sayısının yazılışı hangisidir?

- A) 502000203    B) 50200203  
C) 500200203    D) 500202003

7. 
$$\begin{array}{r} A58 \\ + BCB \\ \hline 1634 \end{array}$$
 Verilen toplama işleminde, her harf bir rakamı gösterdiğine göre,  $A+B+C$  toplamı kaçtır?

- A) 20    B) 21    C) 22    D) 23

8.  $\frac{a+5}{a}$  nın doğal sayı olması için, a yerine yazılabilecek doğal sayıların toplamı kaçtır?

- A) 4    B) 6    C) 8    D) 10

9. 6 doğal sayının aritmetik ortalaması 122 dir. Bunlardan 5 tanesinin aritmetik ortalaması 125 ise altıncı sayı aşağıdakilerden hangisidir?

- A) 107    B) 100    C) 25    D) 3

10. İki doğal sayının toplamı 105 tir. Sayılardan biri diğerinin 6 katı ise büyük sayı kaçtır?

- A) 15    B) 45    C) 60    D) 90

11. Kilogramı 27000 liradan alınan yaş sabun, kuruduktan sonra tartıldığında kilogramının 30000 liraya geldiği görülmüştür. Buna göre, 10 kilogram yaş sabun kurduğunda, ağırlığı kaç kilogram azalır?

- A) 0,5    B) 1    C) 1,5    D) 2

12. 8 mendilin fiyatı 1 çorabın fiyatına, 3 çorabın fiyatıda 1 gömleğin fiyatına eşittir. 720 000 liraya bir gömlek alan bir kişi, bu para ile mendil alsaydı bir mendilin fiyatı kaç lira olurdu?

- A) 12 000    B) 24 000    C) 30 000    D) 36 000

13. Bir tane elma 700 lira, bir tane muz 2000 liradır. 30000 liralık elma ve muz alan bir adam, en fazla kaç tane elma almış olur?

- A) 40    B) 38    C) 35    D) 32

14. Bir sayının,  $\frac{1}{3}$  ü ile  $\frac{1}{15}$  inin toplamı 6 dir. Buna göre, sayının tamamı kaçtır?

- A) 12    B) 15    C) 18    D) 21

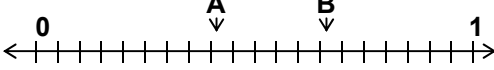
15. Bir bütünün onda birinden, yüzde biri çıkarılıp; fark, yüz ile çarpılırsa, çarpım bütünün kaç katı olur?

- A) 1    B) 8    C) 9    D) 10

## MATEMATİK TESTİ

16. Bir miktar paranın,  $\frac{2}{15}$  i 20000 liradır. Bu paranın  $\frac{1}{5}$  i ile tanesi 3000 lira olan defterlerden kaç tane alınabilir?

A) 30      B) 20      C) 15      D) 10

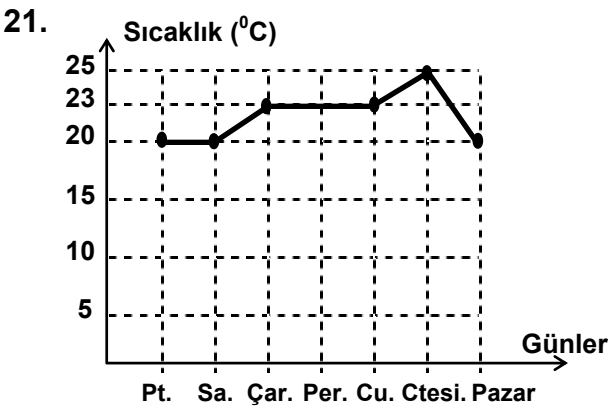
17.  Verilen sayı doğrusunda 0 ile 1 arası 20 eşit parçaya ayrılmıştır. Buna göre, A ve B noktalarına karşılık gelen ondalık sayıların toplamı kaçtır?

A) 1,05      B) 1,08      C) 1,11      D) 1,13

18.  $(2 \times 10) + (7 \times 1) + (8 \times \frac{1}{10}) + (6 \times \frac{1}{100})$  sayısı aşağıdakilerden hangisine eşittir?
- A) 27,068      B) 27,086      C) 27,68      D) 27,86

19. A ile B şehirlerinin arasındaki yolun uzunluğu 36,25 km dir. Bu iki şehir arasındaki yolun üzerinde, A dan 5,85 km uzakta bir köy, B den 9,7 km uzakta başka bir köy vardır. Yolun iki köy arasındaki kalan kısmı kaç km dir?
- A) 25,55      B) 25,4      C) 20,75      D) 20,7

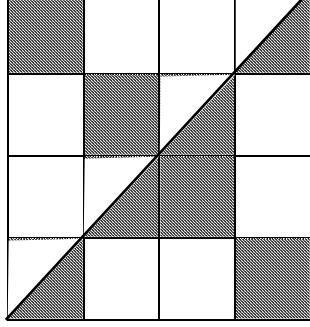
20.  $1,25 \text{ m} + 0,5 \text{ dm} + 10 \text{ mm}$  toplamı kaç cm dir?
- A) 176      B) 131      C) 130,1      D) 125,1



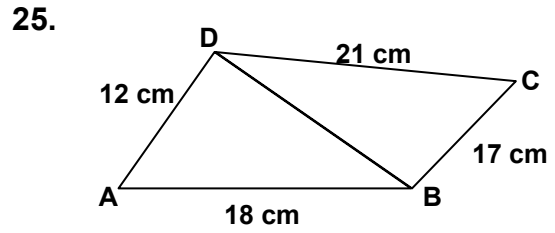
Şekildeki grafikte bir haftalık sıcaklık değişimi gösterilmiştir. Haftanın sıcaklık ortalaması kaç derecedir?

A) 20      B) 21      C) 22      D) 23

22. 0,25 saatte 18 hm yol alan bir bisikletli,  $1\frac{1}{6}$  saatte kaç metre yol alır?
- A) 1260      B) 3600      C) 7400      D) 8400

23.  Şekildeki karenin kenarları dörder eşit parçaya bölünmüştür. Taralı bölgelerin alanlarının toplamı  $6 \text{ cm}^2$  ise, taralı olmayan bölgelerin alanları toplamı kaç  $\text{cm}^2$  dir?
- A) 8      B) 9      C) 10      D) 12

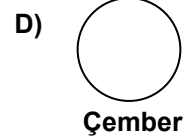
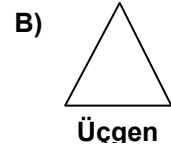
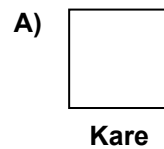
24. Aşağıda verilen ifadelerden hangisi yanlıştır?
- A) Doğru her iki tarafa sınırsız olarak uzatılabilir.  
B) Doğru bir ucundan sınırlıdır.  
C) Farklı iki noktadan bir doğru geçer.  
D) Bir noktadan sınırsız sayıda doğru geçer.



Kenar uzunlukları şekilde verilen ABD üçgeninin çevresinin uzunluğu 43 cm ise, DBC üçgeninin çevresinin uzunluğu kaç cm dir?

A) 45      B) 48      C) 51      D) 57

26. Aşağıdaki geometrik şekillerden hangisinin simetri eksenini en fazladır?

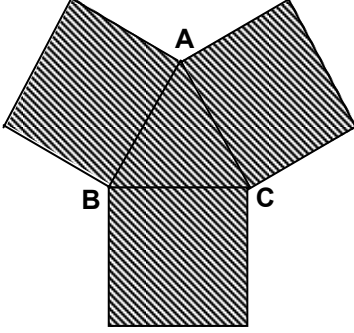


## MATEMATİK TESTİ

27. Düzgün bir altıgenle, düzgün bir beşgenin çevreleri birbirine eşittir. Düzgün beşgenin bir kenarı 18 cm ise, düzgün altıgenin bir kenarı kaç cm dir?

A) 17      B) 16      C) 15      D) 14

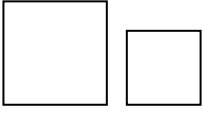
28.



Şekilde, çevresinin uzunluğu 18 cm olan ABC eşkenar üçgeninin kenarları üzerine kareler çizilmiştir. Taralı şeklin çevresinin uzunluğu kaç cm dir?

A) 48      B) 54      C) 60      D) 66

29.

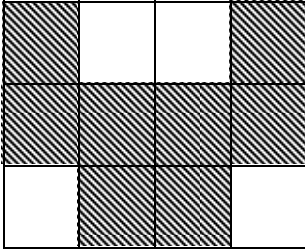


Şekildeki büyük karenin bir kenarı, küçük karenin bir kenarından 3 cm daha uzundur. Küçük karenin

alanı  $36 \text{ cm}^2$  ise, büyük karenin alanı kaç

A) 49      B) 64      C) 81      D) 100

30.



Şekildeki ABCD dikdörtgeni birbirine eşit karelerden oluşmuştur. Taralı bölgenin çevresinin uzunluğu 48 cm ise, ABCD dikdörtgeninin alanı kaç  $\text{cm}^2$  dir?

A) 72      B) 81      C) 96      D) 108

MATEMATİK TESTİ BİTTİ.  
FEN BİLGİSİ TESTİNE GEÇİNİZ.

## FEN BİLGİSİ TESTİ

1. Aşağıdakilerden hangileri yeryüzü şeklinin değişmesine bağlı olarak meydana gelebilir?  
I- Yer altındaki şehir kalıntıları  
II- Sönmüş yanardağların faaliyete geçmesi  
III- Verimli tarım topraklarının oluşması  
A) I-II B) I-III C) II-III D) I-II-III
2. Güneş ışınları Ekvator'un üzerine 90° açı yaparak düştüğünde aşağıdakilerden hangilerinin kesinlikle olması beklenir?  
I- Her iki yarım kürenin eşit miktarda ışık alması  
II- Ekvator'daki sıcaklığın artması  
III- Dünya'nın Güneş'ten aldığı ışık ve ısı enerjisinin azalması  
A) Yalnız I B) I-II  
C) II-III D) I-II-III
3. Saf bir maddenin erime sıcaklığı aşağıdakilerden hangisine bağlıdır?  
A) Maddenin hacmine  
B) Maddenin kütlesine  
C) Kullanılan ısı kaynağına  
D) Maddeye etkleyen basınca
4. 1 cm<sup>3</sup> ünün kütlesi 2,5 gram olan taşın 20 cm<sup>3</sup> ü kaç gramdır?  
A) 20 B) 25 C) 45 D) 50
5. Aşağıdakilerin hangisinde belirtilenlerin her ikisi de maddelerin ortak özelliğidir?  
A) Kütle - Renk B) Hacim - Şekil  
C) Kütle - Hacim D) Şekil - Renk
6. Saydam maddelerle ilgili aşağıdaki bilgilerden hangileri doğrudur?  
I- Işığın büyük bölümünü geçirirler.  
II- Yarı saydam hâle getirilebilirler.  
III- Hepsi de sıvıdır.  
A) Yalnız I B) I-II  
C) II-III D) I-II-III
7. Bir cismin düz aynadaki görüntüsü ile kendisi arasındaki uzaklık 20 cm dir. Cisim aynaya 2 cm yaklaştırılırsa, görüntüsü ile ayna arasındaki uzaklık kaç cm olur?  
A) 18 B) 16 C) 9 D) 8
8. Bir düz aynaya gelen ışık ışınının ayna ile yaptığı açı 20° dir. Yansıyan ışın ile gelen ışın arasındaki açı kaç derecedir?  
A) 160 B) 140 C) 90 D) 70
9. Aşağıdakilerin hangilerinde güneş ışığı etkilidir?  
I- Sebze ve meyvelerin olgunlaşmasında  
II- Havadaki bazı mikropların ölmesinde  
III- Yeşil bitkilerin besin yapmasında  
A) I-II B) I-III C) II-III D) I-II-III
10. Bir demir çubuk, kumaş parçasına önce çıplak elle sonra naylon torba ile tutulup sürtülüyor. Demir çubuk öncekinde küçük kâğıt parçalarına etki etmezken sonrakinde küçük kâğıt parçalarını kendine doğru çekiyor. Buna göre aşağıdakilerden hangileri söylenebilir?  
I- İnsan vücudunun iletken olduğu  
II- Naylonun elektriği iletmediği  
III- Demir çubuğun sürtme ile elektriklenebildiği  
A) I-II B) I-III C) II-III D) I-II-III
11. Elektrikli araçların kullanımında aşağıdakilerden hangilerine dikkat edilmelidir?  
I- Üretim tarihine  
II- Aracın kaç voltla çalışabileceğine  
III- Kullanılan enerjinin hangi santralden elde edildiğine  
A) Yalnız II B) I-III  
C) II-III D) I-II-III
12. Aşağıdakilerden hangisinin yakacak olarak kullanılması en uygundur?  
A) Odun B) Linyit  
C) Fuel oil D) Doğal gaz
13. Aşağıdakilerden hangilerinin yapılması bir ağacın meyve verimini artırır?  
I- Gübreleme  
II- Düzenli sulama  
III- Zamanında ilaçlama  
A) I-II B) I-III C) II-III D) I-II-III

## FEN BİLGİSİ TESTİ

14. Aşağıdakilerden hangisi çevre kirliliğine neden olabilir?
- A) Evlerdeki ısı kaybının önlenmesi  
B) Trafikteki taşıt sayısının artması  
C) Toplu taşımacılığa önem verilmesi  
D) Tarımda hayvansal gübre kullanılması
15. Canlılarda aşağıdaki özelliklerden hangileri ortak değildir?
- I- Besin yapma  
II- Yumurtayla çoğalma  
III- Solunum yapma
- A) Yalnız I  
B) I-II  
C) II-III  
D) I-II-III
16. Aşağıdakilerden hangisi bitkide kökün görevidir?
- A) Su almak  
B) Besin yapmak  
C) Oksijen vermek  
D) Karbondioksit almak
17. Aşağıdaki bitkilerin hangisinde tohum bulunmaz?
- A) Eğreltide  
B) Nilüferde  
C) Papatyada  
D) Turpta
18. Aşağıdakilerden hangisi, besinini dışarıdan hazır olarak alır?
- A) Su yosunu  
B) Eğrelti  
C) Kara yosunu  
D) Mantar
19. Aşağıdakilerden hangisi hem et hem de otlarla beslenir?
- A) Kaplumbağa  
B) Kartal  
C) Fil  
D) Tavşan
20. Aşağıdakilerden hangisi kuluçkaya yatar?
- A) Kanarya  
B) Kertenkele  
C) Kaplumbağa  
D) İstavrit

FEN BİLGİSİ TESTİ BİTTİ.  
SOSYAL BİLGİLER-DİN KÜLTÜRÜ ve AHLÂK  
BİLGİSİ TESTİNE GEÇİNİZ.



## SOSYAL BİLGİLER-DİN KÜLTÜRÜ ve AHLÂK BİLGİSİ TESTİ

1. Aşağıdaki bilgilerden hangisi, Karahanlılarla ilgili değildir?
- A) Devletin resmî dili Türkçe'dir  
B) Yıkılışına, Dandanakan Savaşı sebep olmuştur  
C) Doğu ve batı diye iki kola ayrılmışlardır  
D) Bilinen ilk hükümdarları Bilge Kül Kadir Han'dır
2. Hz.Muhammed, insanları İslâm Dini'ne davet etmeye, ilk defa nerede başlamıştır?
- A) Taif'te  
B) Medine'de  
C) Hayber'de  
D) Mekke'de
3. Bağdat şehrinin bir bilim ve ticaret merkezi haline gelmesi, hangi dönemde olmuştur?
- A) Abbasiler  
B) Dört Halife  
C) Emeviler  
D) Hz.Muhammed
4. 751 tarihinde Müslüman Araplarla-Çinliler arasında yapılan ve Türk dünyası için de bir dönüm noktası olan savaş, aşağıdakilerden hangisidir?
- A) Talas  
B) Dandanakan  
C) Katvan  
D) Nihavend
5. Büyük Selçuklu Devleti'nin en geniş sınırlarına ulaşması, hangi sultan döneminde gerçekleşmiştir?
- A) Tuğrul Bey  
B) Alp Arslan  
C) Melikşah  
D) Sancar
6. Malazgirt Meydan Savaşı'nın en önemli sonucu aşağıdakilerden hangisidir?
- A) Bizans imparatorunun esir edilmesi  
B) Bizans imparatoru ile antlaşma yapılması  
C) Anadolu kapılarının Türklere açılması  
D) Türklerin İslâm'ın koruyuculuğunu üstlenmesi
7. Sınırlarımız içinden doğup kıyılarımızdan denize dökülen en uzun akarsuyumuz hangisidir?
- A) Yeşilirmak  
B) Seyhan  
C) Kızılırmak  
D) Büyük Menderes
8. 1:2.000.000 ölçekli bir haritada iki şehir arası 6 cm ise, gerçek uzaklık kaç kilometredir?
- A) 1,2  
B) 12  
C) 120  
D) 1200
9. Aşağıdaki sıra dağlardan hangisi, Kuzey Anadolu Dağları içerisinde yer almaz?
- A) Canik  
B) Küre  
C) Bolkar  
D) Ilgaz
10. I- Mısır  
II- Muz  
III- Ayçiçeği  
IV- Şeker pancarı  
V- Çay
- Yukarıdaki tarım ürünlerinden hangileri Marmara Bölgesi'nde yetiştirilmez?
- A) I-II  
B) I-III  
C) II-IV  
D) II-V
11. Pamuklu dokuma sanayi, aşağıdaki bölgelerin hangisinde daha çok gelişmiştir?
- A) Akdeniz  
B) Güneydoğu Anadolu  
C) İç Anadolu  
D) Doğu Anadolu
12. Yurdumuzun en kurak bölgesi, hangisidir?
- A) Doğu Anadolu  
B) Ege  
C) Akdeniz  
D) Güneydoğu Anadolu
13. I- Evlenmemiş çocuklar  
II- Büyük baba  
III- Baba  
IV- Yenge  
V- Anne  
VI- Amca
- Yukarıdakilerden çekirdek aileyi oluşturan bireyler, hangisinde birlikte verilmiştir?
- A) I-V-VI  
B) II-III-IV  
C) I-III-V  
D) II-IV-VI
14. I- Gelenekler  
II- Anayasa  
III- Kanun  
IV- Görenekler  
V- Ahlâk kuralları  
VI- Yönetmelik
- Yukarıdakilerden toplum hayatını düzenleyen yazılı kurallar, hangisinde birlikte verilmiştir?
- A) II-III-IV  
B) III-V-VI  
C) II-III-VI  
D) I-IV-V
15. Aşağıdakilerden hangisi, milleti meydana getiren unsurlardan tarih birliğinin oluşmasını sağlar?
- A) Ortak geçmişe sahip olmak  
B) Aynı topraklar üzerinde yaşamak  
C) Aynı ülküyü paylaşmak  
D) Aynı kültüre sahip olmak

## SOSYAL BİLGİLER-DİN KÜLTÜRÜ ve AHLAK BİLGİSİ TESTİ

DİN KÜLTÜRÜ ve AHLAK BİLGİSİ DERSİ OKUYANLAR AŞAĞIDAKİ SORULARI CEVAPLAYACAKLAR. OKUMAYANLAR BUNUN YERİNE, AYNI NUMARALI SOSYAL BİLGİLER SORULARINI CEVAPLAYACAKLAR.

DİN KÜLTÜRÜ ve AHLAK BİLGİSİ DERSİ OKUMAYANLAR, AŞAĞIDAKİ SOSYAL BİLGİLER SORULARINA CEVAP VERECEKLER. OKUYANLAR CEVAP VERMEYECEK.

16. Aşağıdakilerden hangisi yanlıştır?
- A) Muhammed ül Emin(Güvenilen Muhammed), Peygamberimiz'in lâkabıdır.  
B) Hicret, Peygamberimiz'in Mekke'den Medine'ye göç etmesidir.  
C) Hıra, Peygamberimiz'e ilk vahyin geldiği mağaradır.  
D) Hatice, Peygamberimiz'in annesinin adıdır.
17. Aşağıdakilerden hangisi, namazdan önce yapılması gereken bir hazırlık değildir?
- A) Secde etmek  
B) Abdest almak  
C) Kibleye yönelmek  
D) Gereğince örtünmek
18. Hangisi oruç ibadetiyle ilgili değildir?
- A) Sahur B) İmsak C) İftar D) Tavaf
19. Fitre ile ilgili aşağıda verilen bilgilerden hangisi yanlıştır?
- A) Bir ibadet olarak fakirlere verilir.  
B) Fitre Allah'ın rızasını kazanmada araçtır.  
C) Fitre Kurban Bayramı'nda verilir.  
D) Ölçüsü, bir kişinin bir günlük yiyeceğidir.
20. Müslümanları yılın belli günlerinde Mekke'de bir araya getiren ibadet hangisidir?
- A) Namaz B) Oruç C) Hac D) Zekât

16. Aşağıdaki bilgilerden hangisi, Hititlerle ilgili değildir?
- A) İki türlü yazı kullanmışlardır.  
B) Çok tanrılı bir dinleri vardı.  
C) Mısırlılarla Kadeş Antlaşması'nı yaptılar.  
D) Lidyalılar tarafından yıkıldılar.
17. Anadolu Selçuklu Devleti'nde en fazla imar faaliyeti, aşağıdaki sultanlardan hangisi zamanında olmuştur?
- A) I.Alâeddin Keykubat  
B) I.Kılıç Arslan  
C) Süleyman Şah  
D) II.Gıyaseddin Keyhüsrev
18. Marmara Bölgesi'ndeki nüfus yoğunluğu Ege Bölgesi'nden daha fazladır. Bunda aşağıdaki-lerden hangisi daha etkili olmuştur?
- A) Yüzey şekillerinin sadeliği  
B) Ulaşım imkanlarının fazlalığı  
C) İklim özelliği  
D) Sanayinin gelişmişliği
19. Karadeniz Bölgesi'nin Zonguldak Yöresi'nde, demir-çelik endüstrisinin kurulmasında aşağıdaki madenlerden hangisi etkili olmuştur?
- A) Demir B) Bakır  
C) Taş kömürü D) Linyit
20. Aşağıdakilerden hangisi, köy muhtarı ve ihtiyar heyetinin görevlerinden değildir?
- A) Askerlik çağına gelenleri askerlik şubesine bildirmek  
B) Doğan, ölen ve evlenenleri nüfus memurluğuna bildirmek  
C) Yöredeki inşaatlara yapım ruhsatı vermek  
D) Okul çağına gelen çocukların okula devamını sağlamak

TEST BİTTİ.  
CEVAPLARINIZI KONTROL EDİNİZ.